



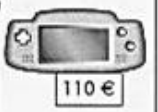







1. **CALCUL MENTAL – Additionner 9 ou 11**


2. **Calcule les différences suivantes :**

$5 - 3 = \dots\dots$	$14 - 4 = \dots\dots$	$8 - 5 = \dots\dots$
$6 - 4 = \dots\dots$	$13 - 5 = \dots\dots$	$10 - 5 = \dots\dots$
$9 - 8 = \dots\dots$	$18 - 1 = \dots\dots$	$20 - 5 = \dots\dots$
$6 - 5 = \dots\dots$	$19 - 7 = \dots\dots$	$12 - 6 = \dots\dots$
$4 - \dots\dots = 2$	$\dots\dots - 10 = 5$	$\dots\dots - 1 = 12$
$8 - \dots\dots = 5$	$\dots\dots - 6 = 6$	$\dots\dots - 9 = 10$

3. **Problème :**

**Barre** les objets que l'on ne peut pas acheter.  
**Ecris** pour chacun combien d'euros il manque.

				
				
Il manque				
€	€	€	€	€

Nombre de réponses justes



Je sais calculer des différences

OUI
MOYEN
NON

Je comprends la relation entre la soustraction et la notion de « manque »

OUI
MOYEN
NON













1. **CALCUL MENTAL – Additionner 9 ou 11**


2. **Calcule les différences suivantes :**

$5 - 3 = \dots\dots$	$14 - 4 = \dots\dots$	$8 - 5 = \dots\dots$
$6 - 4 = \dots\dots$	$13 - 5 = \dots\dots$	$10 - 5 = \dots\dots$
$9 - 8 = \dots\dots$	$18 - 1 = \dots\dots$	$20 - 5 = \dots\dots$
$6 - 5 = \dots\dots$	$19 - 7 = \dots\dots$	$12 - 6 = \dots\dots$
$4 - \dots\dots = 2$	$\dots\dots - 10 = 5$	$\dots\dots - 1 = 12$
$8 - \dots\dots = 5$	$\dots\dots - 6 = 6$	$\dots\dots - 9 = 10$

3. **Problème :**

**Barre** les objets que l'on ne peut pas acheter.  
**Ecris** pour chacun combien d'euros il manque.

				
				
Il manque				
€	€	€	€	€

Nombre de réponses justes



Je sais calculer des différences

OUI
MOYEN
NON

Je comprends la relation entre la soustraction et la notion de « manque »

OUI
MOYEN
NON

