

CALCUL MENTAL

Calculer avec des mesures de masses.
Ex. : 450 g + 30 g, 280 g - 20 g.

250.g

500.g


400.g

250.g

250.g

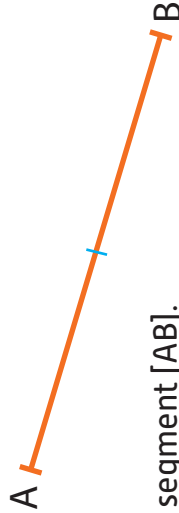
Manipulation
Guide p. 182

2 Marque le milieu de la baguette.



Je dois tracer un trait à ...6... cm de chaque extrémité de la baguette.

4 Mesure puis complète.



AB = ...6... cm

Marque M, le milieu du segment [AB].

À quelle distance de A se trouve le milieu M du segment [AB] ?

AM = ...3... cm

6 Trace un segment [NP] de 10 cm. Place A, milieu de [NP].



NA = AP = ...5... cm.

1 Nino fabrique un bracelet pour Pacha. Marque le milieu du ruban pour placer la médaille.

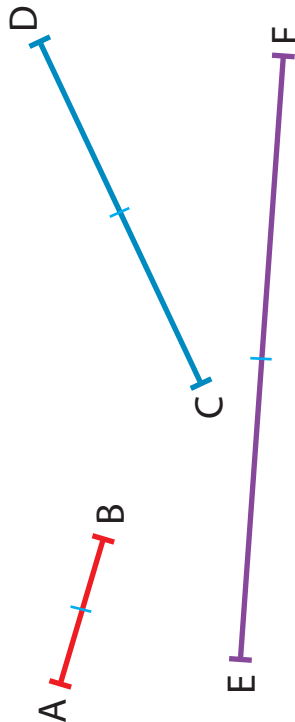


Utilise une règle graduée pour mesurer le ruban



Je dois tracer un trait à ...5... cm de chaque extrémité du ruban.

3 Marque le milieu de ces segments. Tu peux t'aider du matériel de ton choix.



5 Trace un segment [GH] de 8 cm. Place I, milieu de [GH].



GI = IH = ...4... cm.