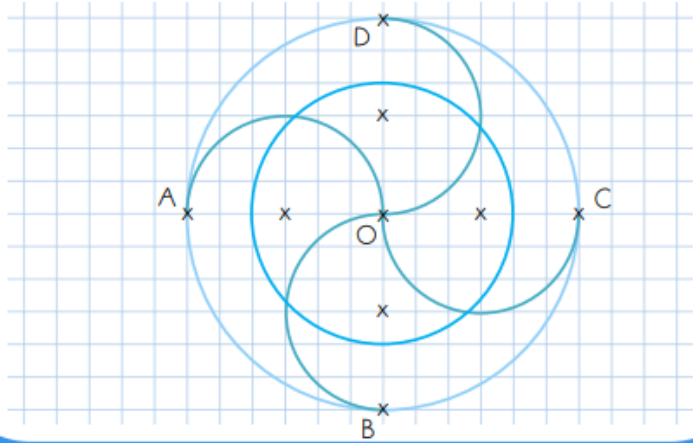
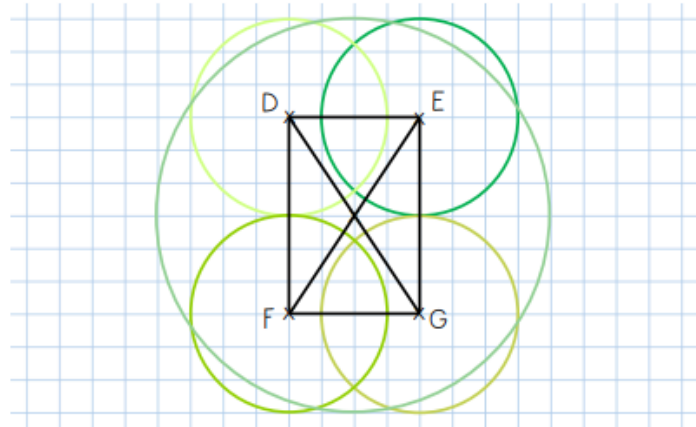


Reproduction de cercles

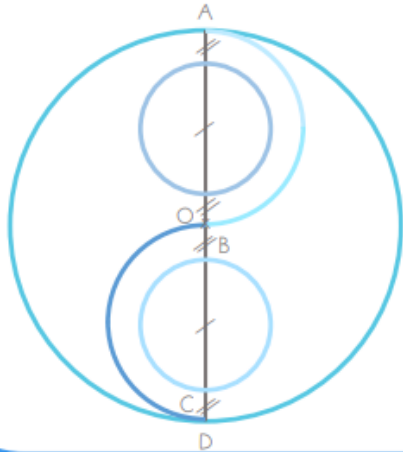
Reproduis la figure suivante en respectant les indications fournies.



Reproduis la figure suivante en respectant les indications fournies.

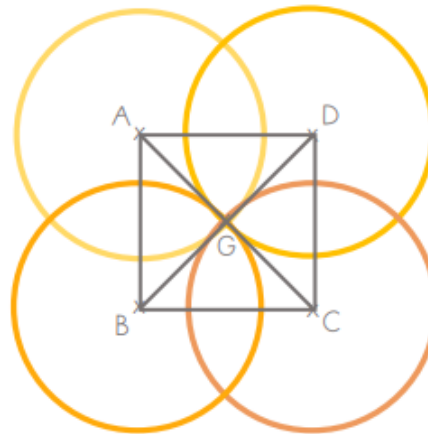


Reproduis la figure suivante en respectant les indications fournies.



- $[AD] = 6 \text{ cm}$
- $[OA] = 3 \text{ cm}$
- $[BC] = 2 \text{ cm}$
- $[OB] = 0,5 \text{ cm}$

Reproduis la figure suivante en respectant les indications fournies. ⑩



- $[GA] = 1,5 \text{ cm}$
- $[GD] = 1,5 \text{ cm}$
- $[GC] = 1,5 \text{ cm}$
- $[GB] = 1,5 \text{ cm}$

