


Prénom: _____

Mon programme



Signature des parents

Bilan:

- Programme dépassé
- Programme tenu
- Programme non tenu

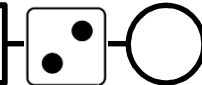
Remarques éventuelles:

LECTURE



- Choisis un livre du rallye lecture.
- Lis ton livre.
- Réponds au questionnaire associé.
- Range le livre et coche la case associée dans le tableau de suivi.

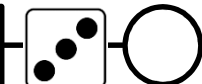
GRAMMAIRE



Entoure les verbes et souligne les COD:

- Le vendeur propose un costume bleu marine.
- On dirait un costume de marin.
- Jean déteste ce vêtement.
- Ça lui donnerait l'envie de pleurer.

VOCABULAIRE




Classe les sports suivants en deux listes: sports collectifs, sports individuels:

Le rugby – le handball – le tennis – l'escrime – le base-ball – l'équitation – la natation – le basket-ball – le judo – le hockey

Sports collectifs: _____

Sports individuels: _____

CONJUGAISON



Écris les phrases à la 1^{ère} personne du pluriel de l'imparfait:

(jouer): Nous _____ au football à la récréation.

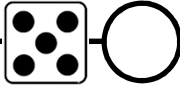
(anéantir): Nous _____ l'adversaire.

(échanger): Nous _____ les maillots.

(féliciter): Nous _____ l'équipe gagnante.

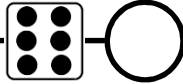
(sauter): Nous _____ de joie.

ORTHOGRAPHE



Remplace le mot trousse par cartable et recopie le groupe nominal:
cette petite trousse bleue et jaune

GRAMMAIRE



Complète les phrases par un COD:

- Le chat guette _____.
- Paul a cueilli _____.
- Mathilde prépare _____.
- Nous avons reçu _____.

CALCUL



Calcule:

$$\begin{array}{r} 49 \\ \times 2 \\ \hline \dots\dots\dots \end{array}$$

$$\begin{array}{r} 571 \\ \times 4 \\ \hline \dots\dots\dots \end{array}$$

CALCUL



Pose et effectue:

28×3

72×5

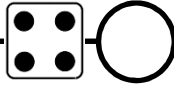
19×9

243×4

175×3

487×5

PROBLEME



Alain a acheté 8 dictionnaires à 15 euros l'unité.
Bernard a acheté 6 cartables à 29 euros l'unité.
Caroline a acheté 10 stylos plumes à 7 euros l'unité.
Qui a dépensé le plus? Qui a dépensé le moins?

Réponse: _____

MESURE



Convertis en km et m, comme dans l'exemple.

$$3\ 400\text{ m} = 3\ 000\text{ m} + 400\text{ m} = 3\text{ km } 400\text{ m}$$

$$5\ 216\text{ m} = \dots\dots\dots$$

$$3\ 795\text{ m} = \dots\dots\dots$$

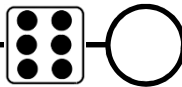
Convertis en m, comme dans l'exemple.

$$2\text{ km } 700\text{ m} = 2\ 000\text{ m} + 700\text{ m} = 2\ 700\text{ m}$$

$$3\text{ km } 100\text{ m} = \dots\dots\dots$$

$$6\text{ km } 240\text{ m} = \dots\dots\dots$$

PROBLEME



Combien de boîtes de 6 œufs pourra-t-on remplir avec 204 œufs?

Réponse: _____