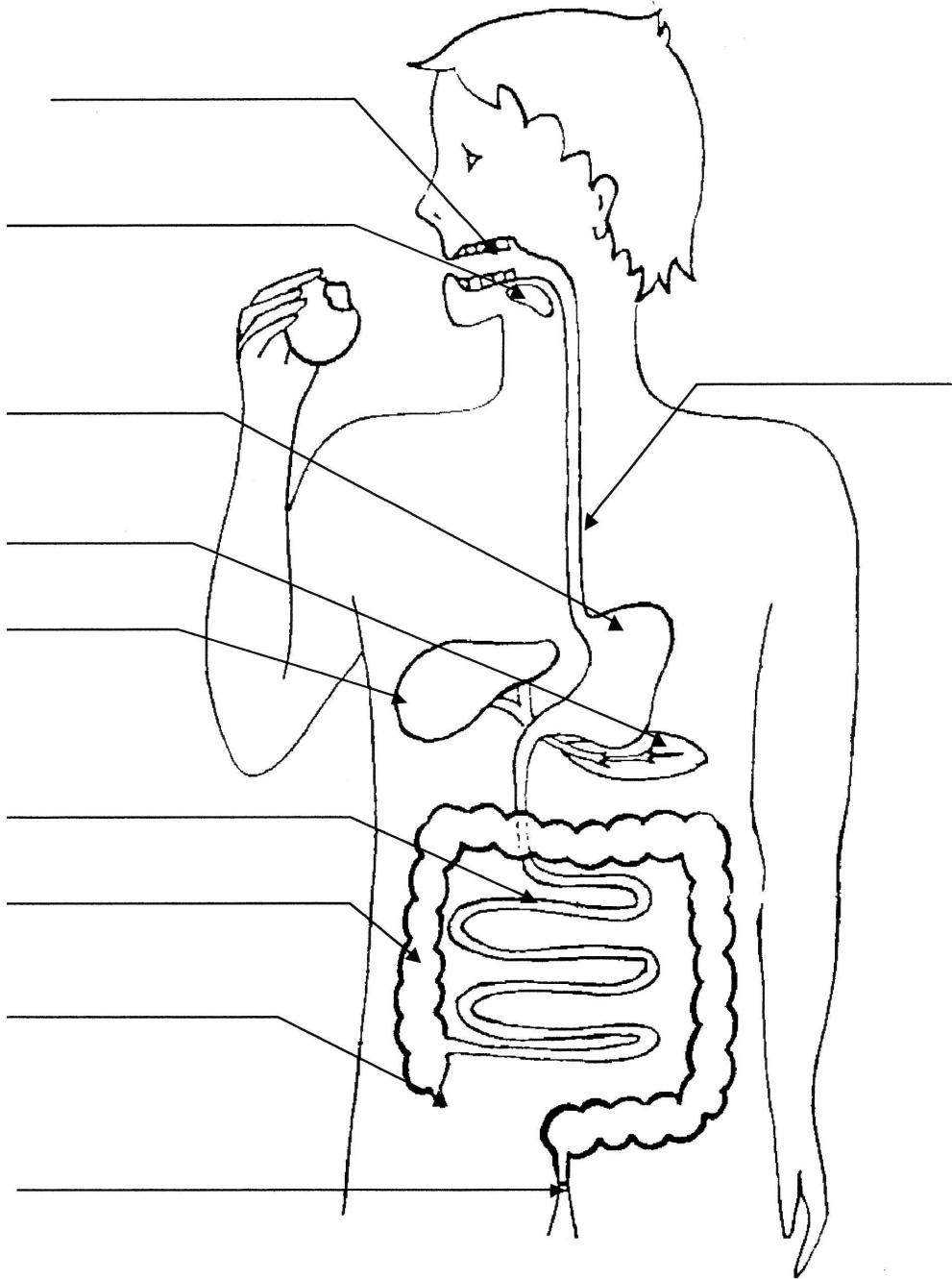


# EVALUATION DE SCIENCES

## La digestion

1. Complète le schéma suivant, trace en rouge le trajet des aliments et colorie en jaune deux parties du corps humain qui produisent des sucs digestifs.



2. Comment appelle-t-on les aliments qui sont décomposés en substances nutritives ?

3. Où les aliments utiles pour le corps sont-ils absorbés ?  
Comment sont-ils transportés dans toutes les parties du corps ?

.....

.....

.....

.....

.....

.....

4. Comment s'appelle la substance fabriquée par le foie ?

.....

5. Que deviennent les aliments qui n'ont pas été digérés ?

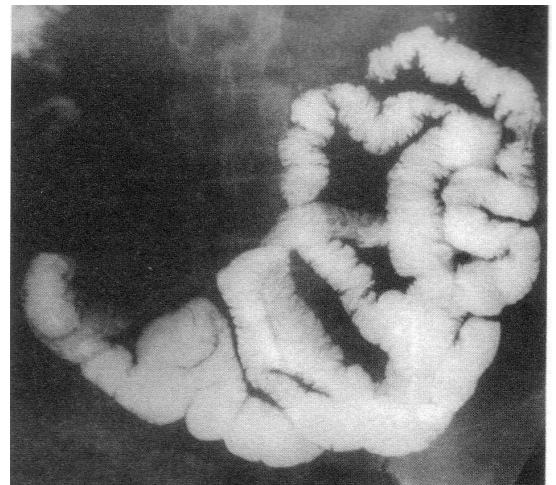
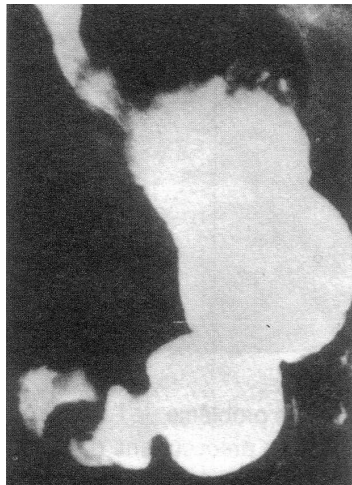
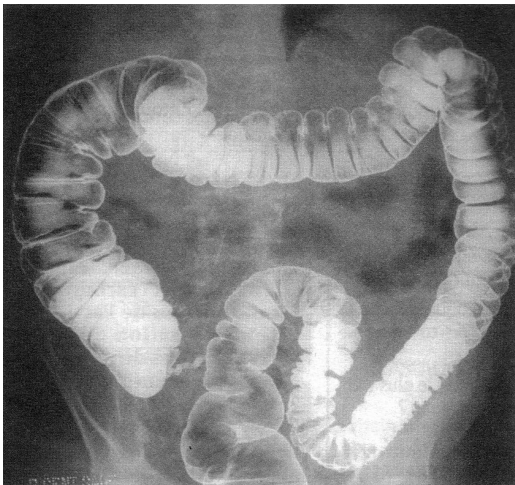
.....

.....

6. Relie les étapes de la transformation des aliments avec l'organe correspondant.

- |                |                       |                       |             |
|----------------|-----------------------|-----------------------|-------------|
| Intestin grêle | <input type="radio"/> | <input type="radio"/> | mastication |
| Estomac        | <input type="radio"/> | <input type="radio"/> | absorption  |
| Arrière-bouche | <input type="radio"/> | <input type="radio"/> | évacuation  |
| Bouche         | <input type="radio"/> | <input type="radio"/> | brassage    |
| Gros intestin  | <input type="radio"/> | <input type="radio"/> | déglutition |

7. Inscris sous chaque image le nom de la partie radiographiée.



.....

.....

.....