




Evaluation CP Mathématiques

Décembre

Prénom :

Date :

N1



N2

Place les signes < ou > ou =

5 ... 12	14 14	8 5
13 18	19 18	12 11


N3

Ecris les nombres à leur place.



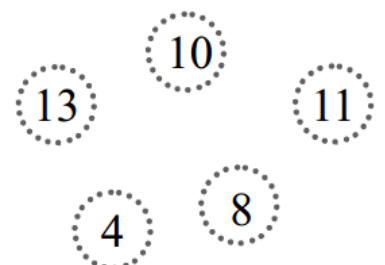
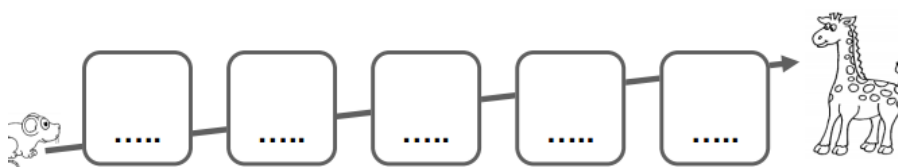
N4

Dictée de nombres : (jusqu'à 20)



N5

Écris les nombres du plus petit au plus grand.



Evaluation CP Mathématiques

Décembre

Prénom :

Date :

N 6 ○

Relie :

2
5
4
1
3

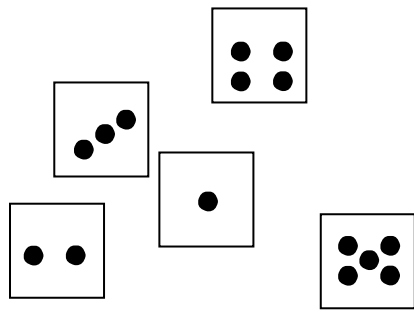
quatre

deux

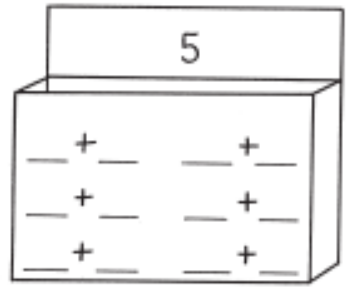

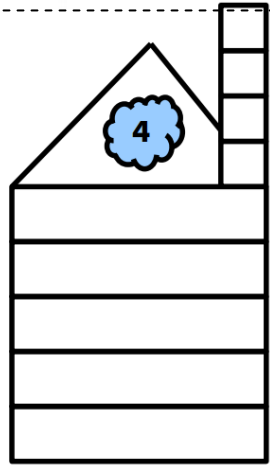
trois

un

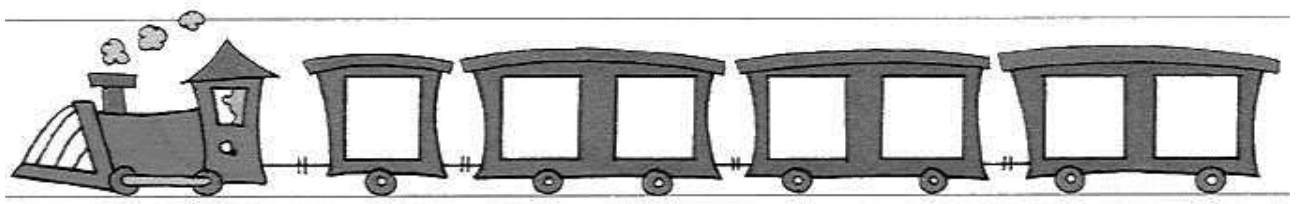
cinq



N 7 ○





C 1 ○






C 2 ○


combien de jetons faut-il donner à Pierre . Ecris la différence :



J'ai 6 jetons. 


J'ai 2 jetons. 


 



J'ai 5 jetons. 


J'ai 2 jetons. 


 



J'ai 8 jetons. 

J'ai 4 jetons. 

J'ai 10 jetons. 

J'ai 7 jetons. 

Prénom :

Date :

C 3 Calcule :

$2 + 8 = \dots$

$3 + 6 = \dots$

$4 + 4 = \dots$

$1 + 8 = \dots$

$1 + 8 = \dots$

$3 + 7 = \dots$

$5 + 4 = \dots$

$2 + 7 = \dots$

$3 + 5 = \dots$

$5 + 5 = \dots$

$4 + 6 = \dots$

$3 + 3 = \dots$

C 4 Calcule :

$5 - 3 = \dots$

$4 - 1 = \dots$

$3 - 2 = \dots$

$4 - 0 = \dots$

$10 - 2 = \dots$

$7 - 3 = \dots$

$8 - 3 = \dots$

$6 - 1 = \dots$

$5 - 4 = \dots$

$5 - 5 = \dots$

$6 - 4 = \dots$

$7 - 2 = \dots$