


GRANDEURS et MESURES

Résous le problème


Mathéo rentre à l'école à 8h00, il ressort à 17h00.



Combien d'heures est-il resté à l'école ?

GRANDEURS et MESURES

Trouve la réponse.



9 heures

GRANDEURS et MESURES

Résous le problème


Maïwenn va à l'école à 8h00, elle ressort à 12h00.



Combien d'heures est-elle restée à l'école ?

GRANDEURS et MESURES

Trouve la réponse.



4 heures

GRANDEURS et MESURES

Résous le problème


Davina travaille 1 heure. Demain elle travaillera le double.



Combien d'heures travaillera-t-elle ?

GRANDEURS et MESURES

Trouve la réponse.



$1 + 1 = 2$ heures