

N°1

Les jours de la semaine

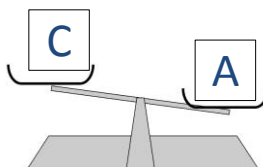
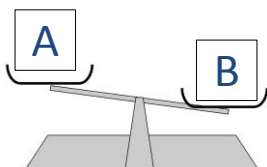
Après-demain, nous serons samedi.
Quel jour étions nous avant-hier ?

5
points

N°2

Le plus lourd

Range ces objets du plus lourd au plus léger.



5
points

N°3

Le bouquet de roses

C'est un joli bouquet de roses de toutes les couleurs.

Il y a 15 roses rouges . Il y a 3 roses blanches de plus que de roses rouges et 3 roses jaunes de moins que de roses rouges.

Combien le bouquet a-t-il de roses ?



10
points

N°4

Opérations codées

Chaque symbole remplace un chiffre. Retrouve-le.

$$\begin{array}{r} \star \star \\ - 64 \\ \hline \bullet 5 \end{array}$$

$$\begin{array}{r} \bullet \star \\ + \star \bullet \\ \hline 1 \bullet \blacktriangle \end{array}$$

$$\begin{array}{r} \blacktriangle \bullet \\ + \bullet \star \\ \hline \blacksquare \blacktriangle \end{array}$$

$\star = ?$

$\bullet = ?$

$\blacktriangle = ?$

$\blacksquare = ?$

10
points

N°5

Au suivant !

Ecris le dernier nombre de chaque liste.

24	26	28	30	...	
57	55	53	51	...	
116	119	122	125	...	
35	36	38	39	41	...
73	74	76	79	...	

15 points

N°6

Devinettes

1) Je suis un nombre compris entre 50 et 80. Le chiffre des dizaines est le même que celui des unités. La somme des chiffres qui me composent est 12. Quel nombre suis-je ?

2) Je suis un nombre à 3 chiffres inférieur à 400.

Mon chiffre des unités est le double de celui des dizaines. Le chiffre des centaines est le même que celui des dizaines. La somme de mes chiffres est 8.

Quel nombre suis-je ?

15 points

N°7

Les fruits

Marina, Yasmina, Bernard et Jean mangent régulièrement des fruits : oranges, bananes, pommes et poires.

Trouvez le fruit de chacun.

Yasmina ne mange ni pomme ni poire.

Bernard ne mange que des poires.

Jean n'aime pas les pommes et encore moins les bananes.

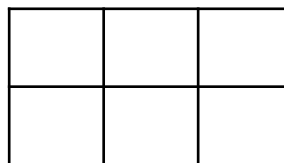


20 points

N°8

Les figures cachées

Trouve le nombre de carrés et de rectangles qui se cachent dans cette figure.



20 points

BULLETIN REPONSES

Equipe

1 Les jours de la semaine

Avant-hier, nous étions :

.....

2 Le plus lourd

Nous rangeons les objets du plus lourd au plus léger.



.....>.....>.....

3 Le bouquet de roses

Le bouquet est composé de roses.



4 Opérations codées

$$\begin{array}{r} \star \star \\ - 64 \\ \hline \bullet 5 \end{array}$$

$$\begin{array}{r} \bullet \star \\ + \star \bullet \\ \hline 1 \bullet \triangle \end{array}$$

$$\begin{array}{r} \triangle \bullet \\ + \bullet \star \\ \hline \square \triangle \end{array}$$

$\star =$

$\bullet =$

$\triangle =$

$\square =$

5 Au suivant !

Nous écrivons le nombre manquant :

24 26 28 30

57 55 53 51

116 119 122 125

35 36 38 39 41

73 74 76 79

6 Devinettes

1) Je suis le nombre :

2) Je suis le nombre :

7 Les fruits

Marina mange

Jasmina mange

Bernard mange

Jean mange

8 Les figures cachées

Nous trouvons carrés et

..... rectangles.

BULLETIN REPONSES

Equipe

1 Les jours de la semaine

Avant-hier, nous étions :

mardi

2 Le plus lourd

Nous rangeons les objets du plus lourd au plus léger.



B > A > C

3 Le bouquet de roses

Le bouquet est composé de 45 roses.



4 Opérations codées

$$\begin{array}{r} \star \star \\ - 64 \\ \hline \bullet 5 \end{array}$$

$$\begin{array}{r} \bullet \star \\ + \star \bullet \\ \hline 1 \bullet \triangle \end{array}$$

$$\begin{array}{r} \triangle \bullet \\ + \bullet \star \\ \hline \square \triangle \end{array}$$

★ = 9

● = 3

▲ = 2

■ = 6

5 Au suivant !

Nous écrivons le nombre manquant :

24	26	28	30	32	
57	55	53	51	49	
116	119	122	125	128	
35	36	38	39	41	42
73	74	76	79	83	

6 Devinettes

1) Je suis le nombre : 66

2) Je suis le nombre : 224

7 Les fruits

Marina mange ce qui reste, la pomme

Jasmina mange la banane

Bernard mange la poire

Jean mange l'orange

8 Les figures cachées

Nous trouvons 8 carrés et

10 rectangles.