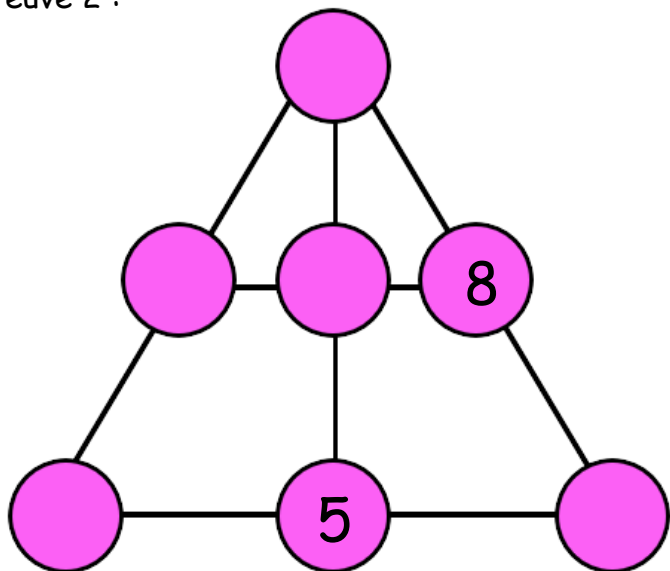
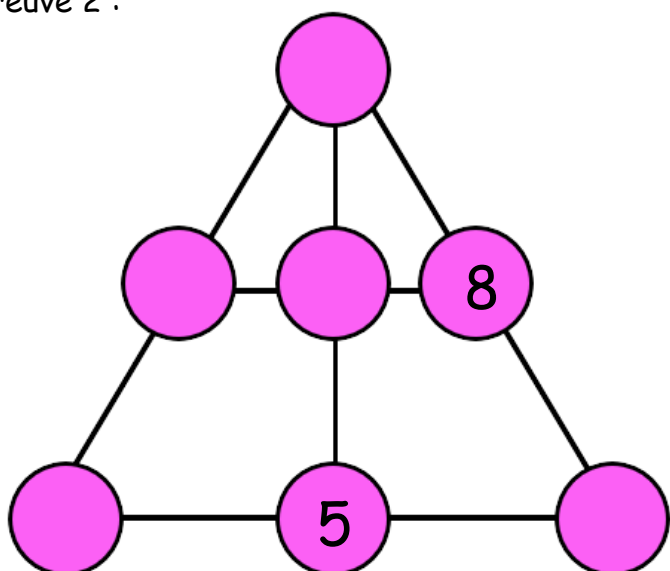


Epreuve 2 :



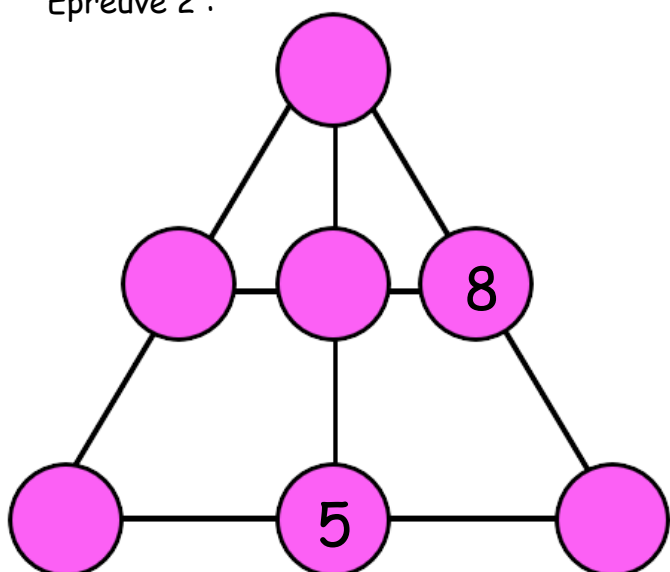
Place les nombres entre 4 et 10 dans les cercles. La somme des 3 nombres de chaque ligne doit toujours faire 21. N'utilise qu'une fois chaque nombre.

Epreuve 2 :



Place les nombres entre 4 et 10 dans les cercles. La somme des 3 nombres de chaque ligne doit toujours faire 21. N'utilise qu'une fois chaque nombre.

Epreuve 2 :



Place les nombres entre 4 et 10 dans les cercles. La somme des 3 nombres de chaque ligne doit toujours faire 21. N'utilise qu'une fois chaque nombre.

