

التقويم	الوضعيات التعليمية التعلمية	المراحل
<p>- تقويم تشخيصي .</p> <p>التعرف على مكتسبات التلاميذ وتمثلاتهم حول الموضوع</p> <p>- تقويم تكويني .</p> <p>يواكب سيرورة الدرس.</p> <p>ويسمح هذا النمط من التقويم بتتبع مستوى تحصيل التلاميذ وكذلك الصعوبات التي تعترضهم -ويسمح كذلك بتصحيح ثغرات التدريس .</p> <p>تقويم ختامي</p> <p>- تمارين ص 26 الكتاب المدرسي</p>	<p>تمهيد إشكالي : تعتبر الخلية وحدة تركيبية للجسم ، وتؤمن عمل وظائفه الذي يحتاج إلى مواد القيت وطاقة وثنائي الأوكسجين .</p> <p>- فكيف تنتج الخلية الطاقة من ثنائي الأوكسجين ومواد القيت ؟</p> <p>- وما مصدر ثنائي أكسيد الكربون الذي ينتج عن التنفس الخلوي ؟</p> <p>- وكيف توظف الخلية هذه المواد في نشاطها الخلوي ؟</p> <p>النشاط 1 :</p> <p>- الكشف عن التبادلات الغازية التنفسية على مستوى الأعضاء .</p> <p>تجربة (انظر الرسم)</p> <p>من خلال التجربة :</p> <p>- كيف تفسر تعكر ماء الجير ، وصعود الماء الملون في الأنبوب 1 ؟</p> <p>- لماذا لم نحصل عن نفس النتيجة في الأنبوب 2 ؟</p> <p>- ما الهدف من استعمال الماء الساخن (37°c) والانبوب 3؟</p> <p>- ما الهدف من التجربة ككل ؟</p> <p>الحصيلة المعرفية :</p> <p>- يرجع تعكر ماء الجير في الأنبوب 1 الى امتصاص CO₂ المطروح من طرف جزء العضلة الطرية خلال قيام نسيجه بوظيفة التنفس ، أما حجم الماء الذي سعد في الأنبوب (1) فقد عوض كمية غاز O₂ التي اختفت خلال عملية تنفس النسيج العضلي .</p> <p>- لم نحصل على نفس النتيجة في الأنبوب (2) لان جزء العضلة المستعملة مقتولة . وبالتالي لم تتم عملية التنفس .</p> <p>- استعمال الماء الساخن (37°c) ، لتمر التجربة في نفس الظروف التجريبية للجسم الذي أخذت منه العضلة أما الأنبوب (3) فقد استعمل كشاهد .</p> <p>- الهدف من التجربة هو الكشف عن عملية تنفس الأنسجة</p> <p>* استنتاج : العضلة تطرح CO₂ وتمتص O₂ ونعلم أن العضلة تتكون من مجموعة من الخلايا إذن هذه التبادلات التنفسية تتم على مستوى الخلايا .</p>	<p><u>- تمهيد إشكالي</u></p> <p><u>- تساؤلات</u></p> <p>1- التبادلات الغازية التنفسية عند الإنسان</p> <p>1- الكشف عن التبادلات الغازية التنفسية على مستوى الأعضاء .</p> <p>- تجربة</p> <p>- تحليا نتائج التجربة مع التفسير</p> <p>استنتاج :</p>

2- مكونات الجهاز التنفسي عند الإنسان

3- التبادلات الغازية على مستوى الرئة (الأسناخ الرئوية)

*4- التبادلات الغازية التنفسية على مستوى الأعضاء

3- تحرير طاقة مواد القيت تمهيد :

- النشاط 2 : مكونات الجهاز التنفسي عند الإنسان

- الجهاز التنفسي عند الإنسان (أنضر الرسم)

- رسم تخطيطي يبين مسار الغازات التنفسية (أنضر الخطاطة)

النشاط 3 : الوثائق 5- 6- 7- ص 19

* التبادلات الغازية على مستوى الرئة (الأسناخ الرئوية) انظر الرسم) تتم التبادلات الغازية التنفسية نتيجة اختلاف ضغط الأوكسجين و ثاني أوكسيد الكربون من جهتي الجدار بين الدم و الهواء السنخي ذلك أن الغازات تنتقل من الحيز الذي يكون فيه الضغط مرتفعا نحو الحيز الذي يكون فيه الضغط منخفضا إلى أن يتم تساوي الضغط ، و بما أن ضغط O2 في الدم الداخل للسنج أقل من ضغط O2 الهواء السنخي و العكس بالنسبة ل CO2 فإن : O2 يمر من الهواء السنخي إلى الدم و العكس بالنسبة ل CO2 .

- خصائص الأسناخ الرئوية :

- مساحة شاسعة - تعرق كبير - جدار الأسناخ الرئوية دقيق .


- ملحوظة 2

الإيقاع التنفسي هو عدد الحركات التنفسية في الدقيقة.

والحركة التنفسية = شهيق متبوع بزفير

* التبادلات الغازية التنفسية على مستوى الأعضاء

و تتجلى في أخذ الخلايا الأوكسجين من الدم و تطرح فيه ثاني أكسيد الكربون ، هذه التبادلات الغازية تتم نتيجة اختلاف ضغط الغازات التنفسية داخل الخلايا و الدم .



3- تحرير طاقة مواد القيت

تمهيد : ينتج عن التبادلات الغازية بين الهواء السنخي والدم على

مستوى الرئتين اغتناء الدم ب O2 وطرحه ل CO2 .

- ما مصير O2 الذي يغتنى به الدم على مستوى الأسناخ الرئوية ؟

- وما مصدر CO2 المطروح ؟

- النشاط 1 : الوثيقة 2+1 ص 20 .

- ما هي الأغذية التي يستهلكها الصائم ؟

- الأغذية التي يستهلكها الصائم هي : السكريات بالدرجة

الأولى ثم الدهون و أخيرا البروتينات .

- كما يستهلك L 300 من O2 و يطرح L 210 من CO2 .

- ما مصدر هذا الأغذية أثناء الصيام ؟

- فرضية : ربما هذه الأغذية مخزنة في بعض خلايا الجسم .

العضلات النسيج الودكي الكبد (...) ويتم اللجوء إليها عند الحاجة

- النشاط 1 : الوثيقة

2+1 ص 20 .

- ملاحظة

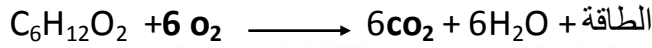
- إشكالية

- فرضية

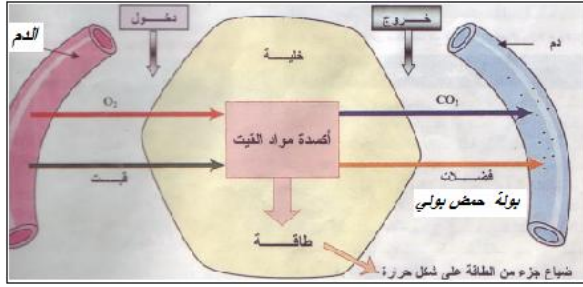
النشاط 2 :- التحقق
من الفرضية :
الوثيقة 3 ص 20 .

النشاط 2 :- التحقق من الفرضية : الوثيقة 3 ص 20 .

- من خلال الوثيقة يتبين :
- أن الخلايا العضلية تدرج الكليكوجين (شكل لتخزين الكليكوز) وأثناء الحاجة يتم حلمأة الكليكوجين الى كليكوز ليستعمل هذا الأخير من طرف الخلايا .
- أن العضلة تستهلك الكليكوز و O_2 وتحرر CO_2 و H_2O والطاقة وفق المعادلة التالية : (أكسدة الكليكوز) وهذا الاستهلاك يرتفع مع ارتفاع النشاط العضلي . (الوثيقة 8 ص 21)



كليكوز



النشاط 3 : الوثيقة 4 ص 20 :

- من خلال الوثيقة يمكن أن نستنتج : أن خلايا الجسم تتزود بالقيت

و O_2 من الوسط الداخلي للجسم (الدم واللمف)

- ينتج عن أكسدة مواد القيت (وخصوصا الكليكوز والأحماض الدهنية

و بكيفية ثانوية الأحماض الامينية) إنتاج الطاقة التي تحتاجها الخلية

وذلك من خلال تفاعلات كيميائية خلوية تستهلك O_2 وتطرح $CO_2 +$

H_2O وفضلات إنه **التنفس الخلوي** .

- توظف الخلايا جزء من هذه الطاقة لضمان عيشها وللقيام بأنشطة

خلوية وتبدد جزءا آخر منها على شكل حرارة ضائعة .

* **التنفس الخلوي** : عمليات أكسدة وتفكك للمادة العضوية داخل الخلية

بواسطة أنزيمات التنفس وبحضور O_2 والتي ينتج عنها تحرير الطاقة و

طرح ثنائي أكسيد الكربون والماء .

خلاصة : يتجلى التنفس الخلوي في استعمال O_2 لهدم مواد القيت

العضوية (سكريات , دهنيات , بروتيدات)

لإنتاج الطاقة الضرورية لنشاط الخلية ويترتب على ذلك طرح CO_2

والماء . توظف الخلية جزءا من هذه الطاقة لضمان عيشها وللقيام

بأنشطة خلوية ، وتبدد جزءا آخر منها على شكل حرارة ضائعة .

استنتاج

تعريف التنفس
الخلوي .

خلاصة :

3- التمثل الكيميائي الخلوي .

1- أهمية تجديد خلايا بعض الأعضاء ومتطلبات هذا التجديد .

النشاط 1 : الوثائق : 1-
2-3-4 ص 22 .

3- التمثل الكيميائي الخلوي .

النشاط 1 : الوثائق : 1- 2-3-4 ص 22

- بين أهمية تجديد خلايا بعض الأعضاء ومتطلبات هذا التجديد .

الخلايا	عدد الخلايا الميتة	مدة التجديد
خلايا معوية	مليون في الدقيقة	3 أيام
خلايا عصبية	200 ألف في اليوم عند الراشد	عدم التجديد
كريات حمراء	150 مليار في اليوم	120 يوما

- هناك خلايا تموت وأخرى تجدد وداخل الخلية نفسها هناك هدم وبناء من جديد للجزيئات .

- خلايا القلب و الخلايا العصبية إذا ماتت لاتجد ولكن تتجدد الجزيئات التي تكونها باستمرار .

- يتجدد الجلد برمته كل 25 يوما حيث تتقشر الخلايا السطحية الميتة (منطقة الكيراتين) باستمرار وتعوض بخلايا جديدة من البشرة الباطنية .

* استنتاج : تتجدد باستمرار معظم الخلايا والجزيئات المكونة لها . حتى بالنسبة للخلايا التي تدوم طيلة عمر الجسم (الخلايا العصبية والخلايا القلبية) تتجدد الجزيئات التي تكونها . ويتم هذا التجديد طبعاً ، من عناصر القيت الصادرة عن الأغذية .

النشاط 2 : الوثيقتان 5و6 ص 22

- حدد طبيعة الجزيئات المركبة لتجديد الخلايا . وهل تصلح جميع الجزيئات المركبة لتجديد الخلايا ؟

* تركيب البروتينات في خلايا بنكرياسية وطبيعة هذه البروتينات وظيفية (أنزيمات)

* يعمل الجسم على ادخار للسكريات والدهنيات في خلايا خاصة مثل خلايا الكبد والخلايا الودكية والعضلية . ولا يستعمل القيت المدخر إلا كمصدر لانتهاج الطاقة وليس لبناء المادة الحية

ملحوظة : يخزن الجسم الفائض من عناصر القيت

* استنتاج :

2 – الجزيئات التي تركيبها الخلايا .

*النشاط 2

الوثيقتان 5و6 ص

22

	<p>في النسيج الودكي (الشحم) الذي يوجد في النخاع الأصفر للعظام ، وفي البطن ، وتحت الجلد .</p> <p>وتصدر الدهون المدخرة في هذا النسيج إما مباشرة عن المواد الدهنية الواردة من التغذية أو عن تحويل السكريات الفائضة على مستوى الكبد .</p> <p>- استنتاج : تعمل الخلايا على تركيب بروتينات وظيفية (أنزيمات ، هرمونات ، مضادات الجسم ...) وكذلك بروتينات بنيوية (التي تدخل في بنية الخلية) كما يدخر الجسم ، القيت في أماكن متخصصة ليستعمله حسب الحاجة .</p> <p>النشاط 3 : الوثائق 7-8 ص 22-23 .</p> <p>- حدد طبيعة ومصدر العناصر التي تكون البروتينات .</p> <p>- أين توجد تصاميم تركيب البروتينات ؟</p> <p>- بين كيف تختلف البروتينات فيما بينها .</p> <p>* الحصيلة المعرفية :</p> <p>- تتكون البروتينات من الأحماض الأمينية ومصدر هذه الأخيرة مواد القيت.</p> <p>- توجد في نواة الخلية خيوطات تسمى الصبغيات هذه الأخيرة تحمل مورثات (جينات) تعتبر تصاميمها لتركيب البروتينات .</p> <p>- يتميز كل بروتين بعدد الأحماض الأمينية الذي تدخل في تركيب جزيئاته وكذلك بترتيب هذه الأحماض الأمينية فيها مما يجعل البروتينات تختلف فيما بينها . حيث قد يسبب تغيير حمض أميني في بروتين معين إلى الإصابة بمرض خطير .</p> <p>- خلاصة : لضمان عملها وعيشتها وتجديدها ، تحتاج الخلايا إلى مواد القيت والطاقة لتركيب مواد عضوية جديدة . حيث تتجمع الأحماض الأمينية داخل الخلية بأعداد وتسلسلات تحدد مورثات الخبر الوراثي لإنتاج بروتينات جديدة أنه</p> <p>التمثل الكيميائي الخلوي : assimilation cellulaire .</p>	<p>- استنتاج</p> <p>3- أين توجد تصاميم تركيب البروتينات .</p> <p>النشاط 3 : الوثائق 7-8 ص 22-23 .</p> <p>* الحصيلة المعرفية :</p> <p>- خلاصة :</p>
--	---	---

الوحدة الوظيفية للجسم

وظائف الاقنيات

الملف 2 التنفس *la Respiration*

1- التبادلات الغازية التنفسية عند الإنسان

2- تحرير طاقة مواد القيت

3- التمثيل الكيميائي الخلوي

التنفس *La Respiration*

المستوى : الثالثة ثانوي إعدادي

التوقيت : 4 ساعات

المكتسبات القبلية :

+ الحركات التنفسية + التنفس عند الإنسان + المسالك التنفسية العليا.
+ التنفس في أوساط مختلفة + أهمية التنفس .

أهداف الملف :

* الكشف عن التنفس الخلوي انطلاقا من تحليل معطيات ونتائج تجريبية ملائمة .
* التعرف على مصدر الطاقة الخلوية إنطاقا من تحليل معطيات ونتائج تجريبية ملائمة .
* استنتاج مفهوم التمثل الكيميائي في الخلية .
* التدريب على : + الملاحظة والمناقشة والتجريب . + خطوات النهج التجريبي. + إنجاز رسوم والرسوم التخطيطية + التعبير الشفهي والكتابي . + بناء ملخصات .

الوسائل التعليمية :

* قطع عضلة طرية ، أو أنسجة أخرى .
* أنابيب شعرية زجاجية . * كؤوس زجاجية .
* سدادات مطاطية * أواني التبلور * ماء الجير * جهاز قياس التنفس * جهاز قياس الأحجام الهوائية * جهاز عرض الصور الشفافة وصور شفافة في الموضوع . * مجلوف .
* وثائق الكتاب .