

Prénom:

# PLAN DE TRAVAIL N°14 - CE1



1

Conjugué les verbes au présent:

	GLISSER	SKIER	ETRE
NOUS			
ILS			
JE			
TU			
VOUS			

2

Je complète les phrases avec le verbe être au présent:

- Il \_\_\_\_\_ sur sa luge.
- Nous \_\_\_\_\_ dans la neige.
- Je \_\_\_\_\_ enrhumé!
- Vous \_\_\_\_\_ contents d'être dehors.
- Tu \_\_\_\_\_ le nez tout rouge.
- Elles \_\_\_\_\_ ensemble.

3

## Grammaire



Classe dans le tableau les différents noms :

luge, bonnet, hiver, montagne, chalet, ski, glissade, bataille, jeu, patin, écharpe, combinaison, moufle, gant, enfant, bonhomme, carotte, blouson

Noms masculins (un/le)	Noms féminins (la/une)

4

Colorie en rouge les noms féminins en bleu les noms masculins.

- l'étoile, l'olive, l'hiver, l'été,
- l'hippopotame, l'accident, l'ordinateur,
- l'envie, l'idée, l'automobile, l'avion, ,
- l'attention, l'addition, l'hélicoptère,
- l'hibou, l'éponge, l'ardoise, l'élève.



## Orthographe



Je réponds aux devinettes (en cherchant parmi les mots de la dictée)

Je suis une partie du corps humain.

Quand je le suis, je vais voir le docteur.

C'est un endroit où il y a de l'herbe, des fleurs, parfois des arbres fruitiers.



## Orthographe

Je trouve le MASCULIN des noms:

une fille ..... une tante .....

une femme ..... une reine .....

une sœur ..... une mère .....

une boulangère.....

une fermière.....



## Vocabulaire



Je range les mots dans l'ordre alphabétique

• bouteille, banane, bidon, bulle, bêtise

• limace, langue, lettre, loupe, luge

• crâne, corde, clan, cuvette, clou

• mèche, mouton, mulet, mitre, mâchoire



Classe ces mots en trois familles.  
(Entoure les mots d'une même famille en bleu, en rouge, en noir)

planter - chauffage - chaudière -  
chauffer - plantation - démonter -  
transplanter - réchaud - plante -  
chaud - montage - plant - remonter



Cherche dans le dictionnaire les mots et écris les mots de la même famille (point bleu)

Poli: \_\_\_\_\_


Poisson: \_\_\_\_\_



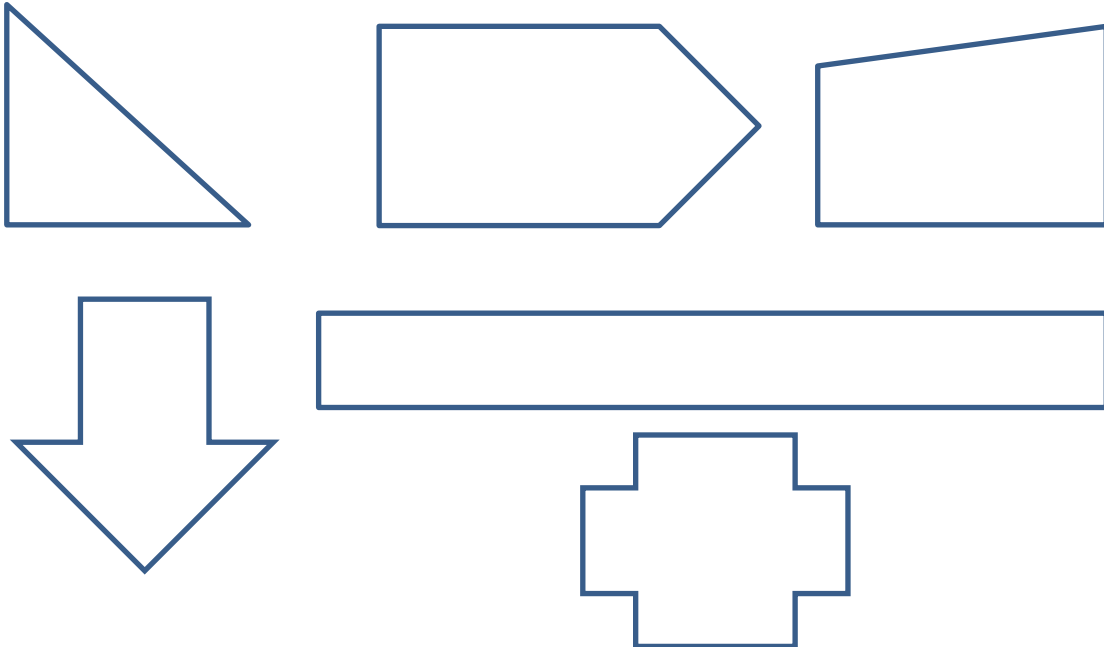


# Géométrie

Je reproduis la frise et je colorie:



Je trouve les angles droits.




# Problèmes

Réponds aux questions en t'aidant du tableau:



	lundi	mardi	jeudi	vendredi
BALLONS JAUNES	12	20	15	12
BALLONS VERTS	14	23	10	13
BALLONS ROUGES	13	17	22	15
BALLONS BLEUS	26	15	18	26

- Quel jour le marchand a-t-il vendu le plus de ballons rouges? \_\_\_\_\_
- Quelle couleur de ballons a-t-il le moins vendue le vendredi? \_\_\_\_\_
- Combien a-t-il vendu de ballons le vendredi? \_\_\_\_\_
- Quel jour a-t-il vendu le plus de ballons? \_\_\_\_\_




# Opérations



	2	8	5
+	3	6	8
<hr/>			

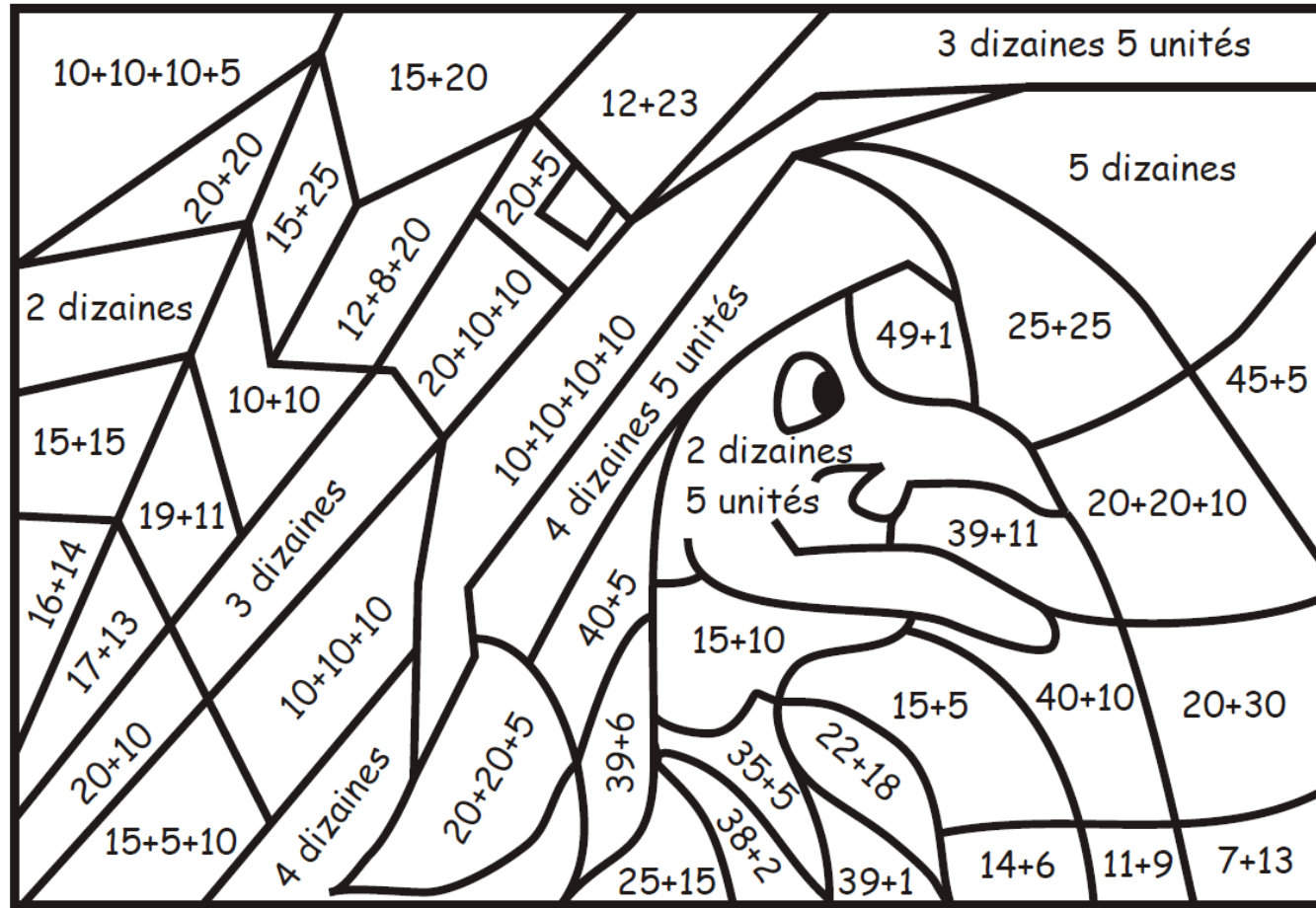
	4	5	7
+	3	9	9
<hr/>			

	1	4	6
+	2	8	4
<hr/>			



# Calcul

- $15 + 5 =$  \_\_\_\_\_
- $25 + 5 =$  \_\_\_\_\_
- $75 + 5 =$  \_\_\_\_\_
- $95 + 5 =$  \_\_\_\_\_
- $45 + 5 =$  \_\_\_\_\_
  
- $35 - 5 =$  \_\_\_\_\_
- $75 - 5 =$  \_\_\_\_\_
- $25 - 5 =$  \_\_\_\_\_
- $55 - 5 =$  \_\_\_\_\_
- $15 - 5 =$  \_\_\_\_\_




Vert foncé	20
Jaune	25
Marron	30
Bleu foncé	35
Violet	40
Rouge	45
Bleu clair	50


- $100 + 300 =$  \_\_\_\_\_
- $400 + 500 =$  \_\_\_\_\_
- $200 + 200 =$  \_\_\_\_\_
- $500 + 100 =$  \_\_\_\_\_
- $400 + 400 =$  \_\_\_\_\_
- $200 + 200 + 200 =$  \_\_\_\_\_

- $10 + 50 =$  \_\_\_\_\_
- $20 + 40 =$  \_\_\_\_\_
- $40 + 40 =$  \_\_\_\_\_
- $50 + 50 =$  \_\_\_\_\_
- $90 + 10 =$  \_\_\_\_\_
- $30 + 40 =$  \_\_\_\_\_

- $50 - 20 =$  \_\_\_\_\_
- $90 - 40 =$  \_\_\_\_\_
- $30 - 10 =$  \_\_\_\_\_
- $80 - 40 =$  \_\_\_\_\_
- $90 - 50 =$  \_\_\_\_\_
- $100 - 50 =$  \_\_\_\_\_







Map 2013 01/2014

