



Ce1

Mesure : niveau 1

Lis les nombres suivants et écris-les en chiffres :

Cinquante-quatre : **54**

Trente-huit : **38**

Soixante-deux : **62**

Quarante-neuf : **49**

Soixante-treize : **73**

Quatre-vingt-quinze : **95**

Cent vingt et un : **121**

L'exercice est réussi,
l'équipe gagne 1 point.



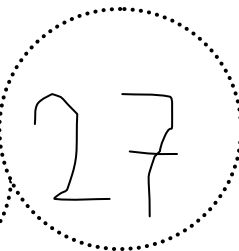


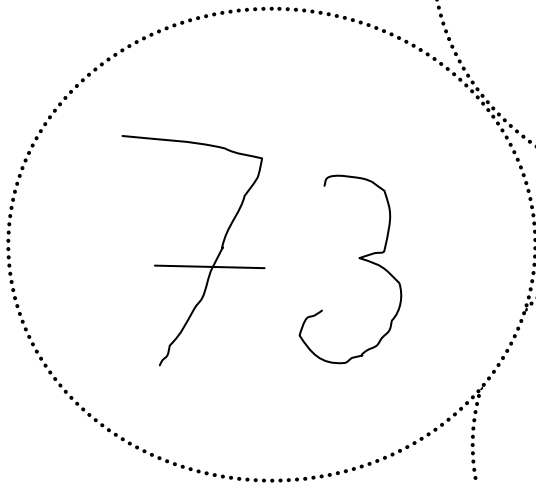



Ce1

Mesure : niveau 1

Range les nombres suivants du plus petit au plus grand :

63 - 27 - 73 - 55 - 85 - 68 - 19 - 23 - 47



Ecris ici le plus petit.

L'exercice est réussi,
l'équipe gagne 1 point.



Mesure : niveau 1

Calcule le plus vite possible. Attention aux signes. Si besoin, tu peux faire des dessins sur la feuille :

$$38 + 10 = 48$$

$$27 + 5 = 32$$

$$5 + 7 = 12$$

$$50 + 30 = 80$$

$$8 - 4 = 4$$

$$67 - 10 = 57$$

$$80 - 30 = 50$$

$$97 - 5 = 92$$

L'exercice est réussi,
l'équipe gagne 1 point.

On accepte 1 erreur.



Ce1

Mesure : niveau 2

Lis les nombres suivants et écris-les en lettres :

34 : trente-quatre

72 : soixante-douze

126 : cent vingt-six

L'exercice est réussi,
l'équipe gagne 2 points.

1 faute est acceptée



Ce1

Mesure : niveau 2

Trouve les nombres :

1. J'ai **16** dizaines et **3** unités.
Je suis le nombre : **163**

2. J'ai **2** centaines, **6** dizaines et **1** unité.
Je suis le nombre : **261**

3. Mon nombre des dizaines est **4**, celui des unités est **3** et celui des centaines est **1**.
Je suis le nombre : **143**

4. J'ai **8** groupes de **10** et **5** unités isolées.
Je suis le nombre : **85**

L'exercice est réussi,
l'équipe gagne 2 points.



Ce1

Mesure : niveau 2

Pose en colonnes ces 2 opérations :

$$56 + 18$$

et

$$75 + 36 + 7$$

$$\begin{array}{r}
 56 \\
 + 18 \\
 \hline
 74
 \end{array}$$

$$\begin{array}{r}
 75 \\
 + 36 \\
 + 7 \\
 \hline
 118
 \end{array}$$

L'exercice est réussi,
l'équipe gagne 2 points.