

Prénom:

Date:


Evaluation de grandeurs et mesure - CE2

/10

1) Je sais trouver le milieu d'un segment.



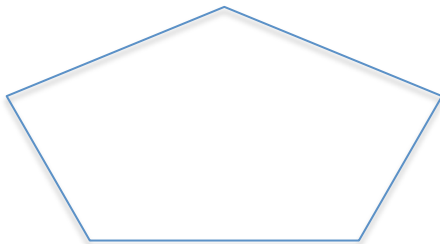
Trouve le milieu de chaque segment.



2) Je sais calculer le périmètre d'un polygone..



Calcule le périmètre de ces deux figures.



.....


.....

3) Je sais résoudre des problèmes impliquant les unités de longueur.



Chaque dimanche, il faut repasser le contour du terrain de rugby avec le tracteur de lignes. Le terrain a une forme rectangulaire.

100 m




Quelle longueur totale de lignes faut-il tracer?

.....

Le producteur de fruits veut protéger son champ des bêtes sauvages en posant un grillage tout autour. Son champ est un carré. Quelle longueur de grillage a-t-il besoin?

100 m



.....
