




Exercice 4 : Nathalie va dans plusieurs magasins. Elle achète différents produits.

Combien la caissière lui rend à chaque fois ?

Indique le prix en chiffres et dessine-le avec des pièces et des billets.



Objet	Prix de l'objet	Monnaie donnée par Nathalie	Monnaie rendue
	Un ours en peluche 7 € 50 c		
	Une paire de chaussures 32 €		
	Une gomme 0 € 37 c		
	Un robot 183 €		





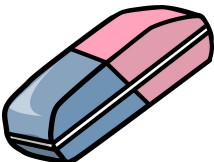



 <http://maitre-lolo.eklablog.com/> 

Exercice 4 : Nathalie va dans plusieurs magasins. Elle achète différents produits.

Combien la caissière lui rend à chaque fois ?

Indique le prix en chiffres et dessine-le avec des pièces et des billets.



Objet	Prix de l'objet	Monnaie donnée par Nathalie	Monnaie rendue
	Un ours en peluche 7 € 50 c		
	Une paire de chaussures 32 €		
	Une gomme 0 € 37 c		
	Un robot 183 €		

 <http://maitre-lolo.eklablog.com/> 