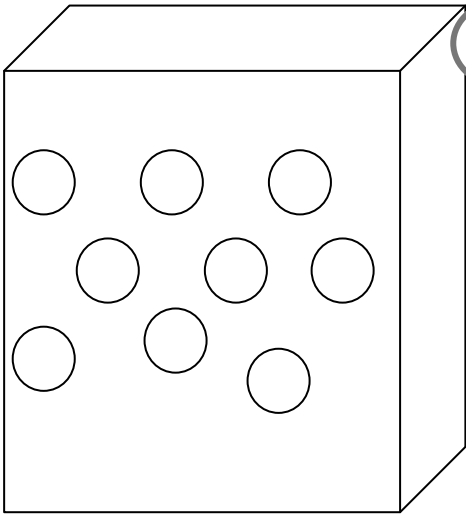




Je cherche, je dessine puis je réponds.




1

Thibault a 9 billes dans sa boîte, il en perd 3 à la récréation .

♥ **Combien a-t-il de billes maintenant ?**

◆ _____ = _____

♣ Thibault abilles.



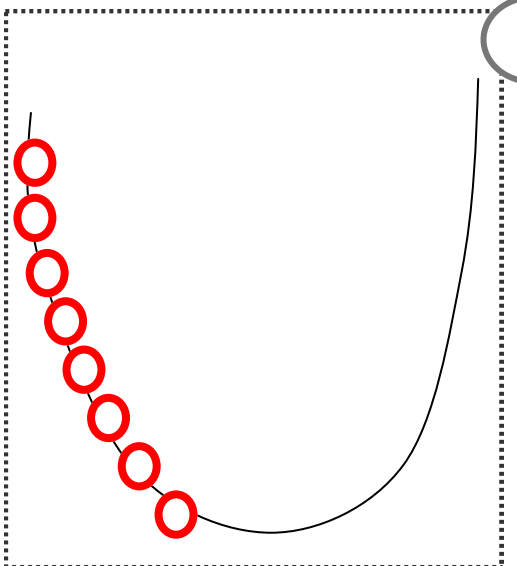
2

Fabien a 7 bonbons, il en mange 2 .

♥ **Combien lui en reste-t-il ?**

◆ _____ = _____

♣ Il lui restebonbons.




3

Marion fait un collier de perles, elle a mis 8 perles rouges, puis elle ajoute 7 perles bleues .

♥ **Combien y a-t-il de perles dans le collier ?**

◆ _____ = _____

♣ Il y aperles.



Je cherche, je dessine puis je réponds



1 Matéo a 12 cartes , il en donne 4 à son amie .

♥ **Combien a-t-il de cartes maintenant ?**

♦ _____ = _____



2 Noé a 8 bananes, il en mange 3 .

♥ **Combien lui en reste-t-il ?**

♦ _____ = _____

♣ Il lui restebananes.



3 Pierre a 4 crayons verts dans sa trousse, 3 crayons rouges et 6 crayons jaunes.

♥ **Combien a-t-il de crayons ?**

♦ _____ = _____

♣ Il acrayons.



1 Zoé a un paquet de 9 images.

Elle doit mettre 3 images dans chaque enveloppe.

Combien d'enveloppes lui faut-il ?

Il lui faut enveloppes.

_____ = _____



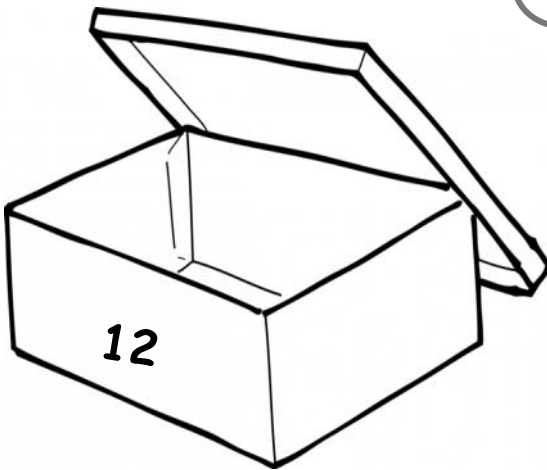
2 Dans une boîte, il y a déjà 7 billes.

Noémie veut 12 billes dans la boîte.

Combien de billes Noémie doit-elle encore mettre dans la boîte ?

Noémie doit ajouter billes.

_____ = _____



3 Dans un album, il y a 9 photos :
des photos de Léo et des photos de Noa.

Maman a sorti toutes les photos de Noa.

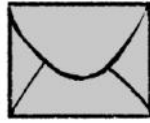
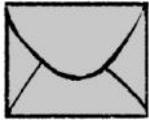

⇐ Les voici.

Combien y a-t-il de photos de Léo ?

Il y a photos de Léo.

_____ = _____






1 Malo a un paquet de 12 images.
Il doit y avoir autant d'images dans chacune des enveloppes. **Combien d'images y aura-t-il dans chaque enveloppe ?**

Il y aura images.

_____ = _____



2 Il faut 12 billes dans le sac. Dylan a déjà mis 4 billes.

Combien en manque-t-il ?

Il manque billes.

_____ = _____



3 Maman distribue 12 gâteaux à ses 3 enfants.

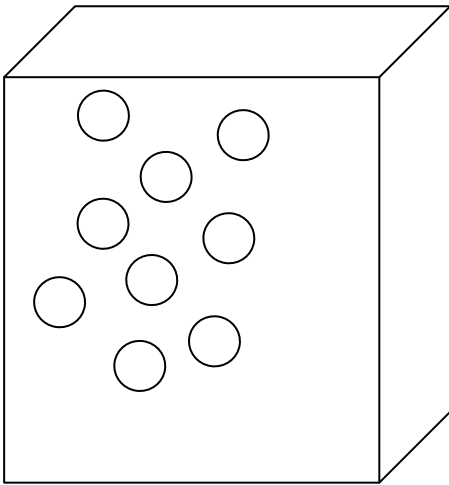
Combien vont-ils avoir de gâteaux chacun ?

Chaque enfant aura gâteaux

_____ = _____



Je cherche, je dessine puis je réponds




1 Léo a 9 billes , il en gagne 4 à la récréation .

♥ Combien a-t-il de billes maintenant ?

♦ _____

♣ Léo abilles.

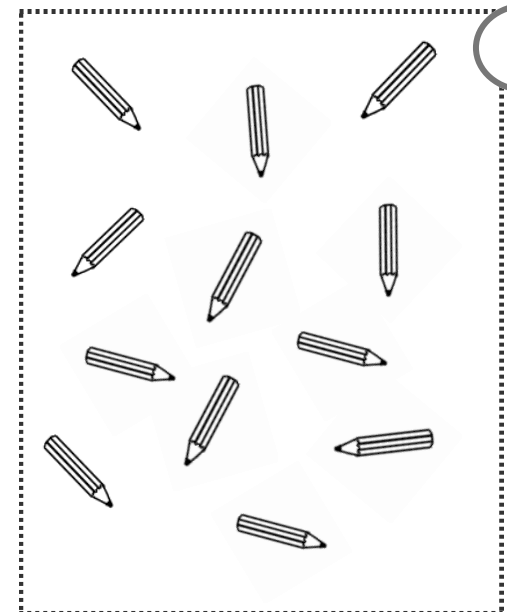


2 Corine a 10 bonbons elle en donne 4 à ses amies

♥ Combien lui en reste-t-il ?

♦ _____

♣ Il lui reste bonbons




3 Mathis a 12 crayons dans sa trousse, 5 crayons sont rouges Les autres sont bleus.

♥ Combien a-t-il de crayons bleus?

♦ _____

♣ Mathis acrayons bleus.



Je cherche, je dessine puis je réponds



1 Julie a 13 photos, elle en donne 4 à ses amis .

♥ **Combien a-t-elle de photos maintenant ?**

◆ _____

♣ Julie a photos.



2 Maman a 8 roses dans son vase, papa lui apporte un bouquet de 7 roses .

♥ **Combien de roses va-t-elle avoir maintenant ?**

◆ _____

♣ Elle a maintenant roses.




3

10 enfants vont se promener dans le parc, il y a 5 garçons.


♥ **Combien y a-t-il de filles ?**

◆ _____

♣ Il y a filles.



1

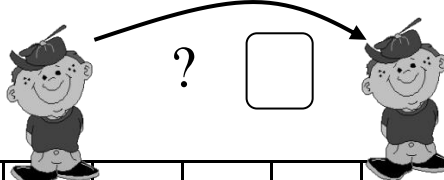


1	2	3	4	5	6	7	8	9	10	11	12	13	14	15
---	---	---	---	---	---	---	---	---	----	----	----	----	----	----

Marine joue au jeu de l'oie elle est sur la case 8. Elle lance le dé , sur quelle case va-t-elle arriver ?

_____ = _____ Elle arrive sur la case

2



1	2	3	4	5	6	7	8	9	10	11	12	13	14	15
---	---	---	---	---	---	---	---	---	----	----	----	----	----	----

Maxime joue au jeu de l'oie il était sur la case 8 . Il a avancé sur la case 12 . Combien de points marquait le dé ?

_____ = _____ Il y avait points sur le dé.


3



1	2	3	4	5	6	7	8	9	10	11	12	13	14	15
---	---	---	---	---	---	---	---	---	----	----	----	----	----	----

Paul joue au jeu de l'oie il est sur la case 5. Il lance le dé , sur quelle case va-t-il arriver ?

_____ = _____ Il arrive sur la case




1




1	2	3	4	5	6	7	8	9	10	11	12	13	14	15
---	---	---	---	---	---	---	---	---	----	----	----	----	----	----

Marine joue au jeu de l'oie elle est sur la case 6. Elle lance le dé , sur quelle case va-t-elle arriver ?

 _____ = _____


Elle arrive sur la case

2




1	2	3	4	5	6	7	8	9	10	11	12	13	14	15
---	---	---	---	---	---	---	---	---	----	----	----	----	----	----

Maxime joue au jeu de l'oie il est sur la case 12 . Mais il doit reculer de 3 cases , sur quelle case doit-il aller ?

 _____ = _____


Il arrive sur la case

3




1	2	3	4	5	6	7	8	9	10	11	12	13	14	15
---	---	---	---	---	---	---	---	---	----	----	----	----	----	----

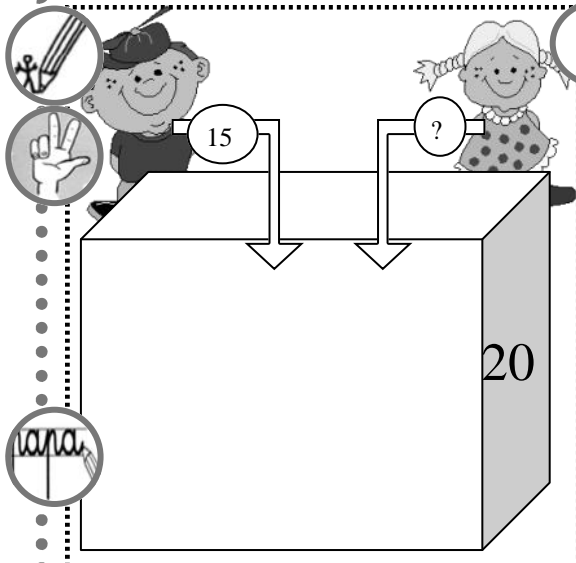
Paul joue au jeu de l'oie il a lancé le dé et a avancé de 2 cases. Sur quelle case était-il avant d'avancer ?

 _____ = _____

Il était sur la case



Je dessine et je cherche l'opération.

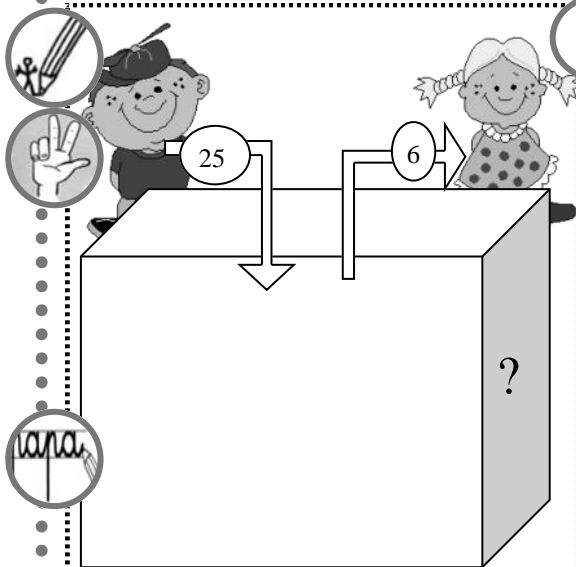


1 Paul a mis 15 balles dans la boîte.
Marie ajoute des balles. Il y a 20 balles maintenant.

Combien de balles Marie a-t-elle ajoutée dans la boîte?

.....=

Marie a ajoutéballes .

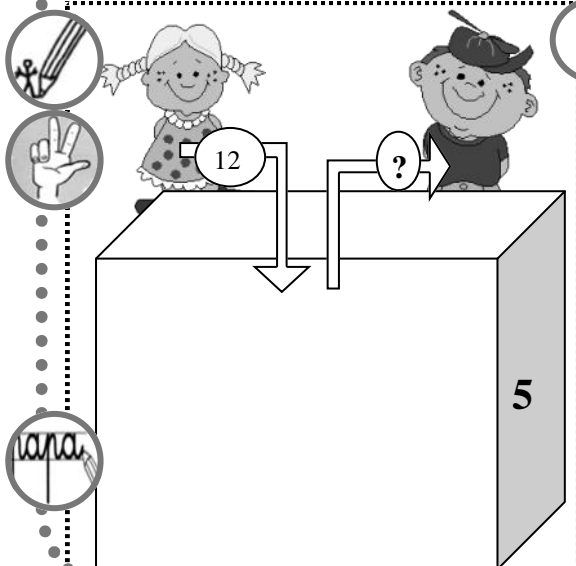


2 Léo a mis 25 balles dans la boîte.
Marie retire 6 balles de la boîte .

Combien de balles y a-t-il en tout dans la boîte?

.....=

Il y aballes dans la boîte.



3 Marie a mis 12 balles dans la boîte, Paul retire des balles, il y a 5 balles maintenant.

Combien de balles Paul a-t-il retiré de la boîte ?


.....=

Paul a retiréballes de la boîte.



Je cherche puis je réponds en faisant une opération.

1



1. Combien y a-t-il de cœurs blancs en tout ?

_____ Il y a cœurs blancs.

2. Combien y a-t-il de ronds noirs en tout ?

_____ Il y a ronds noirs.

3. Combien y a-t-il d'objets noirs en tout ?

_____ Il y a ronds noirs.

4. Combien y a-t-il d'objets dans la boîte ?

_____ Il y a objets dans la boîte.

2



1. Combien y a-t-il de jouets avec des roues ?

_____ Il y a jouets avec des roues.

2. Combien y a-t-il de poupées ?

_____ Il y a poupées.



Je cherche, je dessine puis je réponds



1 Un jardinier a planté 3 rangées de 6 salades.

Combien de salades ce jardinier a-t-il plantées ?



..... =

Il a plantésalades.



2 Dans la salle, il y a 16 chaises.

9 chaises sont déjà occupées par des enfants.

Combien de chaises sont libres ?

..... =

Il y a chaises libres.




3 Mathilde a apporté 3 paquets de gâteaux avec 9 gâteaux dans chaque paquet.

Combien y a-t-il de gâteaux ?

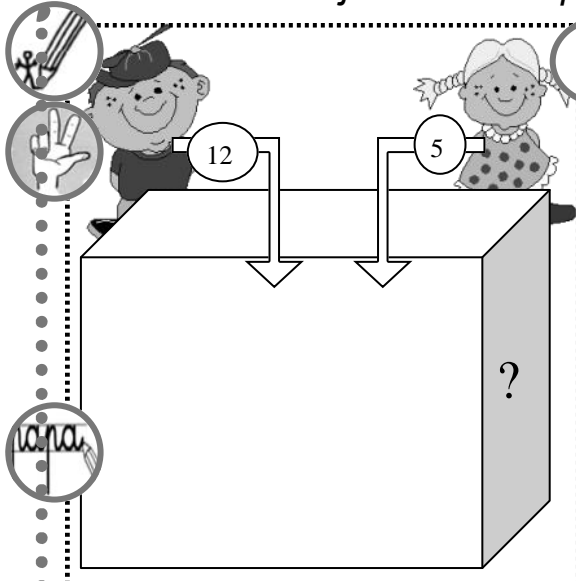
..... =

Il y a gâteaux.





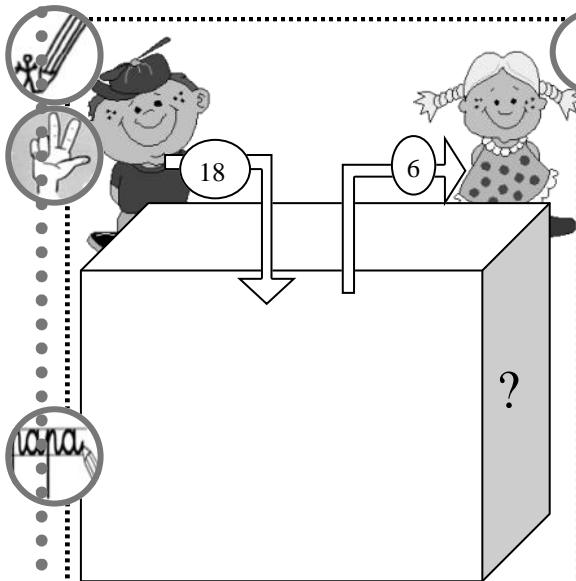
Je dessine et je cherche l'opération.



1 Noé a mis 12 balles dans la boîte.
Marie ajoute 5 balles dans la boîte.
Combien de balles y a-t-il en tout
dans la boîte?

.....=

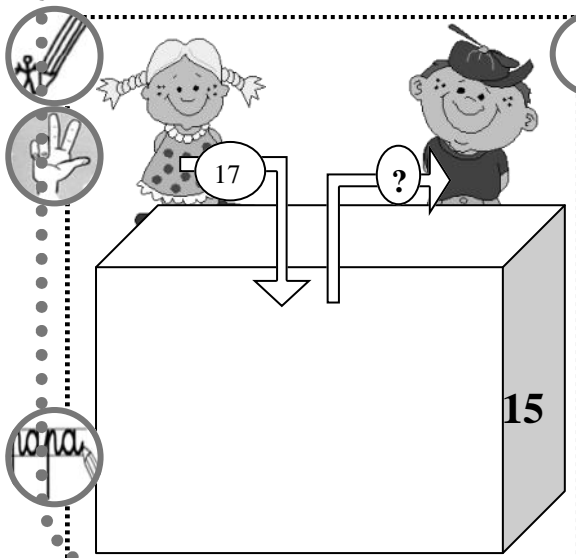
Il y aballes dans la boîte.



2 Paul a mis 18 balles dans la boîte.
Marie retire 6 balles de la boîte.
Combien de balles y a-t-il en tout
dans la boîte?

.....=

Il y aballes dans la boîte.



3 Marie a mis 17 balles dans la
boîte, Paul a retiré des balles, il y
a 15 balles maintenant.
Combien de balles Paul a-t-il retiré
de la boîte ?

.....=

Paul a retiréballes de la boîte.