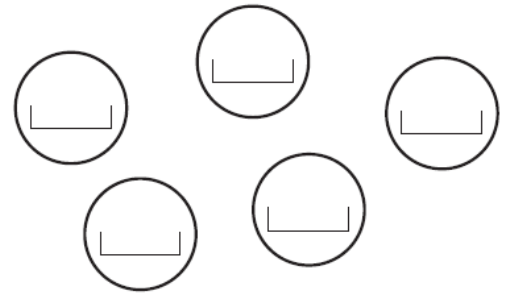


Écris les nombres du plus petit au plus grand.

Five rounded squares, each containing five dots. An arrow points to the first square.

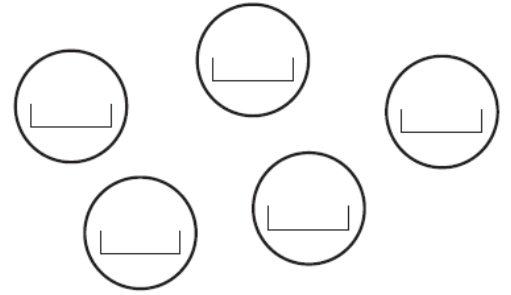
Le plus petit ici



Écris les nombres du plus petit au plus grand.

Five rounded squares, each containing five dots. An arrow points to the first square.

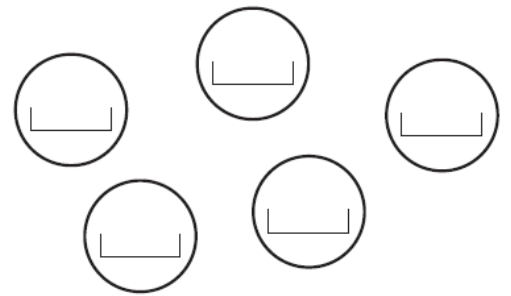
Le plus petit ici



Écris les nombres du plus petit au plus grand.

Five rounded squares, each containing five dots. An arrow points to the first square.

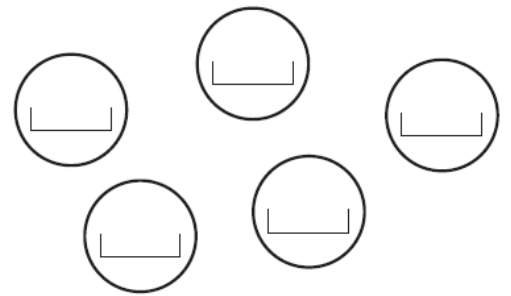
Le plus petit ici



Écris les nombres du plus petit au plus grand.

Five rounded squares, each containing five dots. An arrow points to the first square.

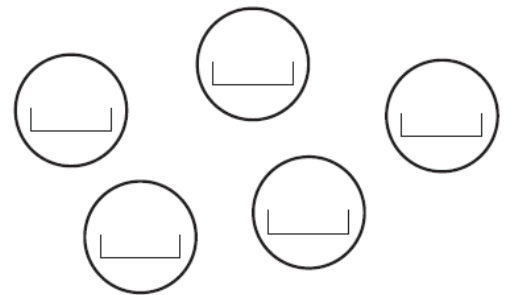
Le plus petit ici



Écris les nombres du plus petit au plus grand.

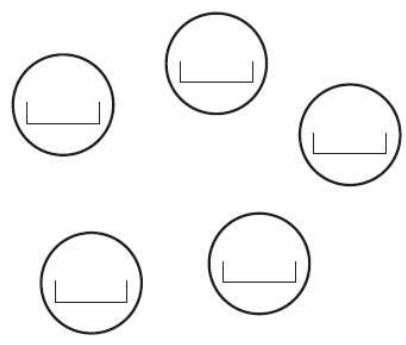

Five rounded squares, each containing five dots. An arrow points to the first square.

Le plus petit ici



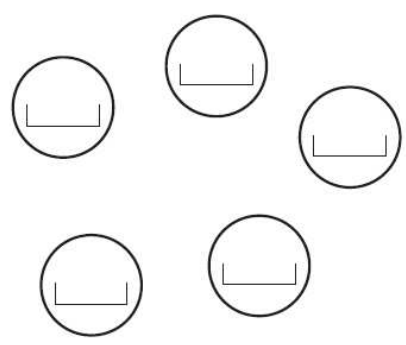

Écris les nombres du plus petit au plus grand.

Le plus grand, ici.



Écris les nombres du plus petit au plus grand.

Le plus grand, ici.



Écris les nombres du plus petit au plus grand.

Le plus grand, ici.

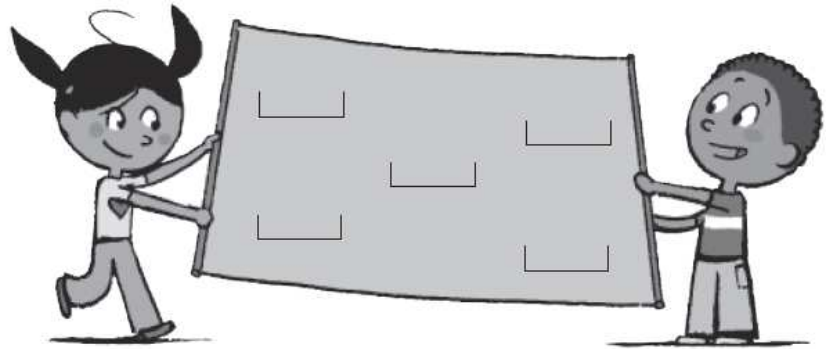


Écris les nombres du plus petit au plus grand.

Le plus grand, ici.

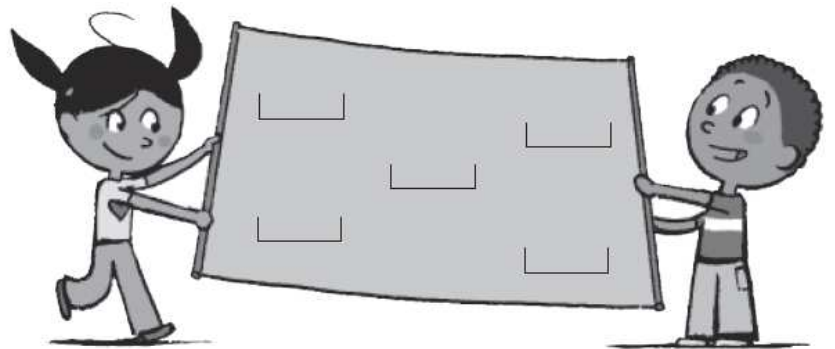


Écris les nombres de la banderole sur les cartes vides.
Ils doivent être rangés du plus petit au plus grand.



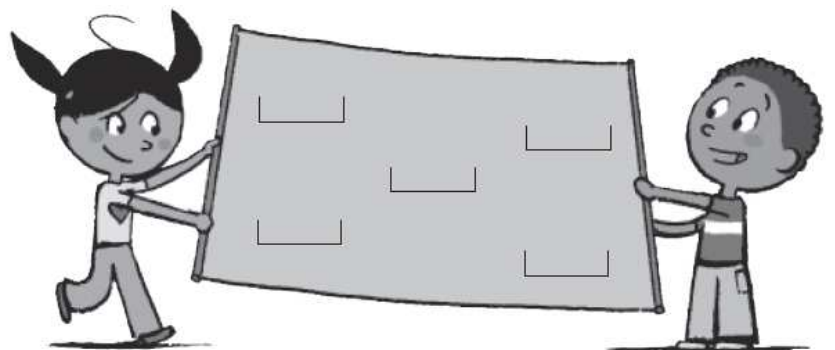
□ □ □ □ □ □ □ □ □

Écris les nombres de la banderole sur les cartes vides.
Ils doivent être rangés du plus petit au plus grand.



□ □ □ □ □ □ □ □ □

Écris les nombres de la banderole sur les cartes vides.
Ils doivent être rangés du plus petit au plus grand.



□ □ □ □ □ □ □ □ □