





Mit Würfeln rechnen



Wie viel ist ...? Rechne und notiere die Zahl und das Wort.

a)  +  -  +  = 10 zehn

b)  +  -  = _____

c)  -  -  +  = _____

d)  +  +  = _____

e)  -  -  +  = _____

Zahlenspiele



Schneide das Domino aus. Ordne zu.

