

Contrôle : les états de l'eau

/10

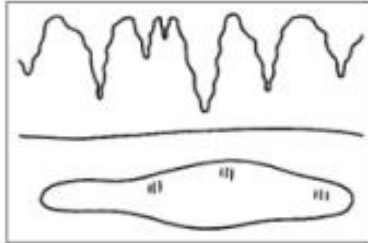
1. Quels sont les trois états de l'eau ?

/3

.....


2. Indique l'état de l'eau sous chaque image.

/3



Verglas : eau à l'état

.....



Pluie : eau à l'état

.....




Neige : eau à l'état

.....



Vapeur d'eau : eau à l'état

.....



Nuages : eau à l'état

.....



Brouillard : eau à l'état

.....

3. Colorie de la même couleur les étiquettes qui vont ensemble.

/3

En-dessous de 0°C

État liquide

Au-dessus de 0°C

Eau liquide

État solide

Glace

4. Dans l'expérience suivante... Explique pourquoi l'eau ne déborde pas une fois les glaçons fondus.

/1

.....
.....
.....

