


Vers la


multiplication

2<sup>ème</sup> partie





Aujourd'hui je te propose de  
t'entraîner sur  
la multiplication.



*Prends ton ardoise et un  
feutre d'ardoise, nous allons  
commencer les exercices.*



Combien y a-t-il de grenouilles ?



Complète :


Il y a ..... groupes de ..... grenouilles.

$$\dots + \dots + \dots + \dots = \dots$$

$$\dots \times \dots = \dots / \text{ou} \dots \times \dots = \dots$$



As -tu réussi ? Voici ce qu'il fallait écrire.



Il y a 4 groupes de 3 grenouilles.


j'écris alors  $3 + 3 + 3 + 3 = 12$


ou  $3 \times 4 = 12$  ou  $4 \times 3 = 12$






Et maintenant combien y a-t-il de  
grenouilles ?





*Ecris les additions et les  
multiplications qui permettent de  
trouver la solution. N'oublie pas de  
compter le nombre de groupes.*

# Voici ce qu'il fallait écrire



Il y a 8 groupes de 3 grenouilles.





$$3 + 3 + 3 + 3 + 3 + 3 + 3 + 3 = 24$$



$$3 \times 8 = 24 \quad \text{ou} \quad 8 \times 3 = 24$$



Et enfin combien y a-t-il d'étoiles ?



Voici ce qu'il fallait écrire.




Il y a 2 groupes de 7 étoiles.

$$7 + 7 = 14$$

$$2 \times 7 = 14 \quad \text{ou} \quad 7 \times 2 = 14$$






*Je te propose maintenant de regarder  
cette petite vidéo.*

*Voici le lien :*

*<https://www.youtube.com/watch?v=A0HP>*

*VLbajhI*





*Et voilà le cours est terminé.*

*A bientôt 😊*