

# Défi calcul mental n°16



**Compétence travaillée** : Multiplier par 10, 100, 1000.

...../ 30 points

1/ Ecris seulement le résultat.


2/ Problème : \_\_\_\_\_

3/ Calcule le plus rapidement possible.

<input type="checkbox"/>		<input type="checkbox"/>		<input type="checkbox"/>	
--------------------------	---	--------------------------	---	--------------------------	---

$8 \times 10 = \dots\dots\dots$     $55 \times 10 = \dots\dots\dots$     $70 \times 100 = \dots\dots\dots$     $885 \times 10 = \dots\dots\dots$

$17 \times 1000 = \dots\dots\dots$     $310 \times 100 = \dots\dots\dots$     $17 \times 100 = \dots\dots\dots$

$90 \times 1000 = \dots\dots\dots$     $130 \times 10 = \dots\dots\dots$     $15 \times 1000 = \dots\dots\dots$

# Défi calcul mental n°16






**Compétence travaillée** : Multiplier par 10, 100, 1000.

...../ 30 points

1/ Ecris seulement le résultat.


2/ Problème : \_\_\_\_\_

3/ Calcule le plus rapidement possible.

<input type="checkbox"/>		<input type="checkbox"/>		<input type="checkbox"/>	
--------------------------	---	--------------------------	---	--------------------------	---

$8 \times 10 = \dots\dots\dots$     $55 \times 10 = \dots\dots\dots$     $70 \times 100 = \dots\dots\dots$     $885 \times 10 = \dots\dots\dots$

$17 \times 1000 = \dots\dots\dots$     $310 \times 100 = \dots\dots\dots$     $17 \times 100 = \dots\dots\dots$

$90 \times 1000 = \dots\dots\dots$     $130 \times 10 = \dots\dots\dots$     $15 \times 1000 = \dots\dots\dots$