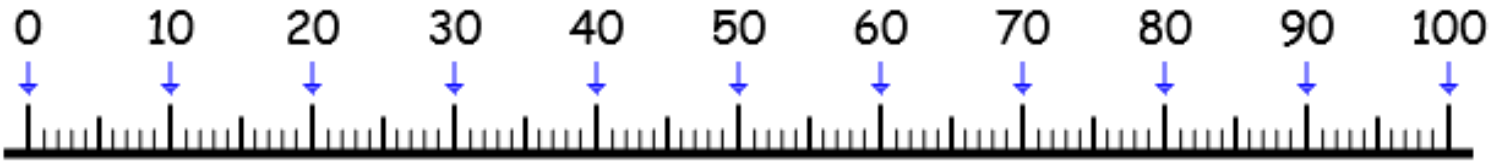


Exercice 1 : Complète à la dizaine (entière éloignée)



★ a) $24 + \dots = 50$

★ b) $46 + \dots = 70$

★★ c) $65 + \dots = 80$

★★★ d) $31 + \dots = 50$

Exercice 1 : Complète à la centaine.

Regarde la frise de la classe !

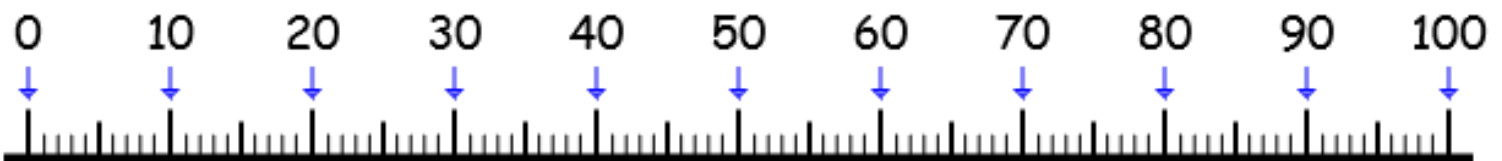
★ a) $324 + \dots = 400$

★ b) $461 + \dots = 500$

★★ c) $243 + \dots = 300$

★★★ d) $313 + \dots = 400$

Exercice 1 : Complète à la dizaine (entière éloignée)



★ a) $59 + \dots = 70$

★ b) $23 + \dots = 40$

★★ c) $31 + \dots = 50$

★★★ d) $27 + \dots = 50$

Exercice 1 : Complète à la centaine.

Regarde la frise de la classe !

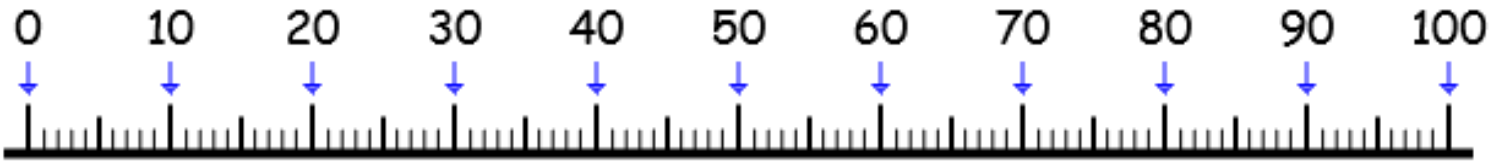
★ a) $592 + \dots = 600$

★ b) $324 + \dots = 400$

★★ c) $314 + \dots = 400$

★★★ d) $127 + \dots = 200$

Exercice 1 : Complète à la dizaine (entière éloignée)



★ a) $26 + \dots = 60$

★ b) $56 + \dots = 70$

★★ c) $72 + \dots = 90$

★★★ d) $26 + \dots = 50$

Exercice 1 : Complète à la centaine.

Regarde la frise de la classe !

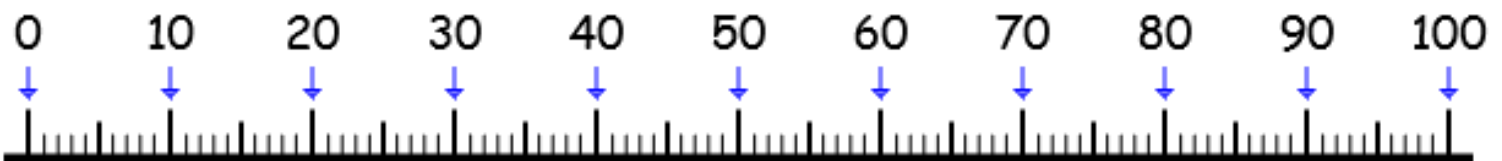
★ a) $577 + \dots = 600$

★ b) $543 + \dots = 600$

★★ c) $308 + \dots = 400$

★★★ d) $319 + \dots = 400$

Exercice 1 : Complète à la dizaine (entière éloignée)



★ a) $54 + \dots = 80$

★ b) $56 + \dots = 80$

★★ c) $44 + \dots = 60$

★★★ d) $26 + \dots = 40$

Exercice 1 : Complète à la centaine.

Regarde la frise de la classe !

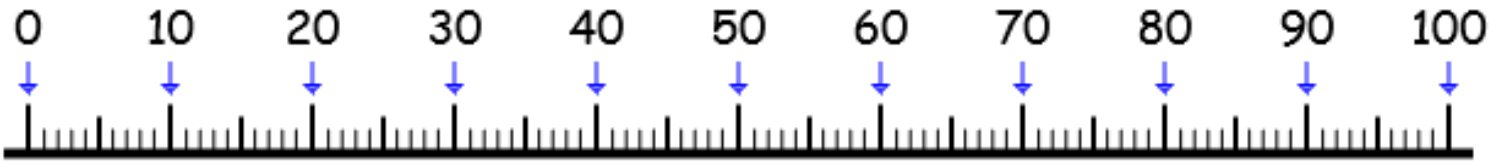
★ a) $337 + \dots = 400$

★ b) $170 + \dots = 200$

★★ c) $358 + \dots = 400$

★★★ d) $228 + \dots = 300$

Exercice 1 : Complète à la dizaine (entière éloignée)



★ a) $53 + \dots = 80$

★ b) $19 + \dots = 30$

★★ c) $55 + \dots = 90$

★★★ d) $52 + \dots = 90$

Exercice 1 : Complète à la centaine.

Regarde la frise de la classe !

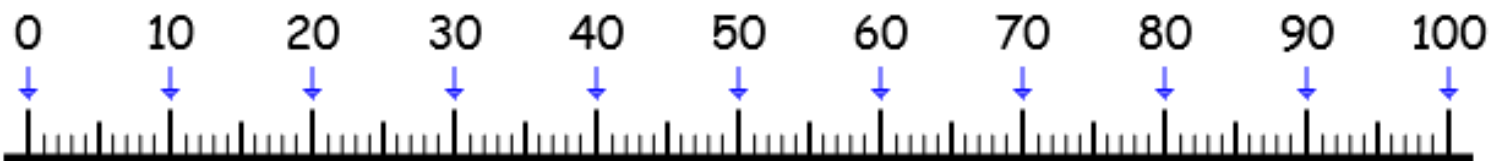
★ a) $197 + \dots = 200$

★ b) $528 + \dots = 600$

★★ c) $371 + \dots = 400$

★★★ d) $420 + \dots = 500$

Exercice 1 : Complète à la dizaine (entière éloignée)



★ a) $58 + \dots = 70$

★ b) $39 + \dots = 70$

★★ c) $18 + \dots = 40$

★★★ d) $54 + \dots = 70$

Exercice 1 : Complète à la centaine.

Regarde la frise de la classe !

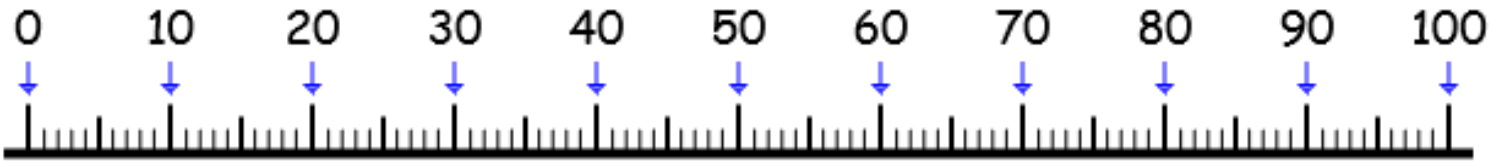
★ a) $375 + \dots = 400$

★ b) $202 + \dots = 300$

★★ c) $216 + \dots = 300$

★★★ d) $304 + \dots = 400$

Exercice 1 : Complète à la dizaine (entière éloignée)



★ a) $48 + \dots = 90$

★ b) $29 + \dots = 50$

★★ c) $57 + \dots = 80$

★★★ d) $42 + \dots = 60$

Exercice 1 : Complète à la centaine.

Regarde la frise de la classe !

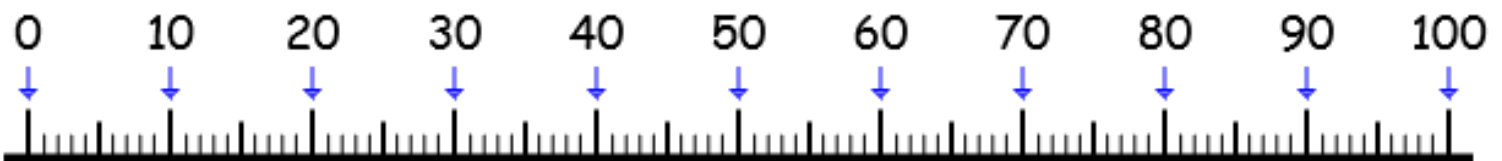
★ a) $505 + \dots = 600$

★ b) $306 + \dots = 400$

★★ c) $232 + \dots = 300$

★★★ d) $262 + \dots = 300$

Exercice 1 : Complète à la dizaine (entière éloignée)



★ a) $23 + \dots = 40$

★ b) $28 + \dots = 60$

★★ c) $34 + \dots = 80$

★★★ d) $58 + \dots = 80$

Exercice 1 : Complète à la centaine.

Regarde la frise de la classe !

★ a) $277 + \dots = 300$

★ b) $407 + \dots = 500$

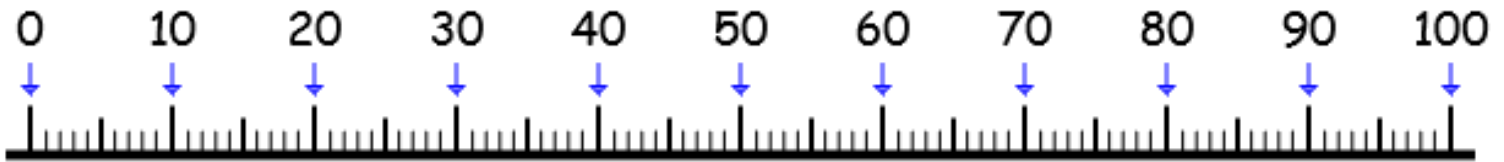
★★ c) $184 + \dots = 200$

★★★ d) $389 + \dots = 400$

EVALUATION CE1 CAL8

Compétence : Compléter à la dizaine supérieure éloignée + compléter à la centaine

Exercice 1 : Complète à la dizaine (supérieure immédiate)



a) $54 + \dots = 80$

b) $36 + \dots = 60$

c) $48 + \dots = 60$

d) $47 + \dots = 70$

Exercice 2 : Complète à la centaine.

Regarde la frise de la classe si tu as besoin.

a) $254 + \dots = 300$

b) $178 + \dots = 200$

c) $418 + \dots = 500$

d) $345 + \dots = 400$