

# Jeux de logique

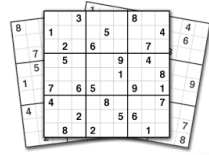


## SUDOKU\*

Complète les cases vides avec des chiffres de 1 à 4.

		2	
2			3
3			4
	4		

D'après Helene Mam des Moulins - Illustration E. Thuillier



# Jeux de logique

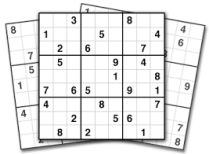


## SUDOKU\*

Complète les cases vides avec des chiffres de 1 à 4.

		1	3
			2
4			
3	1		

D'après Helene Mam des Moulins - Illustration E. Thuillier



# Jeux de logique

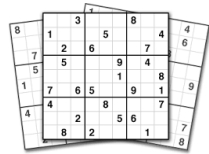


## SUDOKU\*

Complète les cases vides avec des chiffres de 1 à 4.

			2
1	2		
		3	4
3			

D'après Helene Mam des Moulins - Illustration E. Thuillier



# Jeux de logique



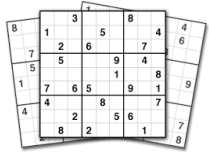
## SUDOKU\*

Complète les cases vides avec des chiffres de 1 à 4.

4			3
		4	
	2		
1			2

D'après Helene Mam des Moulins - Illustration E. Thuillier





# Jeux de logique

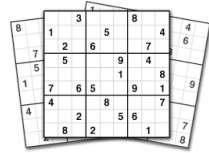
5

## SUDOKU\*

Complète les cases vides avec des chiffres de 1 à 4.

3	4		2
4		3	1

D'après Helene Mam des Moulins - Illustration E. Thuillier



# Jeux de logique

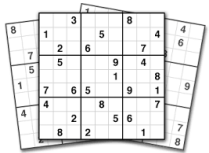
6

## SUDOKU\*

Complète les cases vides avec des chiffres de 1 à 4.

			1
		2	3
1	2		
3			

D'après Helene Mam des Moulins - Illustration E. Thuillier



# Jeux de logique

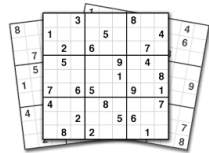
7

## SUDOKU\*

Complète les cases vides avec des chiffres de 1 à 4.

			4
	2	1	
	4	3	
3			

D'après Helene Mam des Moulins - Illustration E. Thuillier



# Jeux de logique

8

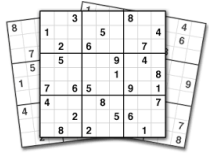
## SUDOKU\*

Complète les cases vides avec des chiffres de 1 à 4.

	4		1
		2	
	2		
1		4	

D'après Helene Mam des Moulins - Illustration E. Thuillier





# Jeux de logique

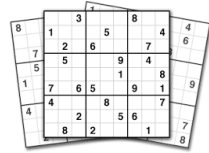


## SUDOKU\*

Complète les cases vides avec des chiffres de 1 à 4.

	4		
	3		4
3		4	
		1	

D'après Helene Mam des Moulins - Illustration E. Thuillier



# Jeux de logique

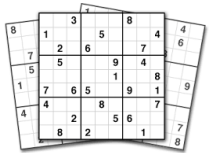


## SUDOKU\*

Complète les cases vides avec des chiffres de 1 à 4.

	4		
			1
2			
		3	

D'après Helene Mam des Moulins - Illustration E. Thuillier



# Jeux de logique

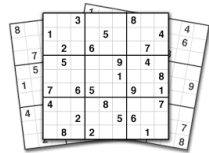


## SUDOKU\*

Complète les cases vides avec des chiffres de 1 à 4.

	2		1
2		3	

D'après Helene Mam des Moulins - Illustration E. Thuillier



# Jeux de logique



## SUDOKU\*

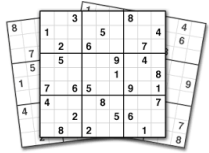
Complète les cases vides avec des chiffres de 1 à 4.

2			
		1	
	3		
			3

D'après Helene Mam des Moulins - Illustration E. Thuillier







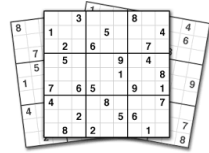
# Jeux de logique 13

## SUDOKU\*

Complète les cases vides avec des chiffres de 1 à 4.

	1		
	4		
		4	
		2	

D'après Helene Mam des Moulins - Illustration E. Thuillier



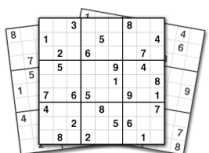
# Jeux de logique 14

## SUDOKU\*

Complète les cases vides avec des chiffres de 1 à 4.

	4		3
2		1	

D'après Helene Mam des Moulins - Illustration E. Thuillier



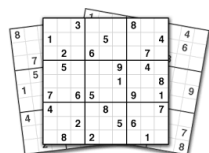
# Jeux de logique 15

## SUDOKU\*

Complète les cases vides avec des chiffres de 1 à 4.

			3
	4		
		2	
1			

D'après Helene Mam des Moulins - Illustration E. Thuillier



# Jeux de logique 16

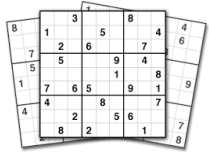
## SUDOKU\*

Complète les cases vides avec des chiffres de 1 à 4.

			4
2			
			1
1			

D'après Helene Mam des Moulins - Illustration E. Thuillier





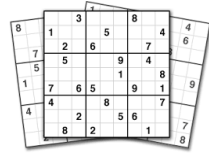
# Jeux de logique 17

## SUDOKU\*

Complète les cases vides avec des chiffres de 1 à 4.

4	1		
		2	4

D'après Helene Mam des Moulins - Illustration E. Thuillier



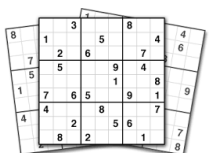
# Jeux de logique 18

## SUDOKU\*

Complète les cases vides avec des chiffres de 1 à 4.

3			
4			
			1
			4

D'après Helene Mam des Moulins - Illustration E. Thuillier



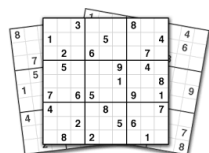
# Jeux de logique 19

## SUDOKU\*

Complète les cases vides avec des chiffres de 1 à 4.

			3
		2	
3			

D'après Helene Mam des Moulins - Illustration E. Thuillier



# Jeux de logique 20

## SUDOKU\*

Complète les cases vides avec des chiffres de 1 à 4.

			4
1		3	

D'après Helene Mam des Moulins - Illustration E. Thuillier

