
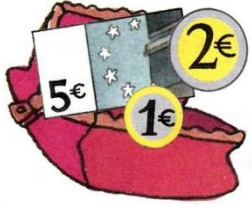


Problèmes C1 :



Gaëlle a €. Max a €. Simon a €.

Combien chaque enfant a-t-il d'argent ?



8 €

Qui peut acheter la voiture ?

_____ peut acheter _____.

Calcul des sommes



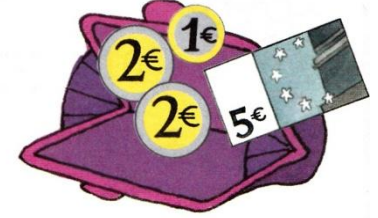
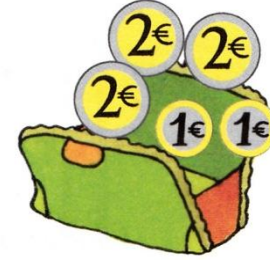
Réponse



Phrase-réponse



Problèmes C2 :



Sophie a €. Fatou a €. Pierre a €.

Combien chaque enfant a-t-il d'argent ?



10 €

Qui peut acheter le livre ?

_____ peut acheter _____.

Calcul des sommes



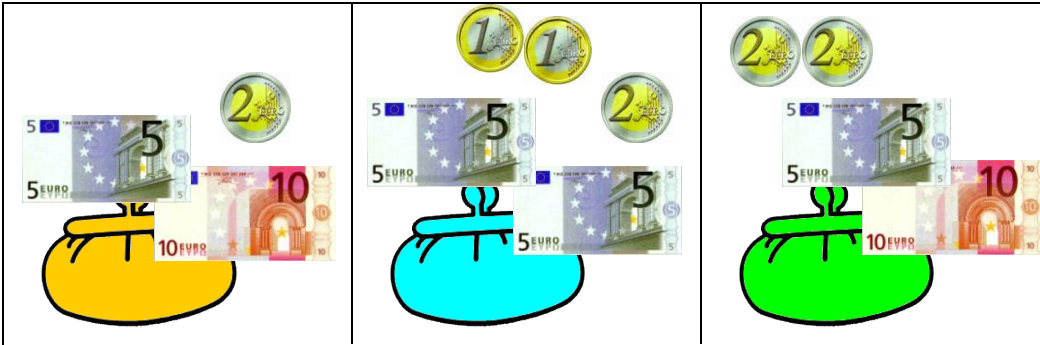
Réponse



Phrase-réponse



Problèmes C3 :



Hélène a €. Nicolas a €. Rémi a €.

Combien chaque enfant a-t-il d'argent ?



Qui peut acheter la boîte

de legos ?

_____ peut acheter _____
_____.

Calcul des
sommes



Réponse



Phrase-
réponse



Problèmes C4 :



Anne a €. Julie a €. Loïc a €.

Combien chaque enfant a-t-il d'argent ?



Qui peut acheter la boîte

de jeux ?

_____ peut acheter _____
_____.

Calcul des
sommes



Réponse



Phrase-
réponse

