

Date :

Prénom :

Calcul

Le nombre 36

1. Classe par ordre de grandeur croissante. (du plus petit au plus grand)

24	10	36	28	14	32	20
.....



2. Classe par ordre de grandeur décroissante. (du plus grand au plus petit)

20	16	36	24	32	28	25
.....

3. Situe les nombres.

- 36 c'est 2 de plus que
- 36 c'est 4 de moins que
- 36 c'est 6 de plus que
- 36 c'est de moins que 38
- 36 c'est De plus que 18

4. <, >, =

- | | |
|----------|--------------|
| | |
| (2 x 18) | ... (4 x 9) |
| | |
| (36 : 2) | ... (36 : 4) |
| | |
| (36 : 6) | ... (36 : 3) |
| | |
| (3 x 12) | ... (6 x 6) |


5. Relie.

- | | |
|----------------------|-----|
| $\frac{1}{2}$ de 36. | .3 |
| 36 : 3 | .12 |
| 36 : 4 | .6 |
| 36 : 12 | .2 |
| 36 : 6 | .18 |
| 36 : 18 | .9 |

6. Ecris les bons signes : +, -, x, :

36	18	18		4	9	36
36	4	9		18	2	36
36	3	12		36	12	3

7. Araignée.



Date :

Prénom :

Calcul

8. Colorie la bonne réponse.

$36 : 2$	12	18	72
$36 - 12$	12	24	48
$36 = 4 \times .$	6	8	9
$36 = 30 + .$	8	4	6

9. Barre les calculs $\neq 36$



2×18	2×12	4×8
6×5	4×10	6×6
36×1	36×0	$38 - 2$

10. Invente pour faire 36. (Attention : pas de 0 ni de 1 !)

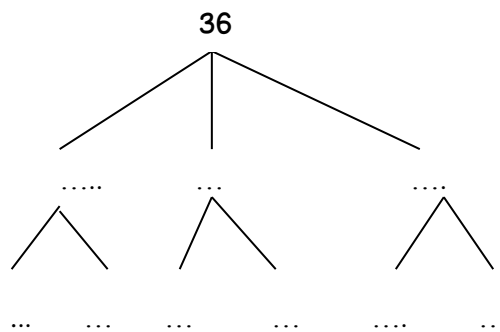
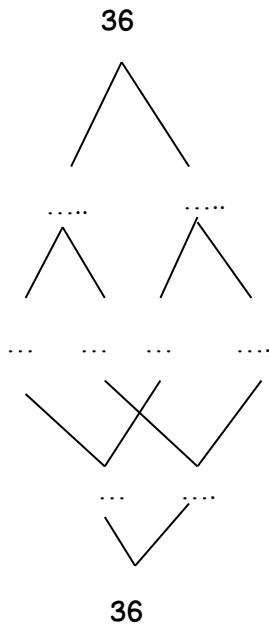
..... + = 36

..... + + = 36

..... - = 36

(..... +) x = 36

11. Complète les arbres.



12. place les nombres sur la droite graduée.



36 - 20 - 30 - 24 - 32 - 28

