

Alex et Lisa se partagent le trésor.

Chacun doit recevoir le même nombre de pépites et il doit rester le moins de pépites.

Combien de pépites aura chaque enfant?



25



Alex et Lisa se partagent le trésor.

Chacun doit recevoir le même nombre de pépites et il doit rester le moins de pépites.

Combien de pépites aura chaque enfant?



25



Alex et Lisa se partagent le trésor.

Chacun doit recevoir le même nombre de pépites et il doit rester le moins de pépites.

Combien de pépites aura chaque enfant?



25



26

Alex et Lisa ont ensemble 15 perles. Lisa en a 5.

Combien de perles Alex a-t-il ?



26

Alex et Lisa ont ensemble 15 perles. Lisa en a 5.

Combien de perles Alex a-t-il ?



26

Alex et Lisa ont ensemble 15 perles. Lisa en a 5.

Combien de perles Alex a-t-il ?



Combien de canard ne sont pas sur la photo d'Alex ?

27



Combien de canard ne sont pas sur la photo d'Alex ?

27



Combien de canard ne sont pas sur la photo d'Alex ?

27



28

Lisa va à la boulangerie. Elle achète 5 tartes aux fraises, 3 tartes au citron et 4 tartes au chocolat.

Combien Lisa a-t-elle achetée de tartes?




28

Maman achète deux boîtes de feutre au supermarché.

Chaque boîte contient 6 feutres.

Combien y a-t-il de feutres en tout?



28

Maman achète deux boîtes de feutre au supermarché.

Chaque boîte contient 6 feutres.

Combien y a-t-il de feutres en tout?



Lisa a 26 images. Il y a 16 images d'animaux.

Les autres sont des images de fleurs.

Combien y a-t-il d'images de fleurs ?



29



Lisa a 26 images. Il y a 16 images d'animaux.

Les autres sont des images de fleurs.

Combien y a-t-il d'images de fleurs ?



29



Lisa a 26 images. Il y a 16 images d'animaux.

Les autres sont des images de fleurs.

Combien y a-t-il d'images de fleurs ?



29




30

Zoé a 16 avions.

Claire a 4 avions de plus que Zoé.

Combien d'avions Claire a-t-elle ?

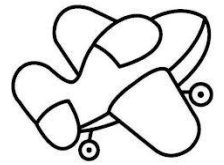


30

Zoé a 16 avions.

Claire a 4 avions de plus que Zoé.

Combien d'avions Claire a-t-elle ?

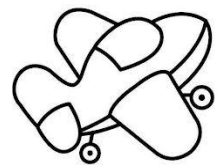


30

Zoé a 16 avions.

Claire a 4 avions de plus que Zoé.

Combien d'avions Claire a-t-elle ?



Marco est jardinier. Il a acheté 50 fraisiers. Il veut les planter sur 5 rangées.

Combien de fraisiers **y aura-t-il** dans chaque rangée ?

| | |
|--|--|
| | |
|--|--|

31



Marco est jardinier. Il a acheté 50 fraisiers. Il veut les planter sur 5 rangées.

Combien de fraisiers **y aura-t-il** dans chaque rangée ?

| | |
|--|--|
| | |
|--|--|

31



Marco est jardinier. Il a acheté 50 fraisiers. Il veut les planter sur 5 rangées.

Combien de fraisiers **y aura-t-il** dans chaque rangée ?

| | |
|--|--|
| | |
|--|--|

31



32

Alex a cueilli 4 paniers de champignons.

Dans chaque panier, il y a 15 champignons.

Combien Alex a-t-il cueilli de champignon ?



32

Alex a cueilli 4 paniers de champignons.

Dans chaque panier, il y a 15 champignons.

Combien Alex a-t-il cueilli de champignon ?



32

Alex a cueilli 4 paniers de champignons.

Dans chaque panier, il y a 15 champignons.

Combien Alex a-t-il cueilli de champignon ?



Dans la classe, il y a 27 élèves. Aujourd'hui, il y a 6 enfants qui sont malades et qui ne sont pas venus à l'école.

Combien y a-t-il d'élèves dans la classe aujourd'hui ?



33



Dans la classe, il y a 27 élèves. Aujourd'hui, il y a 6 enfants qui sont malades et qui ne sont pas venus à l'école.

Combien y a-t-il d'élèves dans la classe aujourd'hui ?



33



Dans la classe, il y a 27 élèves. Aujourd'hui, il y a 6 enfants qui sont malades et qui ne sont pas venus à l'école.

Combien y a-t-il d'élèves dans la classe aujourd'hui ?



33



34

Pig a mangé 43 pommes et Pog 26 pommes.

Combien ont-ils mangé de pommes à eux deux ?



| | |
|--|--|
| | |
|--|--|




34

Pig a mangé 43 pommes et Pog 26 pommes.

Combien ont-ils mangé de pommes à eux deux ?



| | |
|--|--|
| | |
|--|--|




34

Pig a mangé 43 pommes et Pog 26 pommes.

Combien ont-ils mangé de pommes à eux deux ?



| | |
|--|--|
| | |
|--|--|



Lisa partage 24 balles entre ces trois chats.

Combien de balles aura chaque chat ?



35



Lisa partage 24 balles entre ces trois chats.

Combien de balles aura chaque chat ?



35



Lisa partage 24 balles entre ces trois chats.

Combien de balles aura chaque chat ?



35



36

56 oiseaux picorent tranquillement. Attention, Moustik s'approche.... Quinze oiseaux voient le chat et s'envolent.

Combien d'oiseaux continuent à picorer ?



36

56 oiseaux picorent tranquillement. Attention, Moustik s'approche.... Quinze oiseaux voient le chat et s'envolent.

Combien d'oiseaux continuent à picorer ?



36

56 oiseaux picorent tranquillement. Attention, Moustik s'approche.... Quinze oiseaux voient le chat et s'envolent.

Combien d'oiseaux continuent à picorer ?

