

Place les 5 fractions sur la droite graduée

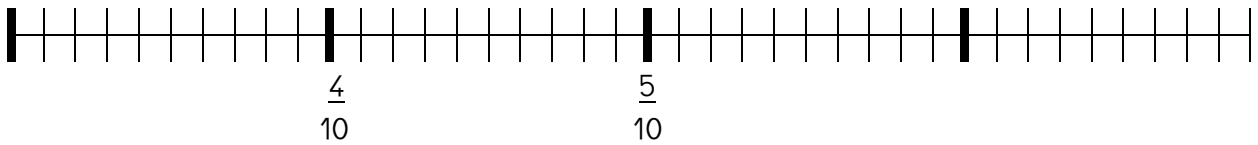
$$\frac{64}{100}$$

$$\frac{58}{100}$$

$$\frac{32}{100}$$

$$\frac{45}{100}$$

$$\frac{60}{100}$$



Place les 5 fractions sur la droite graduée

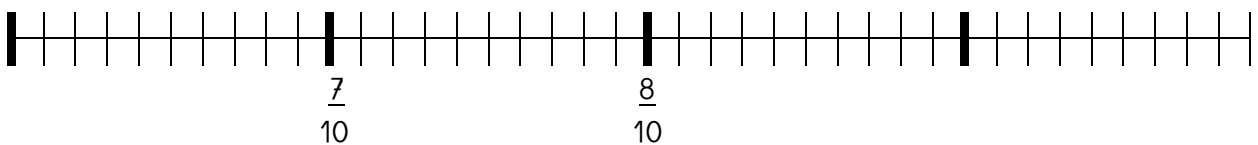
$$\frac{77}{100}$$

$$\frac{61}{100}$$

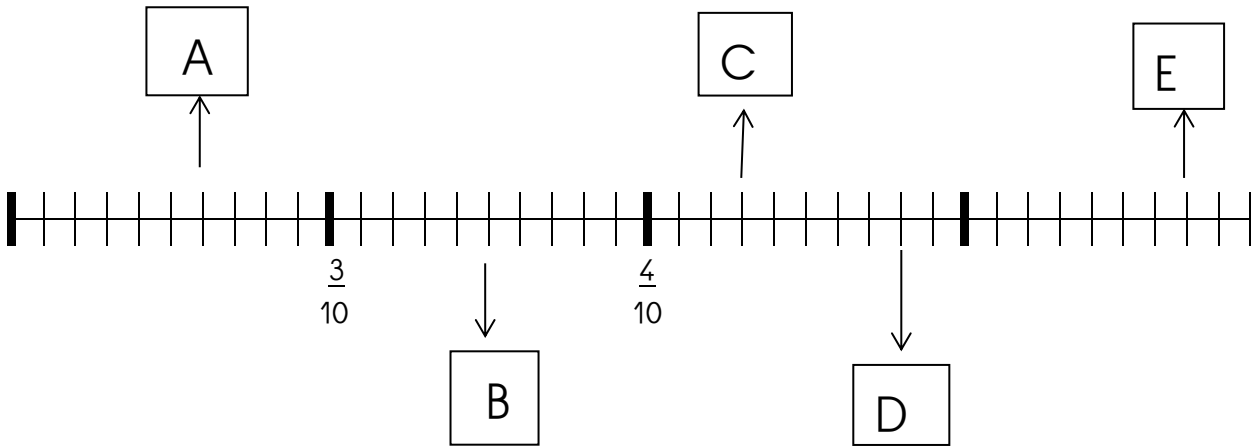
$$\frac{74}{100}$$

$$\frac{92}{100}$$

$$\frac{86}{100}$$



Pour chaque lettre écris la fraction qui lui correspond



Pour chaque lettre écris la fraction qui lui correspond

