



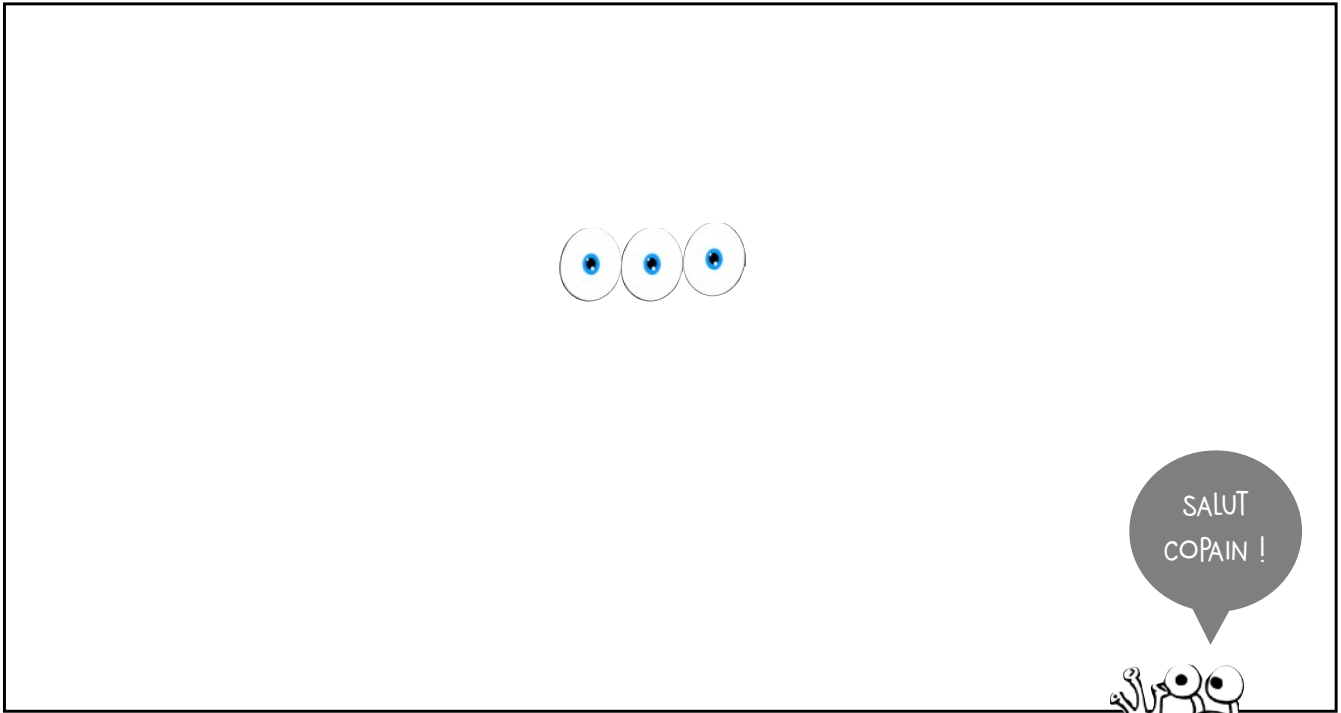
**4 Dessine** le monstre qui est décrit dans le texte.



J'ai vu un monstre. Il a **trois yeux**, **une tête** et **quatre oreilles**.

Il a aussi **huit jambes** et **un bras**.

Mais le plus effrayant ce sont ses **quatre dents** pointues.



**Comment s'appelle ce monstre ?**

Ce monstre s'appelle

--	--	--	--	--	--	--	--	--	--	--	--	--	--	--




**5 Lis** le texte et **répond** aux questions.

Je suis rouge, orange, jaune ou blanche. Mon parfum embaume la maison. Mais gare à mes épines quand tu me cueilles.

► **Qui suis-je?** .....

► **Dessine-moi.**

► **Entoure ce qui justifie ta réponse.**



Date : \_\_\_\_\_

Nom : \_\_\_\_\_

1	Je sais écrire les nombres 1 à 5	NA	ECA	PA	A
2	Je sais faire la somme de deux petits nombres.	NA	ECA	PA	A
3	Je sais faire la différence entre un nombre supérieur ou égal à 10 et un petit nombre.	NA	ECA	PA	A
4	Je connais les compléments de 10.	NA	ECA	PA	A
5	Je connais les doubles des nombres	NA	ECA	PA	A
6	Je sais trouver les coordonnées d'une figure sur un quadrillage.	NA	ECA	PA	A
7	Je sais me servir des dizaines pour dénombrer une quantité.	NA	ECA	PA	A

A : Acquis • PA : Presque Acquis • ECA : En Cours d'Acquisition • NA : Non Acquis

**1** Ecris les nombres en lettres.

1 :  2 :  3 :  4 :  5 : 

**2** Calcule ces additions.

$3 + 3 =$

$6 + 3 =$

$7 + 3 =$

**3** Calcule ces soustractions.

$10 - 3 =$

$10 - 5 =$

$10 - 10 =$

**4** Complète.

$5 + \dots = 10$

$0 + \dots = 10$

$10 + \dots = 10$

**5** Indique le double des nombres.

Le double de 2 • ... + ... = ...





Le double de 4 • ... + ... = ...


Le double de 6 • ... + ... = ...



6 Ecris les coordonnées de ces figures.



	1	2	3	4
A				
B				
C				
D				


 (A;1)







7 Entoure les dizaines pour compter les étoiles.



Il y a ..... dizaines et ..... unités.

Donc, il y a ..... étoiles.



8 Colorie ce mandala avec tes crayons de couleurs.

