

mon prénom :

Evaluation : Mathématiques CM1

la date :

Compétences du LSUN :

Non
atteint

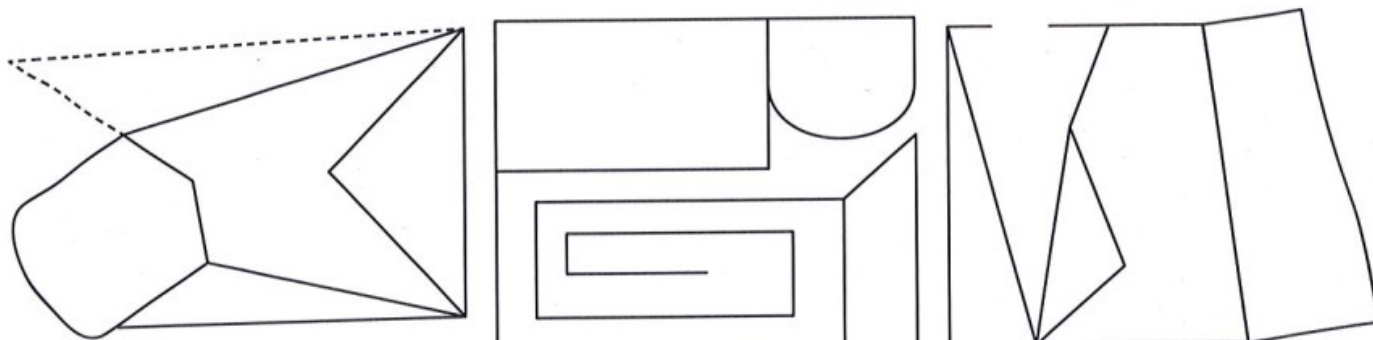
Partiellement
atteint

Atteint

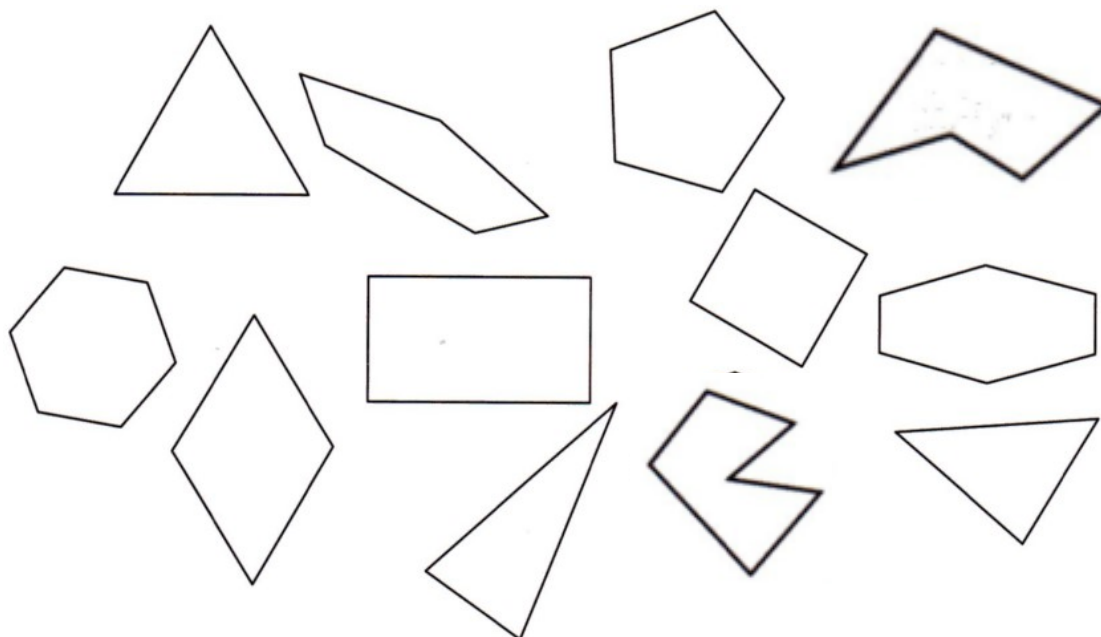
Dépassé

Reconnaitre et utiliser quelques relations géométriques / (notions d'alignement, d'appartenance, de perpendicularité, de parallélisme, d'égalité de longueurs, d'égalité d'angles, de distance entre deux points, de symétrie, d'agrandissement et de réduction) : les figures planes.

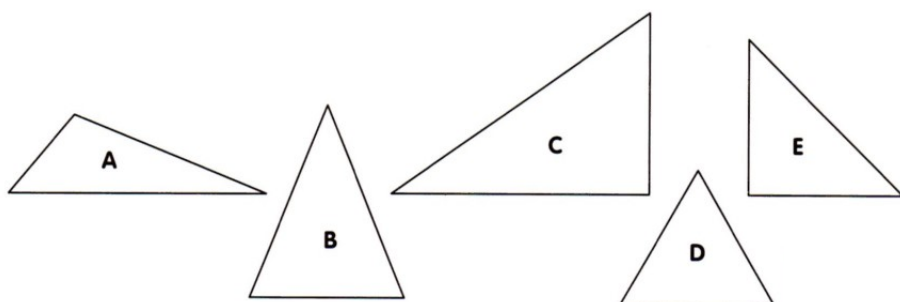
Exercice 1 : Colorie les polygones.



Exercice 2 : Colorie les triangles en orange, les quadrilatères en bleu, les pentagones en rouge, les hexagones en vert.



Exercice 3 : Écris le nom de chaque triangle.



A : _____

B : _____

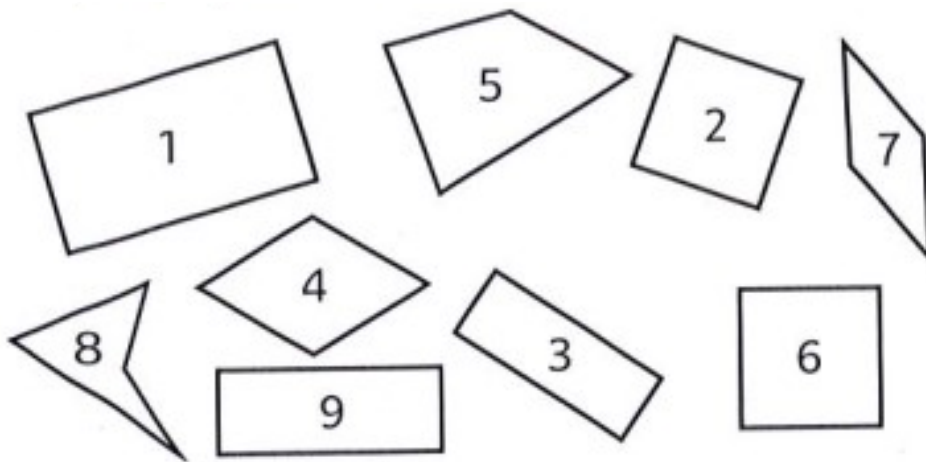
C : _____

D : _____

E : _____

Exercice 4 : Trace le triangle équilatéral ABC. Ses côtés mesurent 5 cm.

Exercice 5 : Colorie les quadrilatères : les carrés en bleu, les rectangles en orange et les losanges en vert, les autres quadrilatères en jaune.



Exercice 6 : trace le rectangle ABCD tel que $AB = 4$ cm et $BC = 3$ cm.

Exercice 7 : Trace le carré EFGH. Ses côtés mesurent 4 cm.

Exercice 8 : Trace un cercle de centre O et de rayon 3 cm.

Trace en bleu un rayon du cercle.

Trace en vert un diamètre du cercle.

Signature des parents

