

Prénom :

Date :

ÉVALUATION de géométrie CE2

Connaitre et reproduire les quadrilatères particuliers

Signature des parents :

Connaitre les propriétés du carré , du rectangle, du triangle rectangle et du losange

1. Donne la définition des mots suivants :

15

Un carré c'est une figure qui a :

.....

Un rectangle c'est une figure qui a :

.....

Un losange c'est une figure qui a :

.....

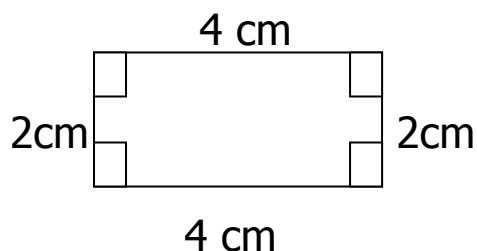
Un triangle rectangle c'est une figure qui a :

.....

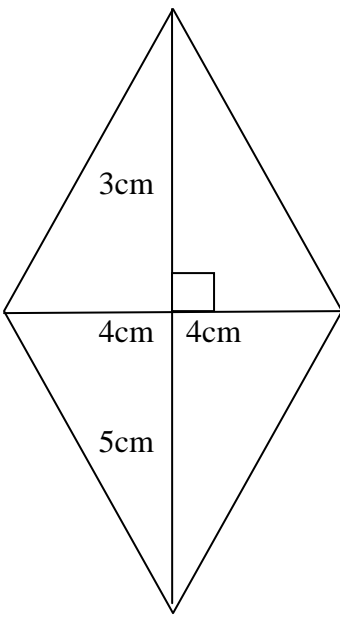
Reproduire un carré, un rectangle, un losange, un triangle rectangle
Utiliser les instruments de géométrie pour reproduire une figure de mesures données
Tracer des droites perpendiculaires

2. Reproduis les figures selon le modèle.

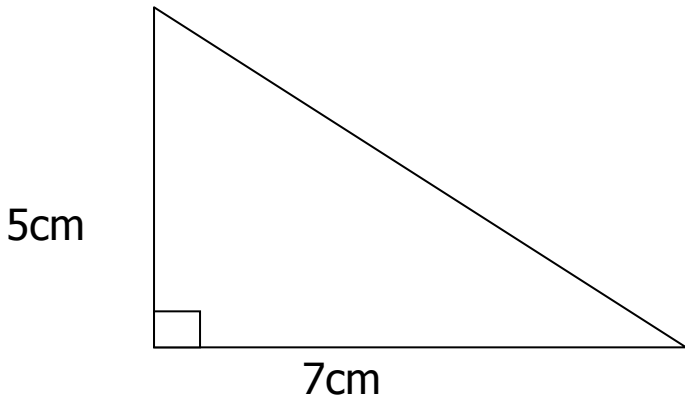
5



C'est un.....



C'est un.....



C'est un.....