



# Evaluation diagnostique

## CE1

NOM : \_\_\_\_\_

Prénom : \_\_\_\_\_











*Disciplines évaluées*

	TB	B	AB	AR
Lecture / Compréhension.				
Ecriture / Copie.				
Mathématiques.				



# Lecture

Score : ..... / 7

	A	B	C	D
<p>Quel mot correspond à l'image ?</p> 	maizon	saizon	maison	maizan
<p>Quel mot correspond à l'image ?</p> 	sonrie	souris	sauris	zouris
<p>Complète la phrase suivante avec le mot qui convient. Il était une fois _____ menuisier.</p>	in	en	à	un
<p>Complète la phrase avec le mot qui convient. Le pantin pouvait bouger _____ parler.</p>	et	sur	en	un
<p>Quelle est l'image qui correspond à la phrase ? La petite fille le regarde.</p>				
<p>Quelle est l'image qui correspond à la phrase ? Le camion est suivi par la voiture.</p>				
<p>Combien-y-a-t-il de syllabes dans le mot « pantalon » ?</p>	<input type="checkbox"/>	<input type="checkbox"/> <input type="checkbox"/>	<input type="checkbox"/> <input type="checkbox"/> <input type="checkbox"/>	<input type="checkbox"/> <input type="checkbox"/> <input type="checkbox"/> <input type="checkbox"/>



# Écriture / Copie

Score : ..... / 3

beaucoup

①

animaux

②

pour

③

ombre

④


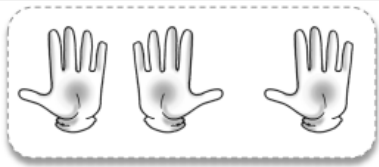

Les animaux sont à l'ombre.


La phrase est à écrire 1 fois.



# Maths

Score : . . . . / //

	A	B	C	D
Complète cette suite de nombres : 16 – 17 – 18 – ?	15	14	20	19
Quelle est la moitié de 10 ?	20	5	15	25
Comment peut-on écrire le nombre 25 ?	2 + 5	200 + 5	2 dizaines 5 unités	10 + 5
Dans le nombre 59, 9 est le chiffre des...	unités	dizaines	centaines	milliers
Le résultat de l'addition 57 + 12 est...	60	63	66	69
Quel est le résultat de 9 + 8 ?	15	16	17	18
Quel est le nom de la figure suivante ? 	un carré	un rectangle	un losange	un triangle
Quel est le résultat de 80 – 60 ?	20	30	40	50
Colorie les cases lorsque le résultat est égal à : 	12 + 3	2 + 5	10 + 5	1 dizaine 5 unités
Quel mois est juste avant octobre ?	décembre	novembre	septembre	janvier
Quel jour est entre samedi et lundi ?	jeudi	dimanche	mardi	mercredi