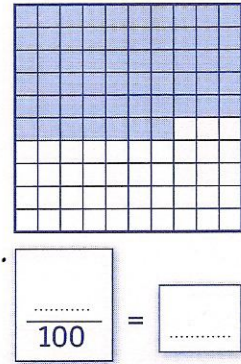
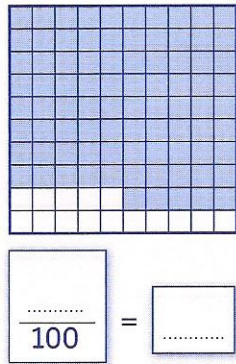
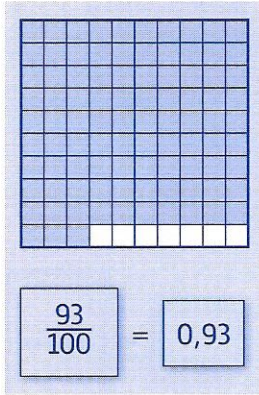
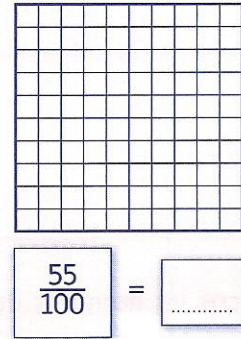
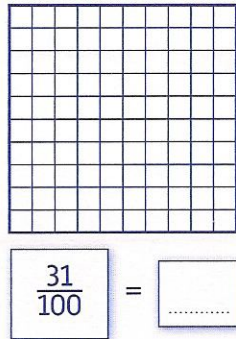
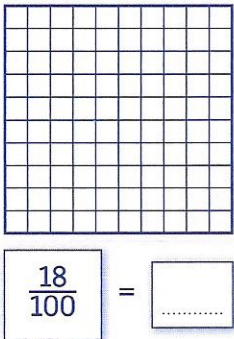






- 1 Écris le nombre décimal et la fraction qui correspondent à la partie grisée sur le dessin, comme dans l'exemple.



- 2 Colorie la partie du dessin qui correspond à la fraction proposée, puis écris le nombre décimal représenté.



- 3 Colorie la partie du dessin qui représente le nombre décimal proposé, puis écris la fraction qui correspond.



- 4 Relie chaque nombre à sa position sur l'axe.

0,15

0,41

0,03

0,30

