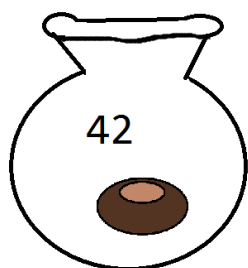




Dans la forêt

Les élèves de cp sont allés dans la forêt. Ils ont ramassé des marrons.

Lola



Marine



Ali



Qui a ramassé le plus de marrons? _____

Complète les phrases


Marine a _____ marrons de plus que _____.

Marine a _____ marrons de moins que _____.

Lola a _____ qu' Ali.

1. Sarah a 4 feuilles de plus que Lana. Dessine les feuilles de Sarah.

Lana





Sarah



2. Charlie a 5 feuilles de moins que Valérie: dessine les feuilles de Charlie.

Valérie



Charlie




3. Léa a vu 25 champignons.
Rémi a 3 champignons en plus.
Combien Rémi a-t-il vu de champignons?
Utilise la file numérique.



18	19	20	21	22	23	24	25	26	27	28	29	30	31	32
----	----	----	----	----	----	----	----	----	----	----	----	----	----	----

Rémi a vu ____ champignons.

4. Aurélie a ramassé 10 glands.
Elle a 2 glands de moins que Sonia.
Combien Sonia a-t-elle ramassé de glands?
Utilise la file numérique



4	5	6	7	8	9	10	11	12	13	14	15	16	17	18
---	---	---	---	---	---	----	----	----	----	----	----	----	----	----

Sonia a ramassé ____ glands.