





Labyrinthe des jus

103 cL	14,4 dl 	0,015 hL 
15,5 dL	0,9 L + 0,65 L	0,16 daL
2 dL + 1,2 L	0,005 hL	30 cL + 1 L

Trouve le jus préféré de la maîtresse.
Elle ne passera que sur les cases supérieures à 1,45 L.

1.



Labyrinthe des jus

1,25 L	1200 ml 	12,02 hL 
250 cL	12,60 daL	45 cL + 3 L
150 cL	22,50 cL	25 ml

Trouve le jus préféré de la maîtresse.
Elle ne passera que sur les cases supérieures à 2,45 L.

2.



Labyrinthe des jus

13,2 daL	31,2 dl 	0,016 hL 
126 dL	2 L + 2 daL	0,17 daL
2 dL + 1 L	12,36 hL	30 cL + 1 L

Trouve le jus préféré de la maîtresse.
Elle ne passera que sur les cases supérieures à 3 L.

3.


Labyrinthe des jus

1200 cL	750 dl 	45 L + 1,2 daL 
6,3 hL	2 L + 25 L	0,16 daL
3 hL + 1,3 kL	66 daL	656 L

Trouve le jus préféré de la maîtresse.
Elle ne passera que sur les cases supérieures à 6 hL.

4.

Labyrinthe des glaces



Trouve ma glace préférée.
Elle ne passera que sur les cases supérieures à