
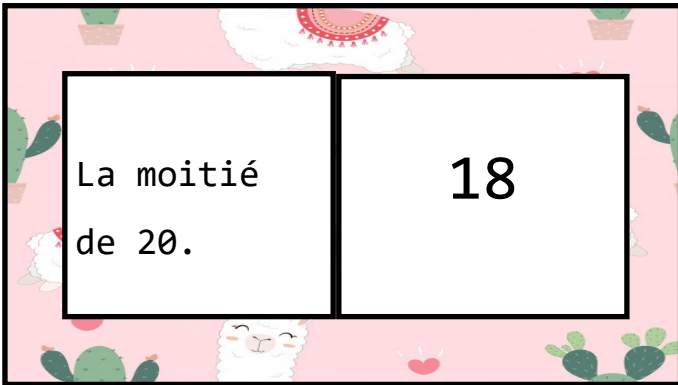


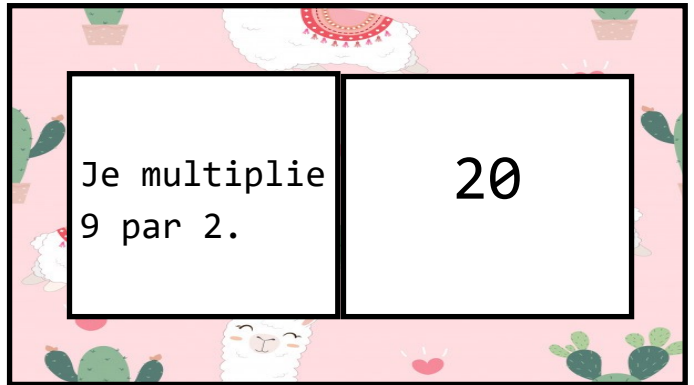
Je divise 30 en 2.	16
-----------------------	----



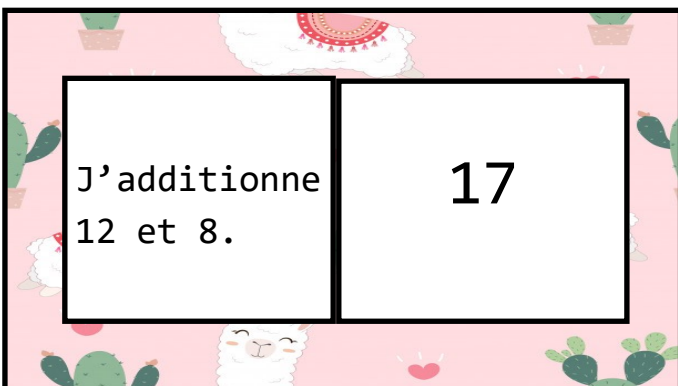
Le double de 8.	10
--------------------	----



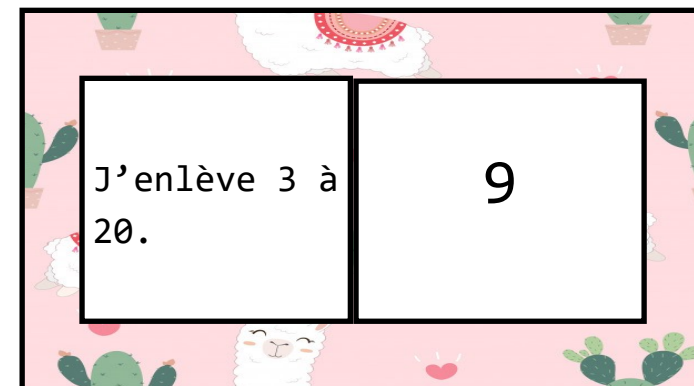
La moitié de 20.	18
---------------------	----



Je multiplie 9 par 2.	20
--------------------------	----



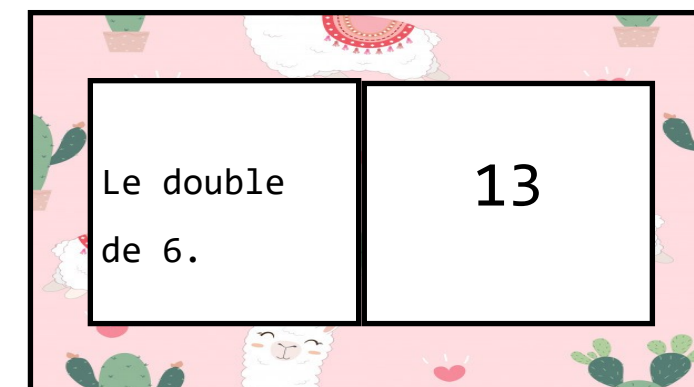
J'additionne 12 et 8.	17
--------------------------	----



J'enlève 3 à 20.	9
---------------------	---



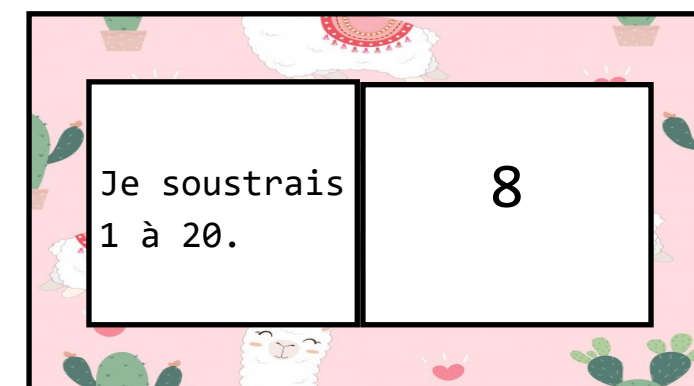
Je dessine 3 paquets de 3.	12
----------------------------------	----



Le double de 6.	13
--------------------	----



J'ajoute 7 à 6	19
-------------------	----



Je soustrais 1 à 20.	8
-------------------------	---

La moitié de 16.	11
---------------------	----

Je supprime 6 de 17.	14
-------------------------	----

J'additionne 2 et 12.	7
--------------------------	---

Je partage 14 en 2.	5
------------------------	---

Je coupe 20 en 4.	21
----------------------	----

3 paquets de 7.	1
--------------------	---

Je soustrais 4 à 5.	22
------------------------	----

Le double de 11.	0
---------------------	---

Il ne reste plus rien.	26
---------------------------	----

J'ajoute 6 à 20.	15
---------------------	----