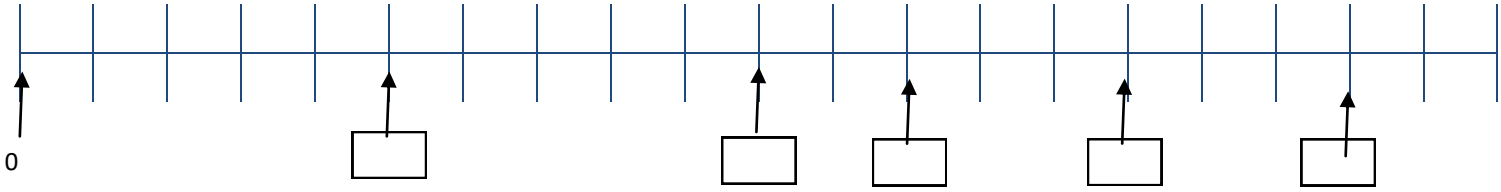
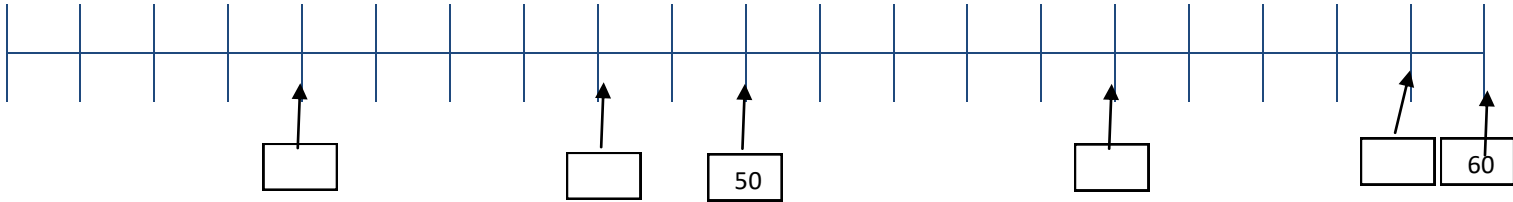


Placer et ordonner des nombres sur une droite

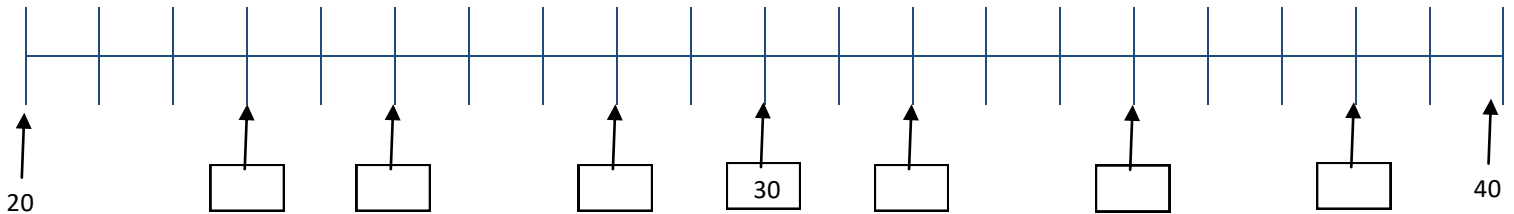
1) Complète les étiquettes.



2) Complète les étiquettes.



3) Complète les étiquettes avec les nombres :



Décomposer des nombres

Décompose les nombres suivants :

28 = _____

59 = _____

62 = _____

40 = _____

Calcule:

$58 + 2 =$ _____

$60 - 1 =$ _____

$50 + 3 =$ _____

$8 + 20 =$ _____

$13 - 4 =$ _____

$15 + 7 =$ _____

$8 + 12 =$ _____

$40 + 9 =$ _____

$50 + 10 =$ _____

$40 + 20 =$ _____

$35 + 5 =$ _____

$7 + 17 =$ _____

$9 + 9 =$ _____

$10 + 10 =$ _____

$7 + 3 =$ _____

$30 + 30 =$ _____