



Logique : niveau 1

Combien d'enfants mangent tous les jours à la cantine ? :

	lundi	mardi	jeudi	vendredi
Chloé	X	X	X	X
Florian		X		X
Anne		X		
Paul			X	X
Marion	X	X	X	X

Logique : niveau 2

Sur le bureau d'un président, il y a 5 téléphones. Chacun a une couleur différente.

Le blanc n'est ni à côté du bleu, ni à côté du rouge, ni à côté du gris.

Le jaune n'est ni à côté du bleu, ni à côté du gris.

Le bleu n'est pas à côté du rouge.



Le gris est à droite du rouge.

Colorie les 5 téléphones dans l'ordre où ils sont disposés sur le bureau.



Logique : niveau 1

Complète cette suite en t'aidant des formes proposées, attention il y a des intrus :



Logique : niveau 2

Camille a un chien, deux chats, deux perroquets et quatre poissons.

Combien y a-t-il de pattes d'animaux dans la maison quand ils y sont tous ?



12

14

16

18

20



Logique : niveau 1

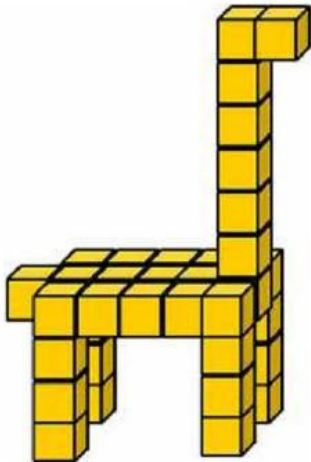
Combien y a-t-il de rectangles cachés ? :



Nous comptons rectangles.

Logique : niveau 2

Combien faut-il de cubes pour construire cette girafe ? :



Nous comptons cubes.