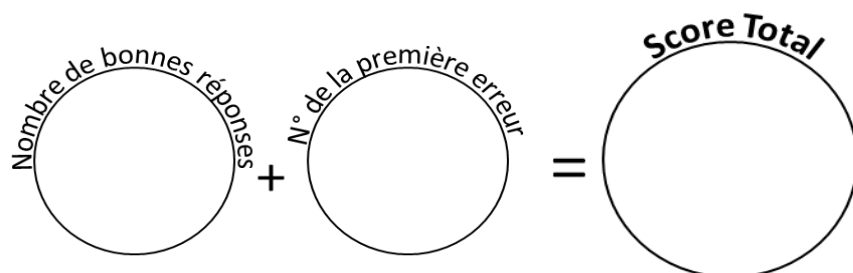


49 calculs en 5 minutes
(série 316)
Ceinture noire

Réponses
Ceinture noire
série 316

1	98,8 pour aller à 99 : _____	26	31 x 25 = _____	0,2	775
2	46,94 pour aller à 47 : _____	27	5 x 75 = _____	0,06	375
3	53,78 : 10 = _____	28	48 : 4 = _____	5,378	12
4	33 x 50 = _____	29	61,9 pour aller à 62 : _____	1650	0,1
5	21 x 25 = _____	30	37,53 pour aller à 38 : _____	525	0,47
6	17 x 75 = _____	31	54,32 : 10 = _____	1275	5,432
7	96 : 4 = _____	32	1 x 50 = _____	24	50
8	24,2 pour aller à 25 : _____	33	38 x 25 = _____	0,8	950
9	37,79 pour aller à 38 : _____	34	7 x 75 = _____	0,21	525
10	93,5 : 10 = _____	35	40 : 4 = _____	9,35	10
11	39 x 50 = _____	36	58,7 pour aller à 59 : _____	1950	0,3
12	32 x 25 = _____	37	90,49 pour aller à 91 : _____	800	0,51
13	9 x 75 = _____	38	63,02 : 10 = _____	675	6,302
14	68 : 4 = _____	39	14 x 50 = _____	17	700
15	10,1 pour aller à 11 : _____	40	37 x 25 = _____	0,9	925
16	31,75 pour aller à 32 : _____	41	7 x 75 = _____	0,25	525
17	58,68 : 10 = _____	42	52 : 4 = _____	5,868	13
18	28 x 50 = _____	43	96,7 pour aller à 97 : _____	1400	0,3
19	10 x 25 = _____	44	34,26 pour aller à 35 : _____	250	0,74
20	6 x 75 = _____	45	15,56 : 10 = _____	450	1,556
21	52 : 4 = _____	46	7 x 50 = _____	13	350
22	88,4 pour aller à 89 : _____	47	24 x 25 = _____	0,6	600
23	54,29 pour aller à 55 : _____	48	6 x 75 = _____	0,71	450
24	61,35 : 10 = _____	49	68 : 4 = _____	6,135	17
25	26 x 50 = _____			1300	

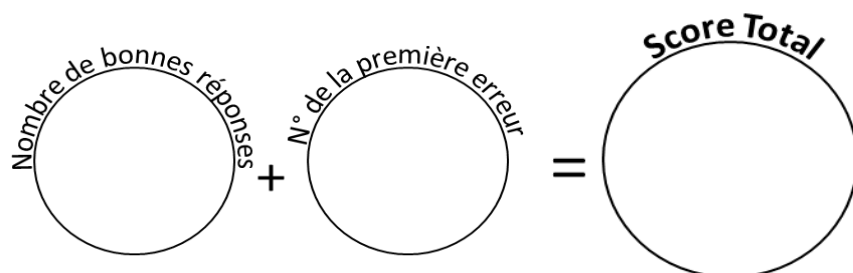


Reporte ton score sur ton graphique !

49 calculs en 5 minutes
(série 9)
Ceinture noire

Réponses
Ceinture noire
série 9

1	67,3 pour aller à 68 : _____	26	17 x 25 = _____	0,7	425
2	8,23 pour aller à 9 : _____	27	15 x 75 = _____	0,77	1125
3	91,16 : 10 = _____	28	92 : 4 = _____	9,116	23
4	20 x 50 = _____	29	62,6 pour aller à 63 : _____	1000	0,4
5	6 x 25 = _____	30	4,77 pour aller à 5 : _____	150	0,23
6	16 x 75 = _____	31	14,8 : 10 = _____	1200	1,48
7	80 : 4 = _____	32	1 x 50 = _____	20	50
8	53,7 pour aller à 54 : _____	33	14 x 25 = _____	0,3	350
9	70,61 pour aller à 71 : _____	34	12 x 75 = _____	0,39	900
10	67,57 : 10 = _____	35	32 : 4 = _____	6,757	8
11	38 x 50 = _____	36	84,6 pour aller à 85 : _____	1900	0,4
12	35 x 25 = _____	37	46,92 pour aller à 47 : _____	875	0,08
13	13 x 75 = _____	38	48,68 : 10 = _____	975	4,868
14	64 : 4 = _____	39	23 x 50 = _____	16	1150
15	1,6 pour aller à 2 : _____	40	35 x 25 = _____	0,4	875
16	35,3 pour aller à 36 : _____	41	13 x 75 = _____	0,7	975
17	64,79 : 10 = _____	42	68 : 4 = _____	6,479	17
18	35 x 50 = _____	43	13,2 pour aller à 14 : _____	1750	0,8
19	17 x 25 = _____	44	76,95 pour aller à 77 : _____	425	0,05
20	12 x 75 = _____	45	64,13 : 10 = _____	900	6,413
21	52 : 4 = _____	46	12 x 50 = _____	13	600
22	43,2 pour aller à 44 : _____	47	15 x 25 = _____	0,8	375
23	41,2 pour aller à 42 : _____	48	15 x 75 = _____	0,8	1125
24	32,22 : 10 = _____	49	64 : 4 = _____	3,222	16
25	11 x 50 = _____			550	

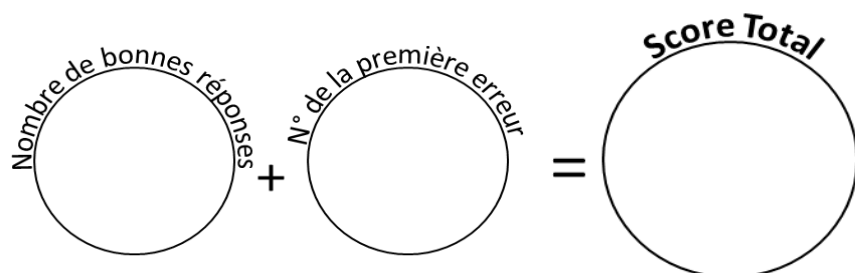


Reporte ton score sur ton graphique !

49 calculs en 5 minutes
(série 893)
Ceinture noire

Réponses
Ceinture noire
série 893

1	11,3 pour aller à 12 : _____	26	12 x 25 = _____	0,7	300
2	60,88 pour aller à 61 : _____	27	4 x 75 = _____	0,12	300
3	87,12 : 10 = _____	28	40 : 4 = _____	8,712	10
4	18 x 50 = _____	29	93,1 pour aller à 94 : _____	900	0,9
5	39 x 25 = _____	30	46,16 pour aller à 47 : _____	975	0,84
6	20 x 75 = _____	31	46,49 : 10 = _____	1500	4,649
7	92 : 4 = _____	32	33 x 50 = _____	23	1650
8	99,5 pour aller à 100 : _____	33	7 x 25 = _____	0,5	175
9	64,25 pour aller à 65 : _____	34	12 x 75 = _____	0,75	900
10	40,53 : 10 = _____	35	96 : 4 = _____	4,053	24
11	39 x 50 = _____	36	32,8 pour aller à 33 : _____	1950	0,2
12	3 x 25 = _____	37	5,66 pour aller à 6 : _____	75	0,34
13	12 x 75 = _____	38	98,23 : 10 = _____	900	9,823
14	84 : 4 = _____	39	5 x 50 = _____	21	250
15	29,2 pour aller à 30 : _____	40	36 x 25 = _____	0,8	900
16	58,99 pour aller à 59 : _____	41	20 x 75 = _____	0,01	1500
17	41,38 : 10 = _____	42	96 : 4 = _____	4,138	24
18	24 x 50 = _____	43	94,1 pour aller à 95 : _____	1200	0,9
19	38 x 25 = _____	44	39,92 pour aller à 40 : _____	950	0,08
20	2 x 75 = _____	45	58,6 : 10 = _____	150	5,86
21	28 : 4 = _____	46	15 x 50 = _____	7	750
22	94,3 pour aller à 95 : _____	47	2 x 25 = _____	0,7	50
23	72,53 pour aller à 73 : _____	48	18 x 75 = _____	0,47	1350
24	68,18 : 10 = _____	49	100 : 4 = _____	6,818	25
25	19 x 50 = _____			950	

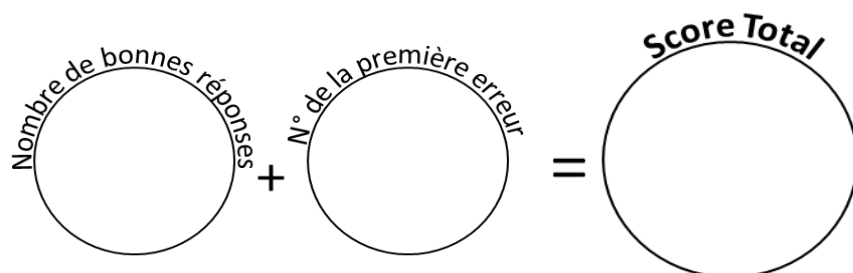


Reporte ton score sur ton graphique !

49 calculs en 5 minutes
(série 768)
Ceinture noire

Réponses
Ceinture noire
série 768

1	8,7 pour aller à 9 : _____	26	23 x 25 = _____	0,3	575
2	34,46 pour aller à 35 : _____	27	5 x 75 = _____	0,54	375
3	6,8 : 10 = _____	28	24 : 4 = _____	0,68	6
4	2 x 50 = _____	29	69,6 pour aller à 70 : _____	100	0,4
5	13 x 25 = _____	30	60,47 pour aller à 61 : _____	325	0,53
6	11 x 75 = _____	31	60,86 : 10 = _____	825	6,086
7	28 : 4 = _____	32	11 x 50 = _____	7	550
8	59,5 pour aller à 60 : _____	33	9 x 25 = _____	0,5	225
9	6,07 pour aller à 7 : _____	34	2 x 75 = _____	0,93	150
10	64,08 : 10 = _____	35	68 : 4 = _____	6,408	17
11	36 x 50 = _____	36	94,7 pour aller à 95 : _____	1800	0,3
12	16 x 25 = _____	37	33,54 pour aller à 34 : _____	400	0,46
13	18 x 75 = _____	38	47,79 : 10 = _____	1350	4,779
14	100 : 4 = _____	39	7 x 50 = _____	25	350
15	87,8 pour aller à 88 : _____	40	7 x 25 = _____	0,2	175
16	73,48 pour aller à 74 : _____	41	1 x 75 = _____	0,52	75
17	22,86 : 10 = _____	42	60 : 4 = _____	2,286	15
18	14 x 50 = _____	43	13,7 pour aller à 14 : _____	700	0,3
19	27 x 25 = _____	44	76,46 pour aller à 77 : _____	675	0,54
20	5 x 75 = _____	45	28,34 : 10 = _____	375	2,834
21	64 : 4 = _____	46	29 x 50 = _____	16	1450
22	56,2 pour aller à 57 : _____	47	28 x 25 = _____	0,8	700
23	83,91 pour aller à 84 : _____	48	1 x 75 = _____	0,09	75
24	73,96 : 10 = _____	49	36 : 4 = _____	7,396	9
25	28 x 50 = _____			1400	

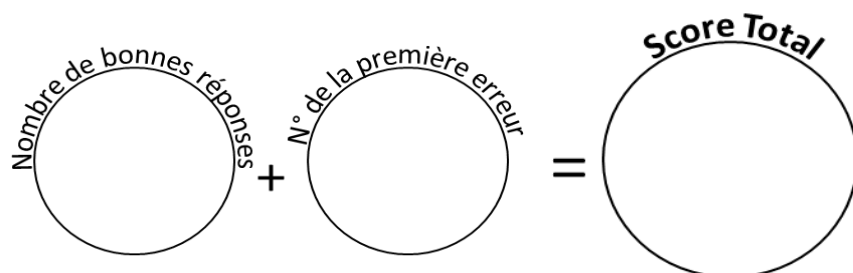


Reporte ton score sur ton graphique !

49 calculs en 5 minutes
(série 180)
Ceinture noire

Réponses
Ceinture noire
série 180

1	54,4 pour aller à 55 : _____	26	10 x 25 = _____	0,6	250
2	20,18 pour aller à 21 : _____	27	15 x 75 = _____	0,82	1125
3	4,08 : 10 = _____	28	40 : 4 = _____	0,408	10
4	22 x 50 = _____	29	9,4 pour aller à 10 : _____	1100	0,6
5	29 x 25 = _____	30	46,26 pour aller à 47 : _____	725	0,74
6	1 x 75 = _____	31	46,9 : 10 = _____	75	4,69
7	52 : 4 = _____	32	28 x 50 = _____	13	1400
8	9,1 pour aller à 10 : _____	33	19 x 25 = _____	0,9	475
9	72,67 pour aller à 73 : _____	34	3 x 75 = _____	0,33	225
10	22,06 : 10 = _____	35	84 : 4 = _____	2,206	21
11	28 x 50 = _____	36	32,4 pour aller à 33 : _____	1400	0,6
12	29 x 25 = _____	37	30,43 pour aller à 31 : _____	725	0,57
13	17 x 75 = _____	38	58,25 : 10 = _____	1275	5,825
14	52 : 4 = _____	39	28 x 50 = _____	13	1400
15	35,6 pour aller à 36 : _____	40	11 x 25 = _____	0,4	275
16	12,84 pour aller à 13 : _____	41	15 x 75 = _____	0,16	1125
17	78,34 : 10 = _____	42	32 : 4 = _____	7,834	8
18	37 x 50 = _____	43	80,5 pour aller à 81 : _____	1850	0,5
19	13 x 25 = _____	44	56,83 pour aller à 57 : _____	325	0,17
20	10 x 75 = _____	45	1,87 : 10 = _____	750	0,187
21	24 : 4 = _____	46	12 x 50 = _____	6	600
22	65,4 pour aller à 66 : _____	47	16 x 25 = _____	0,6	400
23	7,5 pour aller à 8 : _____	48	20 x 75 = _____	0,5	1500
24	12,07 : 10 = _____	49	60 : 4 = _____	1,207	15
25	9 x 50 = _____			450	

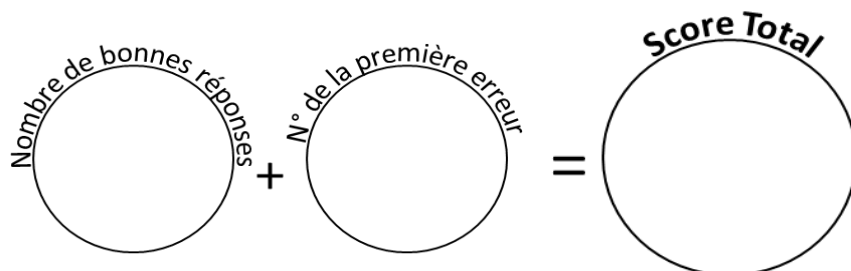


Reporte ton score sur ton graphique !

49 calculs en 5 minutes
(série 709)
Ceinture noire

Réponses
Ceinture noire
série 709

1	20,8 pour aller à 21 : _____	26	22 x 25 = _____	0,2	550
2	98,81 pour aller à 99 : _____	27	2 x 75 = _____	0,19	150
3	2,22 : 10 = _____	28	52 : 4 = _____	0,222	13
4	25 x 50 = _____	29	74,2 pour aller à 75 : _____	1250	0,8
5	25 x 25 = _____	30	78,06 pour aller à 79 : _____	625	0,94
6	16 x 75 = _____	31	38,77 : 10 = _____	1200	3,877
7	56 : 4 = _____	32	23 x 50 = _____	14	1150
8	13,3 pour aller à 14 : _____	33	16 x 25 = _____	0,7	400
9	13,05 pour aller à 14 : _____	34	12 x 75 = _____	0,95	900
10	35,45 : 10 = _____	35	76 : 4 = _____	3,545	19
11	14 x 50 = _____	36	85,4 pour aller à 86 : _____	700	0,6
12	22 x 25 = _____	37	5,67 pour aller à 6 : _____	550	0,33
13	16 x 75 = _____	38	16,46 : 10 = _____	1200	1,646
14	100 : 4 = _____	39	11 x 50 = _____	25	550
15	1,4 pour aller à 2 : _____	40	13 x 25 = _____	0,6	325
16	47,6 pour aller à 48 : _____	41	14 x 75 = _____	0,4	1050
17	23,23 : 10 = _____	42	68 : 4 = _____	2,323	17
18	15 x 50 = _____	43	15,6 pour aller à 16 : _____	750	0,4
19	17 x 25 = _____	44	30,74 pour aller à 31 : _____	425	0,26
20	1 x 75 = _____	45	71,13 : 10 = _____	75	7,113
21	40 : 4 = _____	46	1 x 50 = _____	10	50
22	49,4 pour aller à 50 : _____	47	33 x 25 = _____	0,6	825
23	85,35 pour aller à 86 : _____	48	16 x 75 = _____	0,65	1200
24	20,92 : 10 = _____	49	96 : 4 = _____	2,092	24
25	30 x 50 = _____			1500	



Reporte ton score sur ton graphique !