
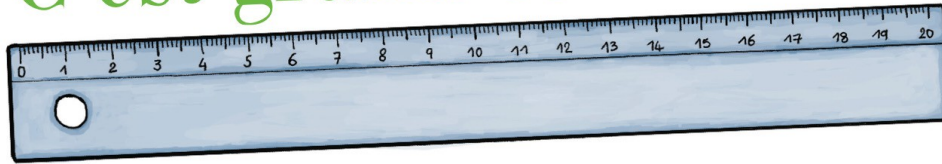


C'est grand comment ?



C'est grand comment ?



Pour mesurer les petits objets, on compte en centimètres (cm).

Ton Pirouette mesure
24 cm de haut.



Une gomme mesure
5 cm.



Un feutre mesure
15 cm.




Un tube de colle mesure 8 cm.




Pour mesurer les grands objets, on compte en mètres (m).

Un éléphant mesure
3,50 m



La grande échelle des pompiers mesure
30 m



Une voiture mesure
5 m



Pour mesurer les grandes distances, on compte en kilomètres (km).

La maison de Zoélie se trouve à

1 km

de la piscine.



La Lune se trouve à


384 400 km

de la Terre.



Le tour de la Terre mesure

40 000 km



Il y a 775 km entre Paris et Marseille.

<p>donne des informations. ●</p> <p>1. Ce texte est une recette de cuisine. ●●</p> <p>raconte une histoire. ●●●</p>
<p>2. Qu' utilise-t-on pour mesurer les petits objets ?</p> <p>On utilise les centimètres. ●</p> <p>Le texte ne le dit pas. ●●</p> <p>On utilise les mètres. ●●●</p>
<p>3. Qu' utilise-t-on pour mesurer les grands objets ?</p> <p>Le texte ne le dit pas. ●</p> <p>On utilise les kilomètres. ●●</p> <p>On utilise les mètres. ●●●</p>
<p>4. Qu' utilise-t-on pour mesurer les grandes distances ?</p> <p>On utilise les kilos. ●</p> <p>On utilise les centimètres. ●●</p> <p>On utilise les kilomètres. ●●●</p>
<p>5. Combien mesure un stylo feutre ?</p> <p>Il mesure 15 centimètres. ●</p> <p>Le texte ne le dit pas. ●●</p> <p>Il mesure 8 centimètres. ●●●</p>
<p>6. Combien mesure la grande échelle des pompiers ?</p> <p>Le texte ne le dit pas. ●</p> <p>Elle mesure 30 mètres. ●●</p> <p>Elle mesure 30 centimètres. ●●●</p>

<p>3,50 centimètres. ●</p> <p>7. Un éléphant mesure ... 3,50 mètres. ●●</p> <p>3,50 kilomètres. ●●●</p>
<p>8. Quelle est la distance entre la Terre et la Lune ?</p> <p>384 400 centimètres ●</p> <p>384 400 kilomètres ●●</p> <p>Le texte ne le dit pas. ●●●</p>
<p>9. Quelle est la grandeur d'une girafe ?</p> <p>Le texte ne le dit pas. ●</p> <p>Elle mesure 4 centimètres. ●●</p> <p>Elle mesure 4 kilomètres. ●●●</p>
<p>10. Combien fait le tour de la Terre ?</p> <p>Le texte ne le dit pas. ●</p> <p>Il fait 40 000 km. ●●</p> <p>Il fait 40 000 m. ●●●</p>
<p>11. Que signifie les lettres cm ?</p> <p>kilomètre. ●</p> <p>mètre ●●</p> <p>centimètre ●●●</p>
<p>12. Combien mesure une baleine ?</p> <p>Le texte ne le dit pas. ●</p> <p>Elle mesure 3 cm. ●●</p> <p>Elle mesure 1 km. ●●●</p>