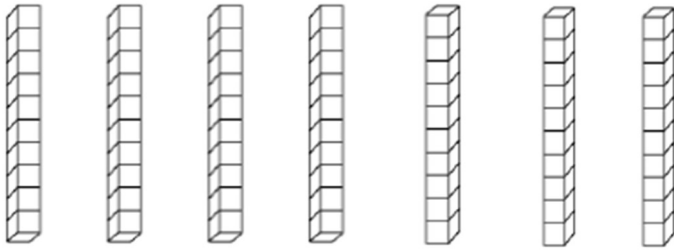


Chaque jour compte.


Aujourd'hui, c'est notre ____ème jour d'école.

dizaine	unité



$$\square + \square + \square + \square + \square + \square + \square$$

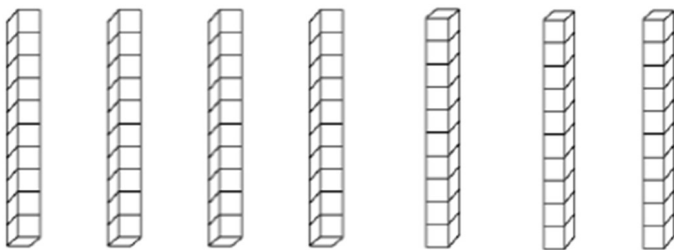
+



Chaque jour compte.

Aujourd'hui, c'est notre ____ème jour d'école.

dizaine	unité



$$\square + \square + \square + \square + \square + \square + \square$$

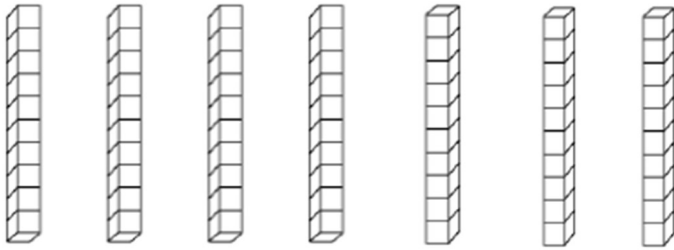
+



Chaque jour compte.


Aujourd'hui, c'est notre ____ème jour d'école.

dizaine	unité



$$\square + \square + \square + \square + \square + \square + \square$$

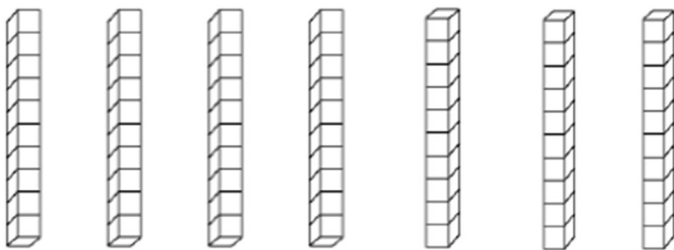
+



Chaque jour compte.

Aujourd'hui, c'est notre ____ème jour d'école.

dizaine	unité



$$\square + \square + \square + \square + \square + \square + \square$$

+

