


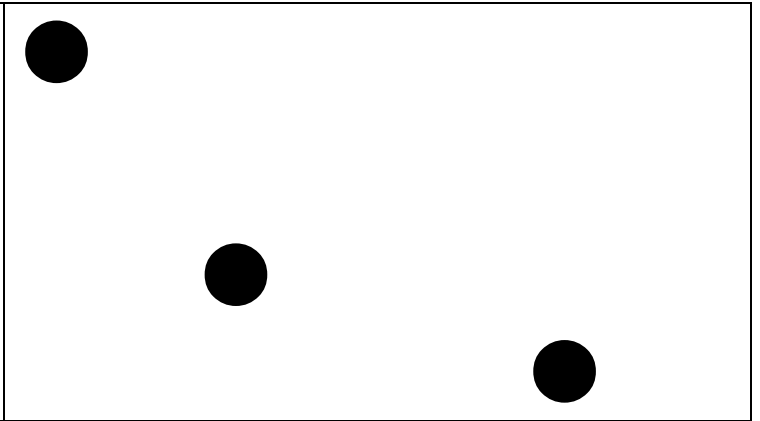
EXERCICES SUR LES NOMBRES

PRÉNOM : _____

Complète.

2	3	6	7
3	...	5	...	7	...
10	9	8

Complète pour faire 10.

	
---	---

Complète avec < ou >.

$8 \dots 3$

$11 \dots 8$

$7 \dots 10$

$23 \dots 19$

$16 \dots 9$

$18 \dots 17$

Calcule.

$2 + 1 = \dots$

$4 + 5 = \dots$

$4 + 4 = \dots$

$4 + 3 = \dots$

$7 + 2 = \dots$

$5 + 2 = \dots$



EXERCICES SUR LES NOMBRES

PRÉNOM : _____

Complète.

2	3	6	7
3	...	5	...	7	...
10	9	8

Complète pour faire 10.

	
---	---

Complète avec < ou >.

$8 \dots 3$

$11 \dots 8$

$7 \dots 10$

$23 \dots 19$

$16 \dots 9$

$18 \dots 17$

Calcule.

$2 + 1 = \dots$

$4 + 5 = \dots$

$4 + 4 = \dots$

$4 + 3 = \dots$

$7 + 2 = \dots$

$5 + 2 = \dots$