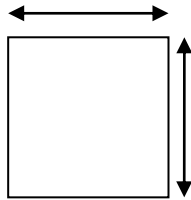



Pour calculer l'aire d'une figure, je dois connaître ses mesures et appliquer les formules.

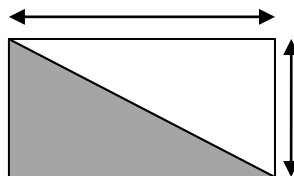
Pour un carré : côté x côté



Pour un rectangle : Longueur x largeur



Pour un triangle rectangle : Longueur x largeur (du quadrilatère) divisé par 2



Pour une **figure complexe** : identifier les quadrilatères et les triangles qui la composent puis calculer chaque aire. Enfin, ajouter toutes les aires.

