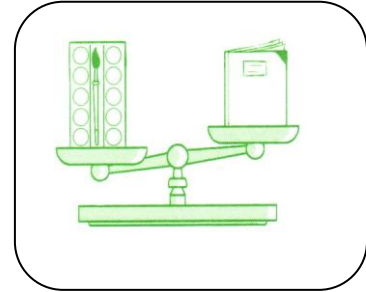






Prénom : Date :

Observe les objets et entoure le plus lourd :



Observe les objets et entoure le plus léger :



Ces objets ont la même masse :
Vrai ou faux ?



Réponse :

Classe les objets du plus lourd au plus léger :



La voiture lourd / lourde
Le livre léger / légère
Les fleurs

1 La bouteille est plus que la voiture.

2 La bouteille est plus que les fleurs.

➤ Je classe la voiture, la bouteille et les fleurs du plus lourd au plus léger :

3 La voiture est plus que le livre.

➤ Je classe maintenant tous les objets du plus lourd au plus léger :