









**Tableaux à double entrée**  
Niveau 4 fiche 3

## Prix des fournitures

	 Une règle	 Un crayon	 Des ciseaux	 Un livre	 Une gomme	 Une ardoise	 Un pot de colle	 Une craie
1€		X						X
2€	X				X		X	
3€			X					
4€				X		X		

**Réponds aux questions suivantes :**

Quels objets coutent 4€ ?

un livre - une ardoise

Combien coute le crayon ? 1€

Combien coutent une ardoise et une craie ? 4 + 1 = 5€

Puis-je acheter un livre et un crayon avec 5€ ? 4 + 1 = 5€ → oui

Combien coutent 2 paires de ciseaux ? 3 + 3 = 6€

Combien coutent un crayon, une gomme et une règle ? 1 + 2 + 2 = 5€