

NOM :

CE2

Prénom :



























Date :

GRANDEURS ET MESURES :




LA MONNAIE







Exercice 1 : Indique la somme de chaque objet.

	     	Un hamburger € c
	     	Un bonnet € c
	    	Un pull € c
	    	Une télévision € c

Exercice 2 : Dessine le moins de pièces et de billets possible pour payer ces objets.

	Une pile 4 € 50 c
	Une paire de gants 8 €
	Un fauteuil 77 €
	Un vélo 279 € 55 c

Exercice 3 : Dans chaque situation, indique la somme de chaque enfant. Qui a le plus d'argent.

	Paul	Léa	
			
	Argent :	Argent :	

Celui qui a le plus d'argent est

	Justine	Tom	
			
	Argent :	Argent :	

Celui qui a le plus d'argent est

Exercice 4 : Nathalie va dans plusieurs magasins. Elle achète différents produits. Combien la caissière lui rend à chaque fois ? Indique le prix en chiffres et dessine-le avec des pièces et des billets.

Objet	Prix de l'objet	Monnaie donnée par Nathalie	Monnaie rendue
	Un ours en peluche 7 € 50 c		
	Une paire de chaussures 32 €		
	Une gomme 0 € 37 c		
	Un robot 183 €		