






Je sais accorder le groupe du nom		
<input type="radio"/>	1. Orthographe	
Transforme au féminin:		
un petit ami mon lointain cousin son meilleur copain ton petit chat ce lion féroce un nouveau coiffeur un ancien ouvrier		
<input type="radio"/>	2. Orthographe	
Fais la fiche sur le pluriel des noms		
<input type="radio"/>	3. Orthographe	
Transforme au pluriel:		
Un garçon marche dans la rue. Il adore lire un livre. Le petit chat se sauve. Le médecin visite son malade. Cette vague secoue ce petit voilier. L'affiche annonce le programme. Un enfant joue avec un ballon.		
Je connais le sujet et le verbe		
<input type="radio"/>	4. Grammaire	
Choisis un sujet correct pour chaque phrase:		


Tom Pouce, le meunier, les médecins, un gros poisson, Madame Pouce, les pêcheurs.

.....**est** trop curieux.
**jette** sa pâte à gâteau par la fenêtre.
 **chante** à tue-tête.
ne **guérissent** pas le pauvre chanteur.
 **avale** le petit homme.
**attrapent** un beau poisson.

5. Grammaire 

Souligne le sujet en bleu et le verbe en rouge:

Le facteur sonne à la porte.
 Les diplomates voyagent en avion.
 Nous sautons à la porte.
 Jules et Victor regardent la télévision.
 Elle a oublié son livre.
 Manon regarde dehors.
 Paul et toi êtes mes meilleurs amis.


6. Grammaire 

Souligne le verbe en rouge et le sujet en bleu, puis remplace le sujet par il, ils ou elle, elles:

Isabelle chante très bien.
 Mathieu est très sportif.
 Mes parents ne sont pas arrivés.
 Pauline et Apolline bavardent.
 La rencontre sportive approche.


Toute la classe participera à la compétition.
 Les petits de la maternelle nous accompagneront.

Je sais conjuguer au passé composé

7. Conjugaison 


Souligne le verbe puis écris son infinitif:

Nous avons voyagé en train.....
 Tu as terminé ton livre.....
 Il a nettoyé ses chaussures sales..
 Ma grand-mère a été coiffeuse.....
 J'ai adoré cette chanson!
 Vous avez percé ce mystère.....
 Les chiens ont aboyé toute la nuit.

8. Conjugaison 

Conjugué les verbes entre parenthèses au passé composé:

Hier, j' (oublier) mon cartable.
 Hier, tu (être) malade.
 Hier, vous (fermer) la porte à clé.
 Hier, nous (visiter) un château fort.
 Hier, il (avoir) une surprise.
 Hier, elles (aller) au cinéma.
 Hier, il (pleuvoir).


9. Conjugaison 

Conjugué les verbes soulignés au passé composé:

La maîtresse arrivera en retard.
 Le ballon éclate dans les rosiers.


Nous avons peur.
 Vous apprendrez votre poésie.
 Je monte sur la Tour Eiffel.
 Tu mangeras une crêpe au sucre.
 Ils jouent au loto.

Je sais ranger dans l'ordre alphabétique et je connais les familles de mots

10. Vocabulaire 

Range le mot en gras dans chaque liste en respectant l'ordre alphabétique:

maison: magasin – mairie – métro – musicien.
antenne: alarme – amener – anémone - animal
boisson: branche – bricoler - bulle - buste
immeuble : igloo - incendie – innombrable - inouï

11. Vocabulaire 







Classe ces mots en 3 familles:




le vent – un équilibriste – un ami – un éventail – éventer – équilibrer – amical – venteux – amicalement – un ventilateur – l'amitié – déséquilibrer

famille 1:

famille 2:

famille 3:

Je sais résoudre des problèmes		
<input type="radio"/>	12. Problèmes	
Fais la fiche 27		
<input type="radio"/>	13. Problèmes	
Fais la fiche 28		
Je sais tracer un triangle		
<input type="radio"/>	14. Géométrie	
<u>Fais la fiche «trouver l'axe de symétrie»</u>		
<input type="radio"/>	15. Géométrie	
<u>Fais la fiche «tracer un symétrique 1»</u>		
Je sais compter mentalement		
<input type="radio"/>	16. Calcul	
$20 + 3 + 40 + 7 =$ $100 - 92 =$ $45 + 5 + 110 =$ $100 - 30 =$ $34 + 50 + 6 =$ $100 - 51 =$ $58 + 60 + 2 =$ $100 - 42 =$ $54 + 6 + 53 =$ $100 - 12 =$		
<input type="radio"/>	17. Calcul	
$(60 + 40) - 10 =$ $(80 + 80) + 30 =$ $(150 + 50) - 60 =$ $(400 + 300) - 50 =$ $(600 + 90) - 40 =$ $(90 + 60) - 15 =$ $(250 + 60) - 5 =$ $(420 + 60) - 15 =$ $900 - (60 + 40) =$ $200 - (20 + 30) =$		

Je effectuer des calculs en colonnes		
<input type="radio"/>	18. Calcul	
Pose en colonnes dans ton cahier:		
$356 + 103 + 49 + 8 =$		
$563 - 275 =$ $863 - 289 =$		
$35 \times 5 =$ $73 \times 4 =$ $48 \times 3 =$		
Je connais les doubles et les moitiés		
<input type="radio"/>	19. Calcul	
Calcule le double de:		
$17 \dots\dots\dots 43 \dots\dots\dots$		
$28 \dots\dots\dots 38 \dots\dots\dots$		
$34 \dots\dots\dots 61 \dots\dots\dots$		
Calcule la moitié de:		
$62 \dots\dots\dots 32 \dots\dots\dots$		
$54 \dots\dots\dots 90 \dots\dots\dots$		
$28 \dots\dots\dots 98 \dots\dots\dots$		
<input type="radio"/>	20. Calcul	
Partage les nombres suivants:		
$48 : 2 = \dots\dots$ $25 : 5 = \dots\dots$		
$70 : 2 = \dots\dots$ $30 : 5 = \dots\dots$		
$76 : 2 = \dots\dots$ $40 : 5 = \dots\dots$		
$92 : 2 = \dots\dots$ $35 : 5 = \dots\dots$		

Prénom:

Colorie les jours du plan de travail :

- ① ② ③
④ ⑤
⑥ ⑦ ⑧ ⑨

5A