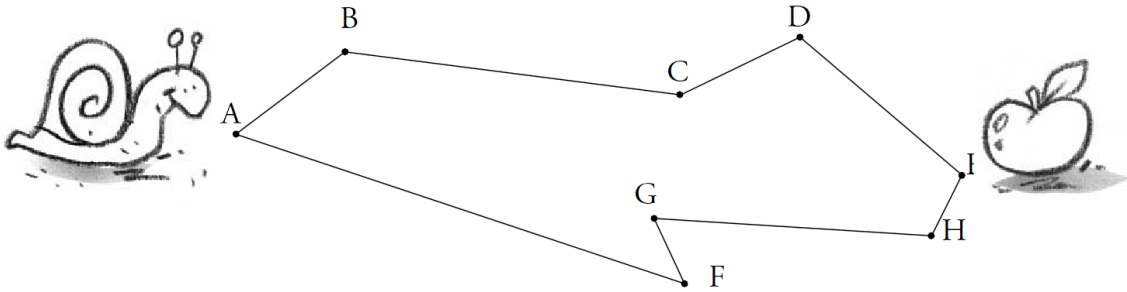


Ex
GM02

Centimètre, mètre et kilomètre

1- Pour aller sur la pomme, l'escargot a le choix entre deux chemins.



a- **Mesure les segments et complète les tableaux.**

| | AB | BC | CD | DE | longueur ABCDE |
|----------|----|----|----|----|-------------------|
| cm et mm | | | | | |

| | AF | FG | GH | HE | longueur AFGHE |
|----------|----|----|----|----|-------------------|
| cm et mm | | | | | |

b- **Quel chemin est le plus court ? _____**

2- Lis et complète avec l'unité qui convient : mm, cm ou m.

À la piscine, j'ai nagé 25 ____ .

La hauteur de la tour Eiffel est de 300 ____ .



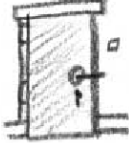


Ma petite sœur est née hier, elle mesure 52 ____ .

La longueur d'une coccinelle est de 8 ____ .

**EX
GM02**

Centimètre, mètre et kilomètre

3- Observe les objets. Mets une croix dans la bonne case.

| Taille réelle |  |  |  |  |  |
|---------------|---|---|---|---|---|
| 4 cm | | | | | |
| 2 m 20 cm | | | | | |
| 14 cm | | | | | |
| 19 m | | | | | |
| 80 cm | | | | | |

4- Aide Pierre à remplir sa grande feuille en complétant ces lignes.

Léa mesure 1 m 50 cm ou cm.

Théo mesure m cm ou 104 cm.

Arthur mesure 1 m 8 cm ou cm.

Julie mesure m cm ou 123 cm.

