


Mathématiques CP - Année 2016/2017 - Bilan 4

Date : _____

Ton prénom : _____

1  Ecris les réponses.

● ■ ★ ☾ ♥ ▲


2  Ecris les nombres qui manquent

3  Ecris les résultats.

$5 + 4 = \dots$	$5 + 3 = \dots$	$5 + \dots = 9$	$3 + \dots = 7$	$\dots + 1 = 8$
$6 + 4 = \dots$	$2 + 7 = \dots$	$4 + \dots = 8$	$\dots + 2 = 9$	$\dots + 0 = 5$

4  Complète.

$10 + 2 = \dots$	$20 + 2 = \dots$	$10 + 8 = \dots$	$20 + 9 = \dots$
$20 + 4 = \dots$	$30 + 7 = \dots$	$30 + 1 = \dots$	$10 + 1 = \dots$
$30 + 3 = \dots$	$20 + 8 = \dots$	$10 + 5 = \dots$	$30 + 6 = \dots$

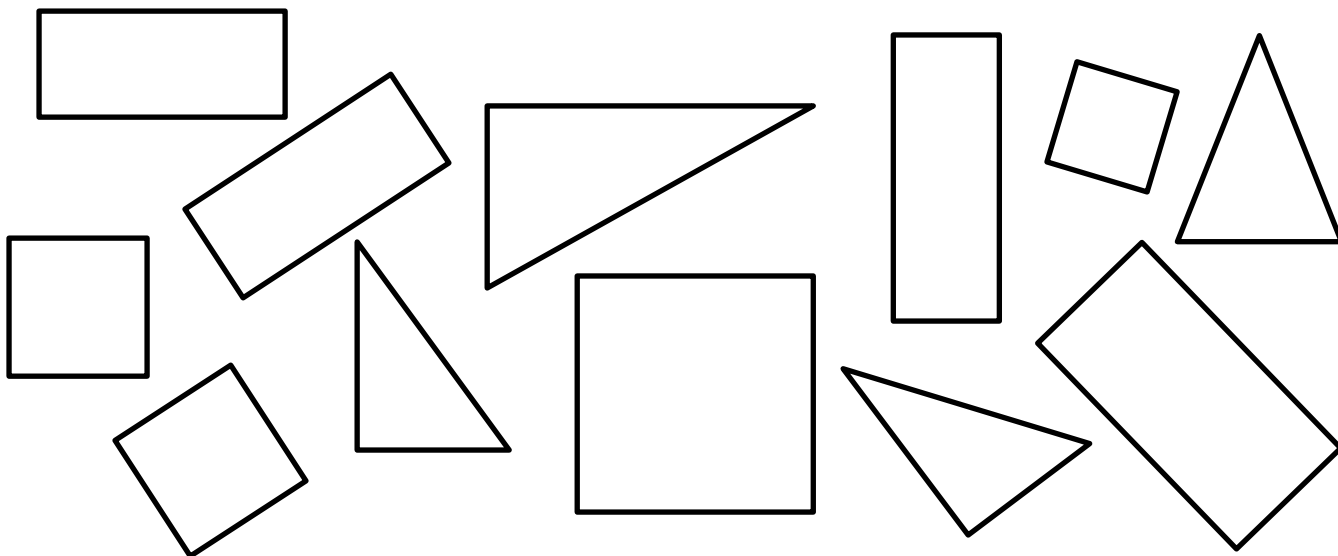
5  Ecris le nombre de points.



6



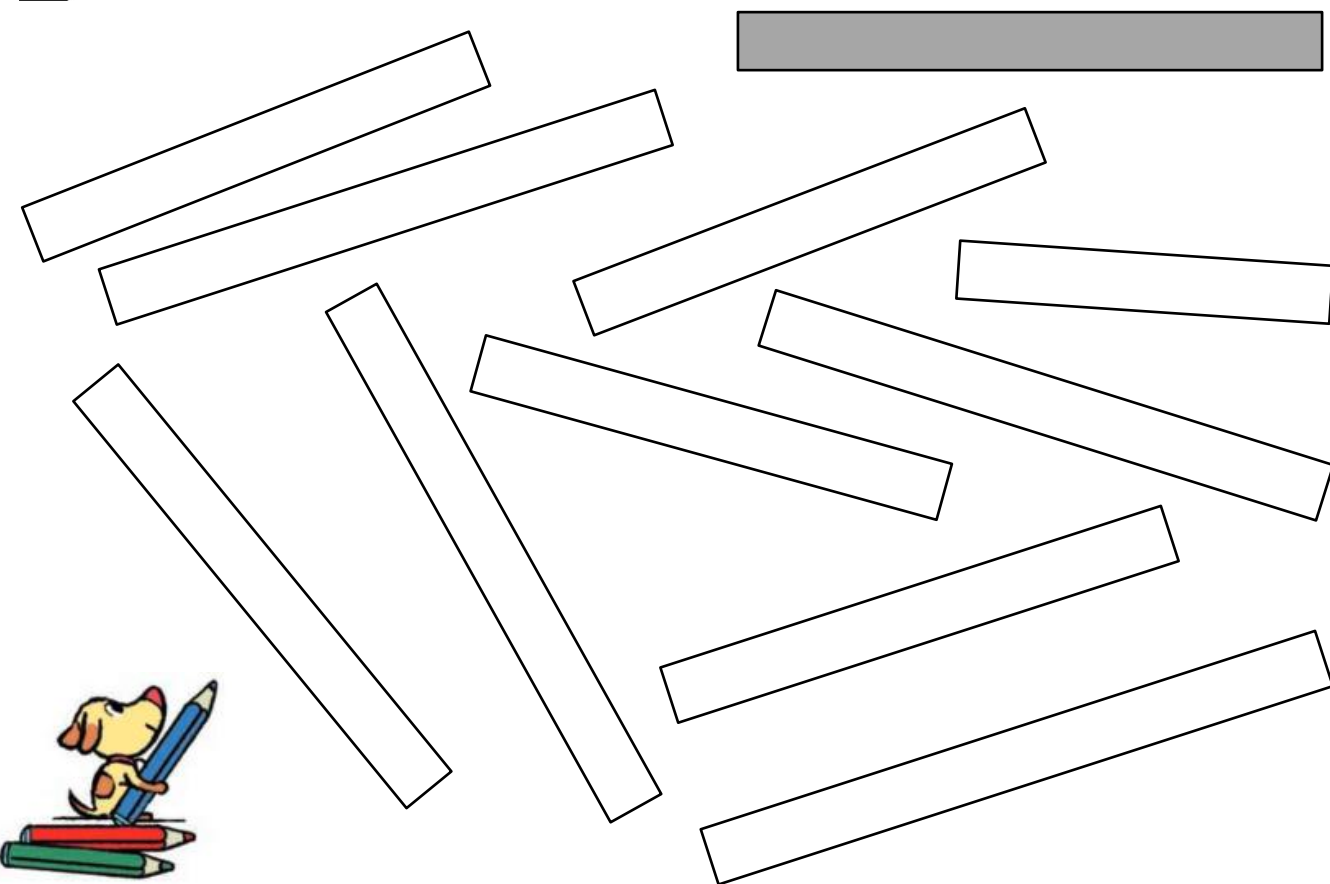
Colorie en jaune les rectangles, en rouge les carrés, en vert les triangles.



7



Colorie les bandes qui ont la même longueur que la bande grise.



8



Colle une ou plusieurs bandes pour faire un chemin qui a une longueur double de celle du chemin de Gribouille.

