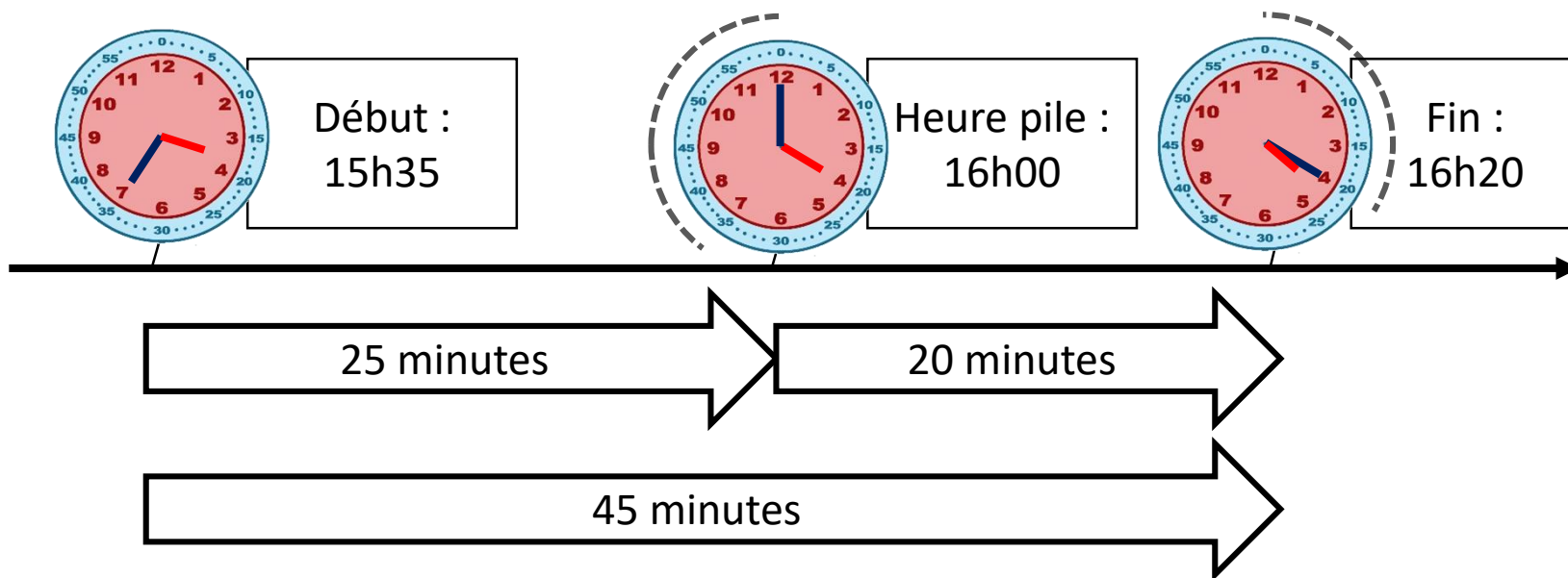


Pour calculer une durée, je trace une ligne de temps et je m'appuie sur les « heures piles ».

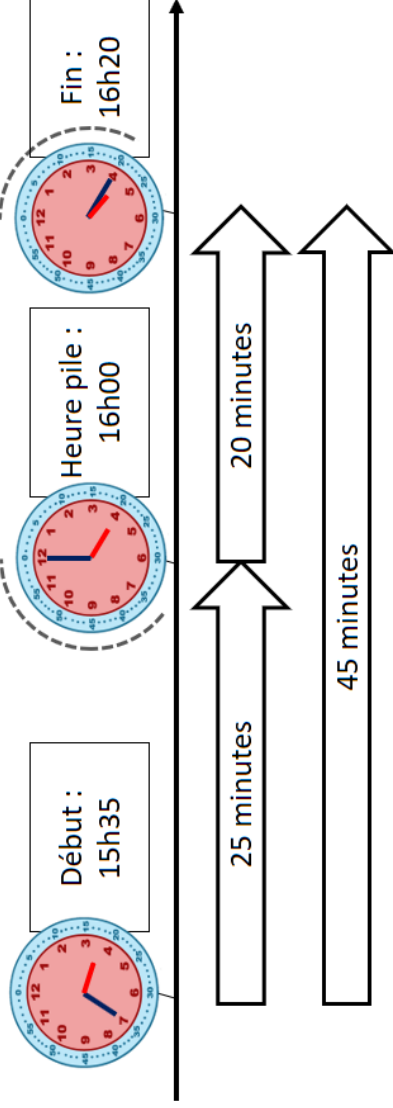
L'émission « Maths en folie » débute à **15h35** et termine à **16h20**.
Quelle est sa durée ?



L'émission a duré 45 minutes.

Pour calculer une durée, je trace une ligne de temps et je m'appuie sur les « heures piles ».

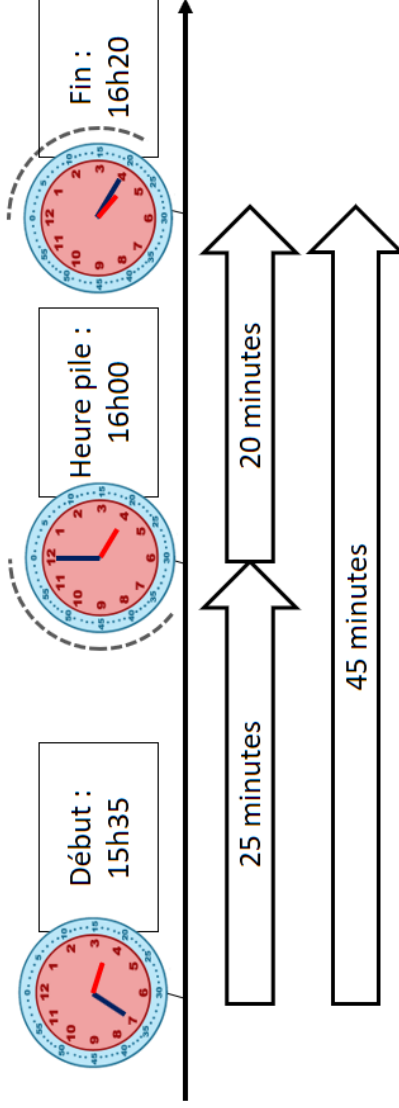
L'émission « Maths en folie » débute à **15h35** et termine à **16h20**.
Quelle est sa durée ?



L'émission a duré 45 minutes.

Pour calculer une durée, je trace une ligne de temps et je m'appuie sur les « heures piles ».

L'émission « Maths en folie » débute à **15h35** et termine à **16h20**.
Quelle est sa durée ?



L'émission a duré 45 minutes.