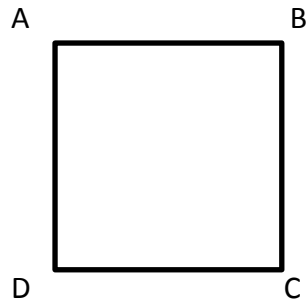
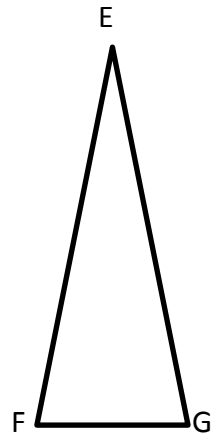


Mesure ces périmètres et complète :



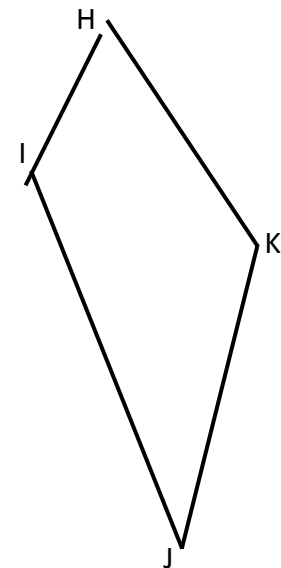
La figure ABCD mesurecm de côté et ses côtés sont : c'est un

Calcul du périmètre :
Le périmètre de cette figure est decm.



La figure EFG est un
Je dois donc mesurer chaque côté.
Le côté EF mesurecm
Le côté EG mesurecm
Le côté FG mesurecm.

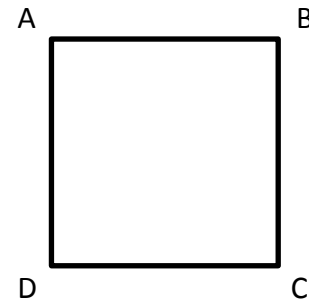
Calcule du périmètre :
Le périmètre de cette figure est decm.



Les côtés de la figure ne sont pas de la même longueur donc je mesure chaque côté.
le côté HI mesurecm
le côté IJ mesurecm
le côté JK mesurecm
le côté KH mesurecm

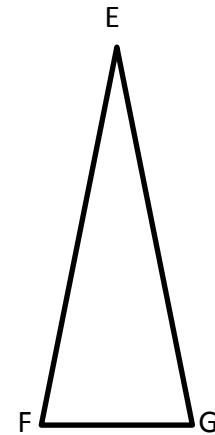
.....+.....+.....+..... =
Le périmètre de cette figure est decm.

Mesure ces périmètres et complète :



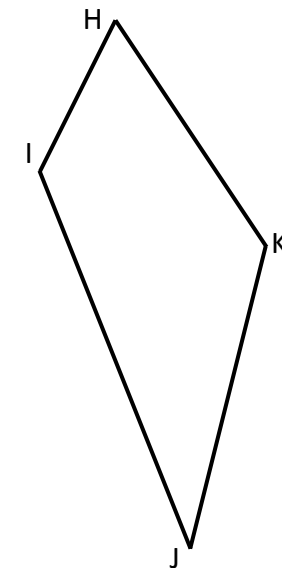
La figure ABCD mesurecm de côté et ses côtés sont : c'est un

Calcul du périmètre :
Le périmètre de cette figure est decm.



La figure EFG est un
Je dois donc mesurer chaque côté.
Le côté EF mesurecm
Le côté EG mesurecm
Le côté FG mesurecm.

Calcule du périmètre :
Le périmètre de cette figure est decm.



Les côtés de la figure ne sont pas de la même longueur donc je mesure chaque côté.
le côté HI mesurecm
le côté IJ mesurecm
le côté JK mesurecm
le côté KH mesurecm

.....+.....+.....+..... =
Le périmètre de cette figure est decm.