

RAID N°1

Tu rencontres 3 Pokémons
sur ton chemin.
Combien pèsent-ils ?




RAID N°2

Tu rencontres 3 Pokémons
sur ton chemin.
Combien pèsent-ils ?



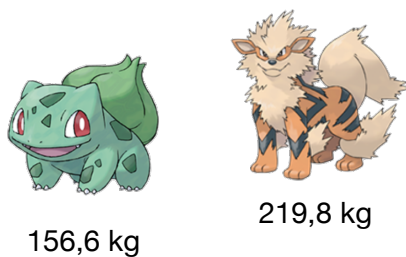
RAID N°3

Tu rencontres 3 Pokémons
sur ton chemin.
Combien pèsent-ils ?



RAID N°4

Tu rencontres 2 Pokémons
sur ton chemin.
Combien pèsent-ils ?




RAID N°5

Tu rencontres 4 Pokémons
sur ton chemin.
Combien pèsent-ils ?



RAID N°6

Tu rencontres 4 Pokémons
sur ton chemin.
Combien pèsent-ils ?



RAID N°7



Tu as trouvé un
sac : il contient
6 pokeballs.



150 g

Combien pèse ce sac ?

RAID N°8



Tu as trouvé un
sac : il contient
11 pokeballs.



200 g

Combien pèse ce sac ?

RAID N°9



Tu as trouvé un
sac : il contient
9 pokeballs.



50 g

Combien pèse ce sac ?

RAID
POKÉMON

RAID
POKÉMON

RAID
POKÉMON

RAID
POKÉMON

RAID
POKÉMON

RAID
POKÉMON

RAID
POKÉMON

RAID
POKÉMON

RAID
POKÉMON

RAID N°10

Tu rencontres 2 Pokémons
sur ton chemin.
Combien pèsent-ils ?



23,6 kg



259,85 kg

RAID N°11

Tu rencontres 3 Pokémons
sur ton chemin.
Combien pèsent-ils ?



36,15 kg



199,85 kg



40,25 kg

RAID N°12

Tu rencontres 3 Pokémons
sur ton chemin.
Combien pèsent-ils ?



126,6 kg



84,95 kg



41,75 kg

RAID N°13

Tu rencontres 2 Pokémons
sur ton chemin.
Combien pèsent-ils ?



129,6 kg



354,8 kg

RAID N°14

Tu rencontres 2 Pokémons
sur ton chemin.
Combien pèsent-ils ?



14,7 kg



97,55 kg

RAID N°15

Tu rencontres 4 Pokémons
sur ton chemin.
Combien pèsent-ils ?



24,2 kg



208,5 kg



99,2 kg



147,7 kg

RAID N°16



Tu as trouvé un
sac : il contient
8 pokeballs.



250 g

Combien pèse ce sac ?

RAID N°17



Tu as trouvé un
sac : il contient
6 pokeballs.



300 g

Combien pèse ce sac ?

RAID N°18



Tu as trouvé un
sac : il contient
9 pokeballs.



125 g

Combien pèse ce sac ?

RAID
POKÉMON

RAID
POKÉMON

RAID
POKÉMON

RAID
POKÉMON

RAID
POKÉMON

RAID
POKÉMON

RAID
POKÉMON

RAID
POKÉMON

RAID
POKÉMON